

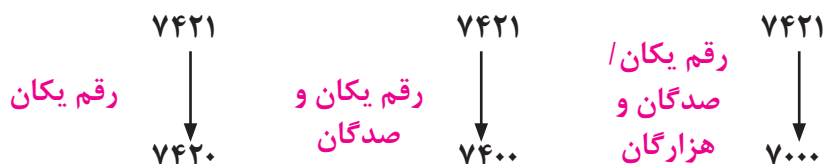


درس چهارم

موضوع: عددهای تقریبی

اهداف: آموزش تقریب در عدد چهاررقمی

گاهی برای محاسبه راحت تر، اعداد به صورت تقریبی حساب می‌شوند. برای این کار رقم یکان، دهگان و یا صدگان را حذف کنید و به جای آن صفر بگذارید.



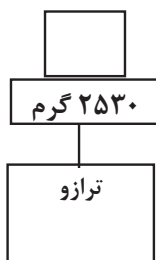
جرم اجسام را با وسیله‌ای به نام ترازو اندازه می‌گیرند. برای اندازه‌گیری جرم اجسام کوچک از واحد گرم و برای اندازه‌گیری اجسام بزرگ از کیلوگرم استفاده می‌شود.

تمرینات

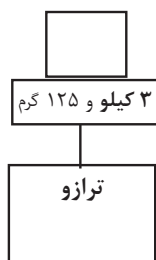
۱- عددهای زیر با حذف رقم یکان، دهگان و صدگان به صورت تقریبی بنویسید.

$5238 \rightarrow \dots\dots\dots$ $2308 \rightarrow \dots\dots\dots$

۲- جرم هر یک از اجناس زیر را بنویسید.



..... کیلو و گرم



گرم

۳- واحد مناسب برای اندازه گیری اجسام زیر را بنویسید.

جرم یک ماشین جرم یک خیار
جرم یک دفتر جرم یک هندوانه

۴- کدام جرم بیشتری را نشان می دهد؟

۳۲۵۰ گرم

۳ کیلوگرم و ۲۵۰ گرم

۵۳۰۰ گرم

۳۵۰۰ گرم