

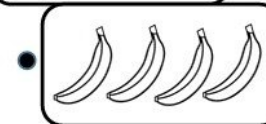

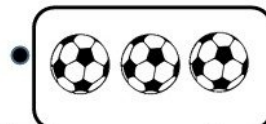
امتحان ریاضی کلاس اول

مدرسه :

نام و نام خانوادگی:








۱- فرزدم با خط کش هر دسته را به تعداد انگشتان مناسب وصل کن.



۲- الگوی زیر را یک بار تکرار کن. (دو شکل بعد الگو را بکش)



۳- هر شکل چند گوشه دارد؟ بنویس.


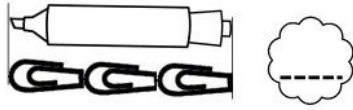


۴- به تعداد هر شکل از خانه های مقابل آن رنگ کن.


۲	۱	۴	۳
۳			۲
۱			۴
۴	۳	۲	۱

۵- الگوی شطرنجی زیر را ادامه بده.

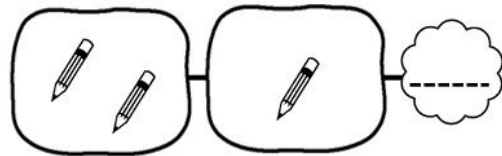
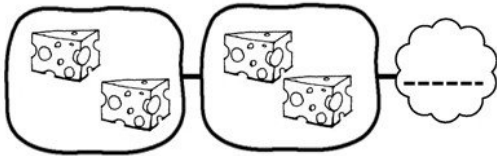




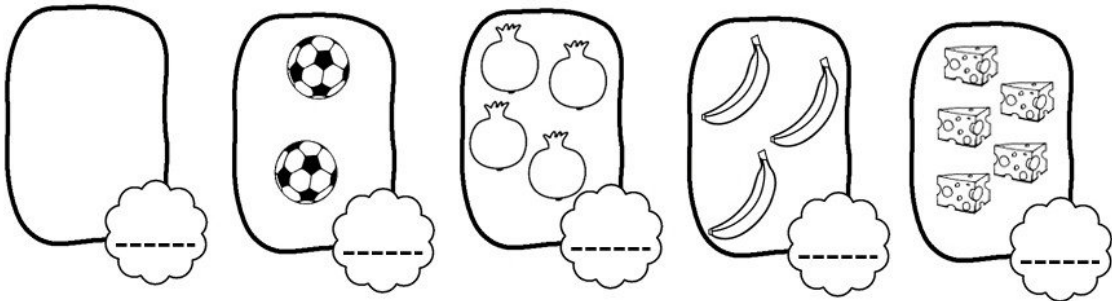
۷- از کدام شکل ۳ تا رو میز وجود دارد؟ آن ها را رنگ کن.




۸- شکل های سمت راست و سمت چپ با هم چند تا می شوند؟ عدد آن را بنویس.



۹- عدد مربوط به هر دسته را بنویس.



۱۰- الگوی شطرنجی زیر را ادامه بده.





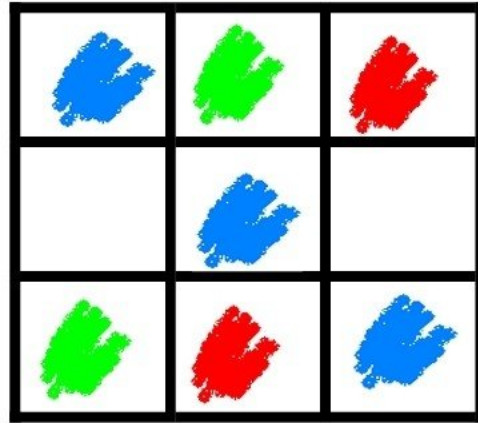

به تعداد شکل های سمت راست از شکل های سمت چپ رنگ بزن.


فرزندم در هر قسمت پپین کدام یک از این سه رنگ زیر وجود ندارد آنها را کامل کن.







جدول های زیر را با رنگ های مناسب کامل کن.



به تعداد شکل ها در هر دسته دایره بکش.

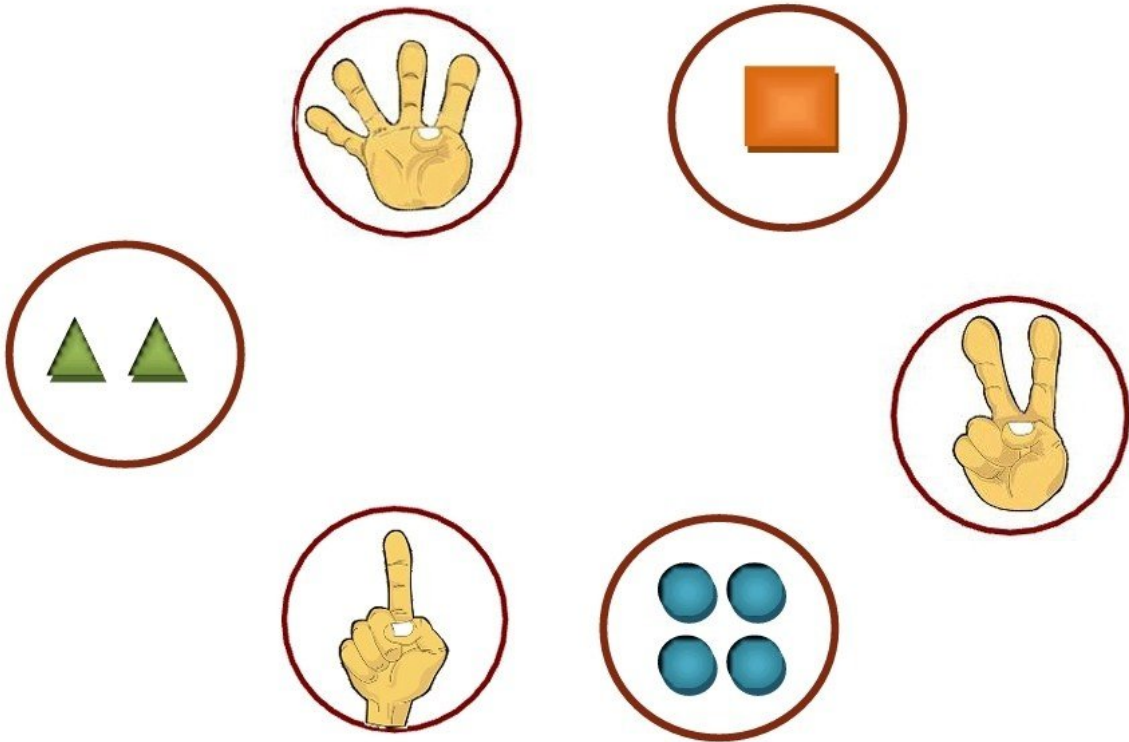


الگوها را ادامه بده.





هر دسته را با خط کش به تعداد انگشتت مناسبش وصل کن.




جدول ها را با شکل های مناسب کامل کن.






مربع هایی را که نقطه دارند با رنگ مناسب رنگ کن تا یک نقاشی شطرنجی درست شود.



فرزندانم شکل های زیر را با توجه به روش الگویابی رنگ بند.



پایه ی اول

به نام خدای خوب



دبستان






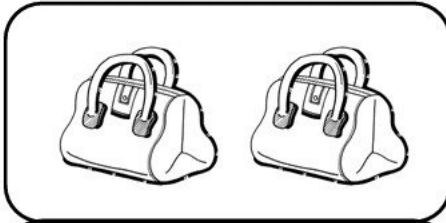
تکلیف ریاضی

تم ۲



نام زیبای من: .....

تاریخ: .....

۱- به تعداد شکل های سمت چپ از شکل های سمت راست رنگ بزن.





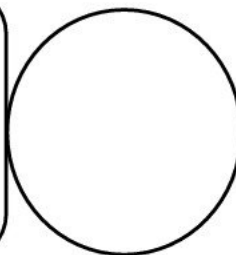
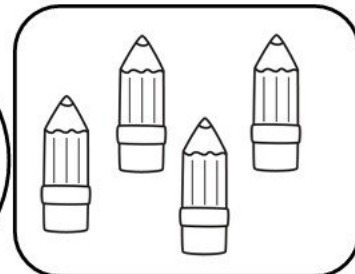

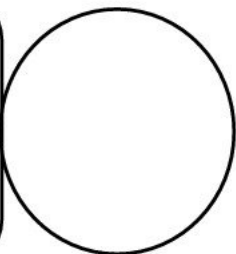

۲- جدول های شگفت انگیز را با شکل های داده شده کامل کن.





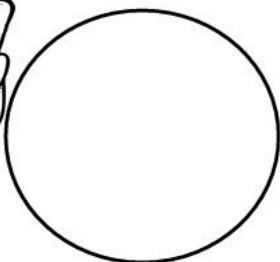
۳- الگوهای منظم زیر را ادامه بده.



۴- تعداد شکل های دسته ی سمت راست را با انگشتان دست راست و تعداد شکل های دسته ی سمت چپ را با انگشتان دست چپ خود نشان بده و به تعداد شکل ها داخل دایره ها مثلث بکش.



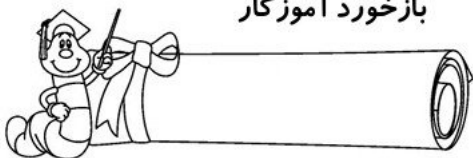
۵- اگر به انگشتان هر دست یکی اضافه شود چند می شود؟ (برای آن دایره بکش).



۶- خانه هایی را که یک نقطه دارد، سبز و خانه هایی را که دو نقطه دارد، قرمز کن.

	••				••				••
•		•		•		•		•	
	•				•				•

بازخورد آموزگار



خود سنجی

