

سوال‌های درس ۱۵ مطالعات اجتماعی (کوه‌ها و دشتهای زیبا)

۱. به پستی‌ها و بلندی‌های زمین می‌گویند.

۲. رشته کوه را تعریف کنید.

۳. بالاترین جای کوه است.

۴. بلندترین قله ایران چه نام دارد و ارتفاع آن چقدر است؟

۵. به زمین‌های پایین کوه می‌گویند.

۶. دشت چیست؟

۷. کشاورزی در دشتهای رونق دارد و دشتهایی که خاک دارند مناسب

کشاورزی نیستند.

۸. روستاها و شهرهای پرجمعیت در کجا به وجود می‌آیند؟

۹. جویبارها چگونه پدید می‌آیند؟

۱۰. رودها چگونه تشکیل می‌شوند؟

۱۱. آبرفت چیست؟

۱۲. جلگه چگونه به وجود می‌آید؟

۱۳. دو رشته کوه مهم ایران را نام برده و موقعیت جغرافیایی هر کدام را بنویسید.

۱۴. وسیع‌ترین دشتهای ایران کدامند؟

۱۵. پهناورترین جلگه‌ی ایران چه نام دارد؟

درس ۱۵ کوه‌ها و دشت‌های زیبا

ایران سرزمینی زیبا با کوه‌های بلند، دشت‌های وسیع و جلگه‌های سرسبز است. آیا در اطراف شهر یا روستای محل زندگی شما کوه یا دشت وجود دارد؟

می‌دانید که بعضی از قسمت‌های زمین بلندتر و بعضی از قسمت‌ها پست‌ترند. به پستی و بلندی‌های زمین، ناهمواری می‌گویند.

کوه و کوهپایه

ایران کوه‌های بلندی دارد. به کوه‌هایی که مانند زنجیر به یکدیگر متصل‌اند، رشته کوه می‌گوییم.




رشته کوه



قله‌ی دماوند





روستایی در کوهپایه



شهری در کوهپایه

بالاترین جای کوه، قله‌ی آن است. قله‌ی دماوند (۵۶۱۰ متر) بلندترین قله‌ی ایران است. به زمین‌های پایین کوه کوهپایه می‌گویند. در بیشتر کوهپایه‌ها شهرها و روستاهایی به وجود آمده‌اند.

دشت و جلگه

● کشور ما دشت‌های بزرگی دارد.

دشت‌ها زمین‌هایی صاف و هموارند. بعضی از دشت‌ها حاصلخیزند و کشاورزی در آنها رونق دارد، اما خاک بعضی دشت‌ها شور است و برای کشاورزی مناسب نیست. در کنار دشت‌های حاصلخیز، روستاها



دشت حاصلخیز



دشت کویری

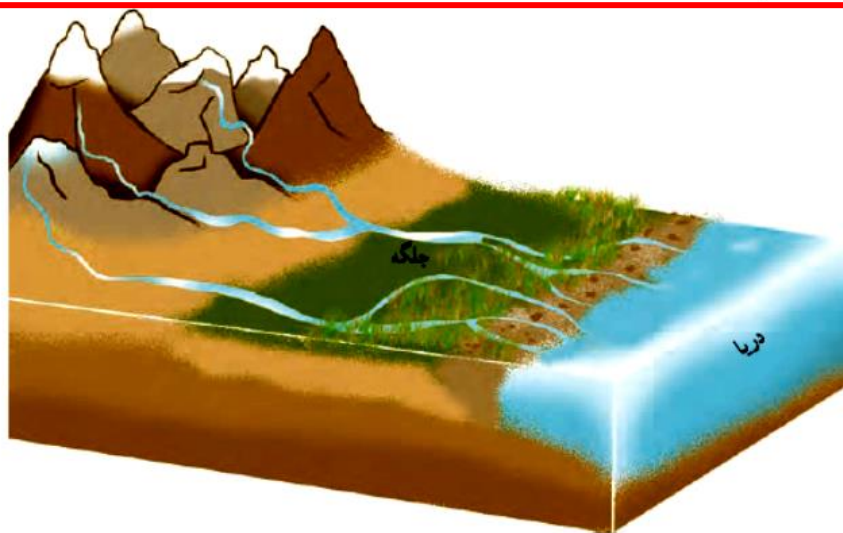
و شهرهای پرجمعیتی به وجود آمده‌اند.

● در کوهستان‌ها برف فراوان می‌بارد. با گرم شدن هوا، برف کوه‌ها به تدریج آب می‌شود و از جاری شدن آن در روی زمین، جویبار پدید می‌آید. جویبارها از کوه‌ها سرارزیر می‌شوند و از پیوستن آنها به یکدیگر رود تشکیل می‌شود.

رودها و جویبارها، دامنه‌ی کوه‌ها را می‌شویند و سنگ‌های بزرگ و کوچک را می‌غلطانند و با خود می‌برند.

به شن و ماسه و گل و لای که رودها همراه خود می‌برند، آبرفت می‌گوییم.

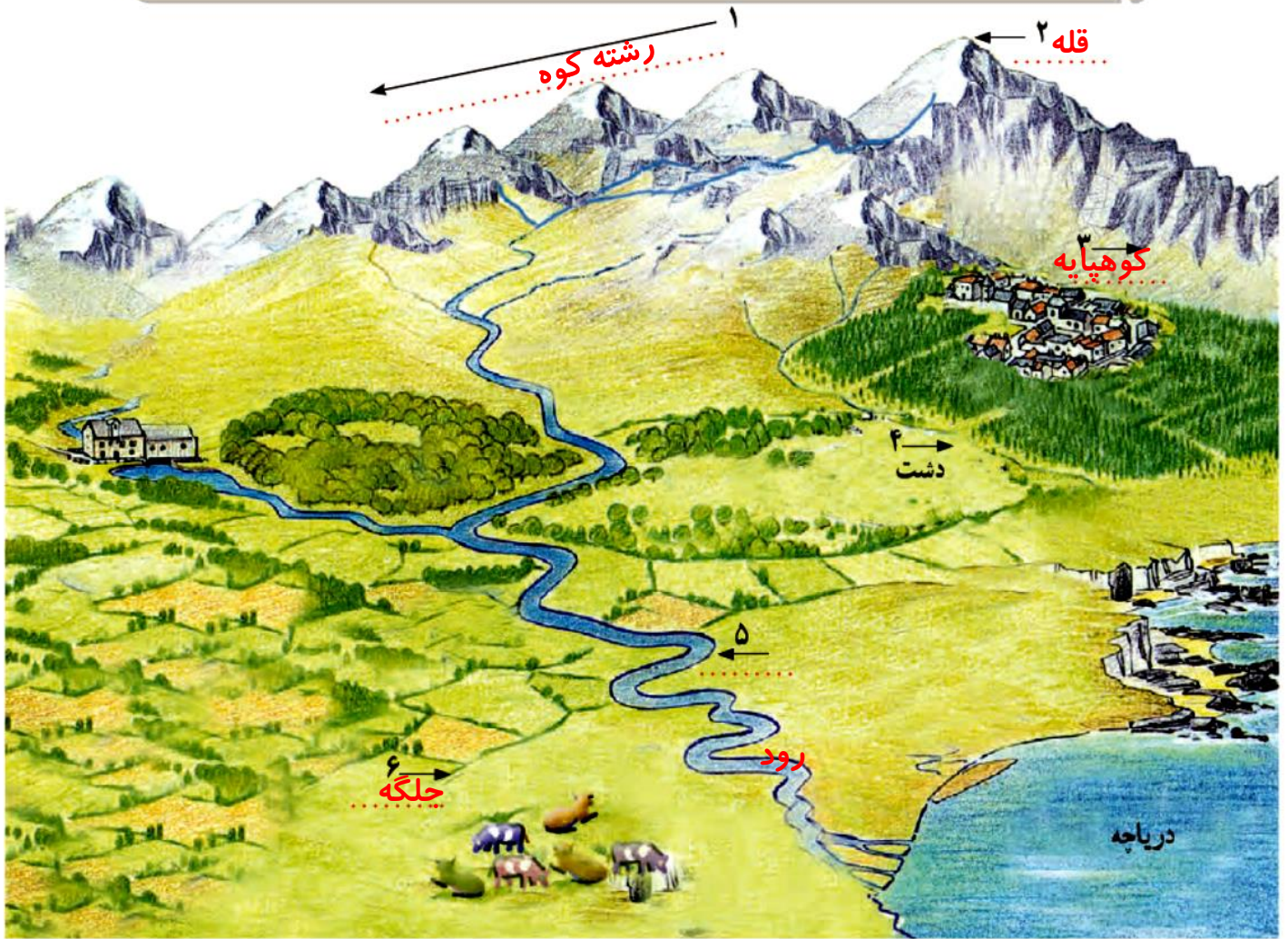
وقتی رودها به طرف دریا می‌روند، آبرفت فراوانی را که با خود آورده‌اند، در نزدیکی دریا ته‌نشین می‌کنند. این آبرفت‌ها روی هم انباشته می‌شوند و پس از سال‌ها جلگه را به وجود می‌آورند.



جلگه

○ فعالیت

به تصویر دقت کنید. با توجه به آنچه خوانده‌اید، در مقابل هر عدد در جای خالی کلمه‌ی مناسب (رشته کوه، قله، دشت، کوهپایه، رود و جلگه) بنویسید.



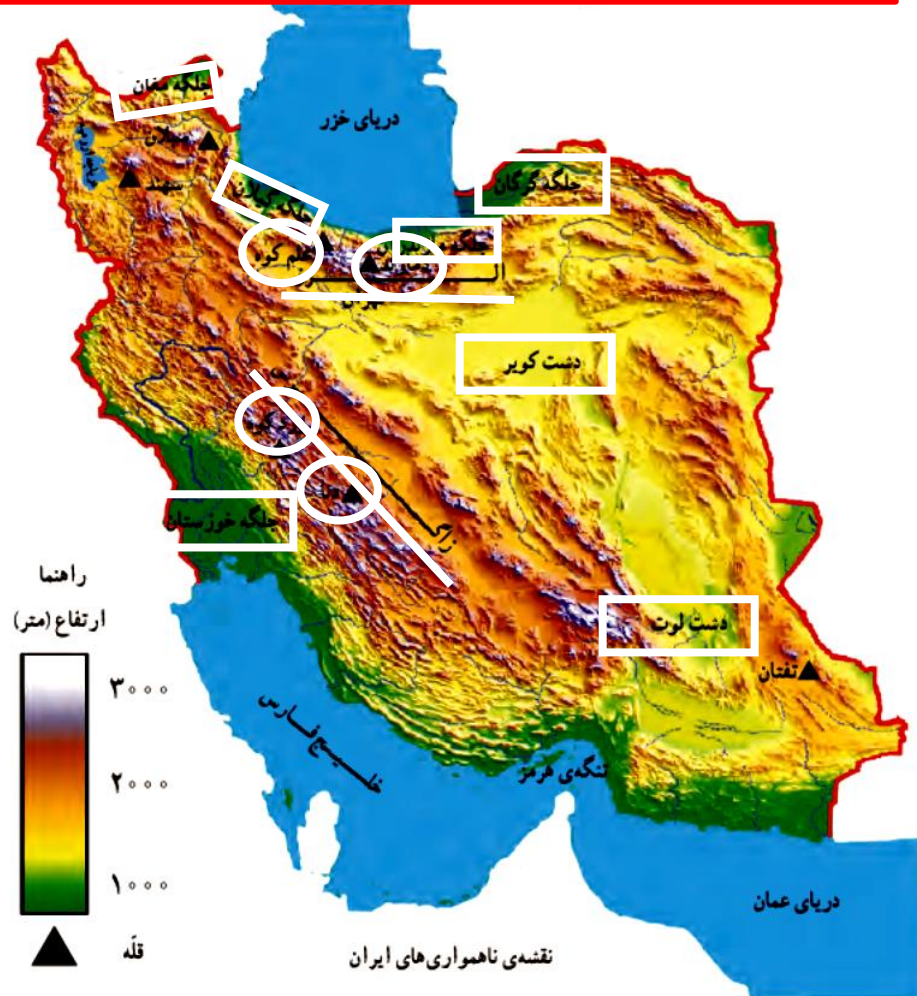
○ فعالیت

- ۱- آیا در اطراف محل زندگی شما کوه، دشت یا جلگه‌ای وجود دارد؟ اگر وجود دارد، تأثیر آن بر زندگی مردم منطقه چیست؟
- ۲- به تصویر بالا دقت کنید. سرزمین‌های پست را از نظر زندگی و سکونت با سرزمین‌های بلند (مرتفع) مقایسه کنید.
 - کدام یک برای خانه‌سازی مناسب‌تر است؟ چرا؟
 - کدام یک برای ساختن راه و جاده مناسب‌تر است؟ چرا؟
 - کدام یک برای فعالیت‌های کشاورزی مناسب‌تر است؟ چرا؟

۱. کوه و دشت وجود دارد. مردم در کوهپایه‌ها زندگی می‌کنند و دشت‌ها به خاطر شور بودن زمین قابل کشاورزی نیستند.
۲. زمین‌های پست برای خانه سازی مناسب هستند. چون آب و هوا برای سکونت است. زمین‌های پست برای جاده‌سازی مناسب‌تر است چون کندن و صاف کردن این نوع زمین‌ها آسانتر است. زمین هموار برای کشاورزی مناسب است. چون دارای خاک و آب و هوای بهتری برای کشاورزی هستند.

ناهمواری های ایران

به نقشه‌ی ایران توجه کنید. در این نقشه ناهمواری‌ها (پستی‌ها و بلندی‌ها) به رنگ‌های مختلف نشان داده شده‌اند. رنگ قهوه‌ای تیره نشانه‌ی چیست؟ رنگ‌های سبز و زرد چطور؟ **سبز جلگه هست و زرد دشت** همان‌طور که می‌بینید، دو رشته کوه مهم در کشور ایران وجود دارد. البرز رشته کوه بسیار بلندی است که در شمال ایران کشیده شده است. رشته کوه زاگرس در مغرب و جنوب غربی ایران قرار دارد. البته در قسمت‌های داخلی و شرقی ایران هم کوه‌های دیگری وجود دارند. در بین این کوه‌های بلند، دشت‌هایی نیز دیده می‌شود. دشت کویر و دشت لوت وسیع‌ترین دشت‌های ایران و جلگه‌ی خوزستان پهناورترین جلگه‌ی ایران است.



فعالیت

- ۱- روی نقشه، دو قله‌ی مهم رشته کوه البرز و دو قله‌ی مهم رشته کوه زاگرس را نشان دهید و نام ببرید.
- ۲- رشته کوه‌ها، دشت‌های وسیع و جلگه‌های ایران را نشان دهید.
- ۳- کاربرگ‌ی شماره‌ی ۱۰ (ناهمواری‌های ایران) را در کلاس کامل کنید و نام قله‌ها، دشت‌ها، رشته کوه‌ها و جلگه‌های مهم ایران را روی نقشه بنویسید.

۷۰

پاسخ فعالیت

۱. دو قله مهم رشته کوه البرز: دماوند و علم کوه - دو قله رشته کوه زاگرس: دنا و زردکوه

۱- رشته کوه ها را با مداد قهوه ای و دریاها را با مداد آبی رنگ کنید. نام دریاها را بنویسید.



۲- روی نقشه، نام رشته کوه البرز و زاگرس و قله های دماوند، دنا، زردکوه، علم کوه را بنویسید.

۳- نام جلگه های مهم ایران را در جای خالی بنویسید و جلگه های جنوبی ایران را با مداد سبز رنگ آمیزی کنید.