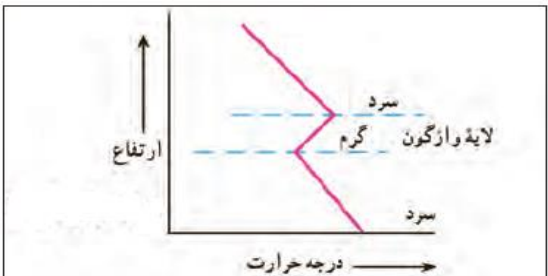
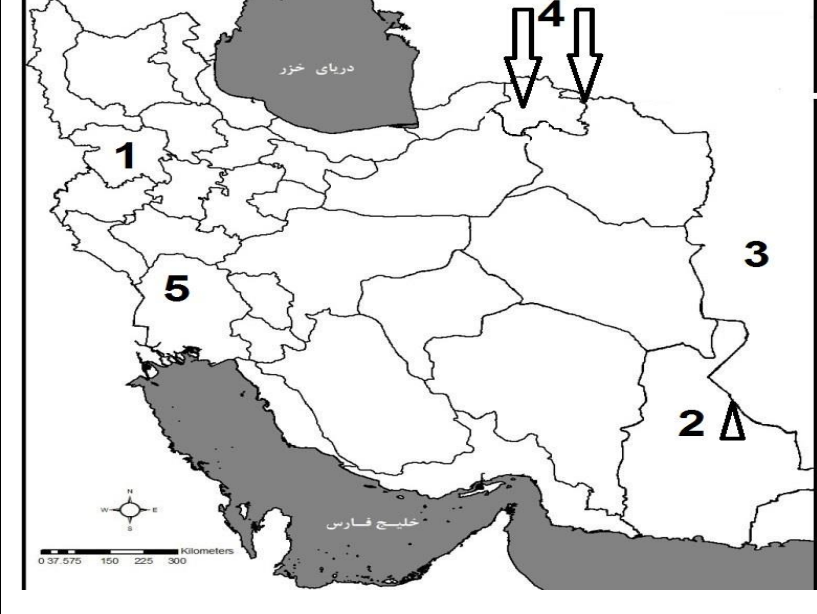



بسمه تعالی		
سؤالات امتحان درس : جغرافیای ایران و استان شناسی	اداره آموزش و پرورش شهرستان نهاوند	تاریخ : ۱۴۰۰/۳/۵
پایه /رشته : دهم - کلیه رشته ها	نوبت دوم - خرداد ماه	وقت امتحان : ۷۵ دقیقه
نام و نام خانوادگی :	سال تحصیلی ۱۴۰۰ - ۱۳۹۹	ساعت شروع : ۱۰/۳۰ صبح
	دبیرستان : مبتکران	نام دبیر : ساکی
ردیف	سؤالات	بارم
۱	گزینه صحیح را انتخاب کنید ( A ) شاخه جغرافیای رفتاری و فرهنگی از کدامیک از علوم زیر بهره نمی گیرد ؟ الف - انسان شناسی      ب - روانشناسی      ج - جامعه شناسی      د - جمعیت شناسی ( B ) اگر سیاست کنترل جمعیت در ابعاد شدید ادامه یابد ..... الف - باعث توسعه اقتصادی می شود      ب - هرم سنی به سمت سالمندی حرکت می کند ج - باعث افزایش نیروی جوان می شود      د - باعث تعادل جمعیت می شود ( C ) در تقسیمات سیاسی دوره ساسانیان « رستاک » معادل چیست ؟ الف - دهستان      ب - ایالت      ج - استان      د - شهرستان ( D ) کدام استانها بیشترین شاغلان بخش معدن کشور را دارند ؟ الف - یزد - کرمان - هرمزگان      ب - یزد - کرمان - اصفهان ج - اصفهان - مرکزی - یزد      د - اصفهان - کرمان - مرکزی	۲
۲	صحیح یا غلط بودن جملات زیر را با علامت ( ص ) یا ( غ ) مشخص کنید الف - محل دقیق هر پدیده با توجه به طول و عرض جغرافیایی ، موقعیت نسبی آن مکان است . ب - دریاچه خزر بزرگترین دریاچه داخلی ایران است . ج - مهاجرت روستائیان به شهر ، مهمترین مهاجرت ها در دهه های اخیر در ایران است د - بخش صنعت محرک اصلی رشد و موفقیت کشور به شمار می رود	۱
۳	جاهای خالی را با کلمات مناسب پر کنید الف - واژه جغرافیا اولین بار توسط ..... دانشمند ایرانی ارائه شد ب - فرضیه پژوهشگر به میزان دانش ، تجربیات و ..... در دسترس او بستگی دارد ج - با ساکن شدن انسان در یک مکان اولین سکونتگاه بنام ..... پدید آمد	۱/۵
۴	گزینه صحیح داخل پرانتز را انتخاب کنید . الف - بهترین مکانهای کشاورزی در کشورمان ( جلگه ها - دشتها ) هستند ب - در رأس نمودار هرم سنی جمعیت ، گروههای سنی ( جوانان - سالمندان ) قرار دارد ج - کوچکترین واحد تقسیمات کشوری با محدوده جغرافیایی معین ( دهستان - روستا ) می باشد د - سازمان جهانی گردشگری ایران را از نظر جاذبه تاریخی و فرهنگی در رتبه ( دهم - پنجم ) جهانی قرار داده است	۱
۵	هر یک از ویژگی های زیر مربوط به کدام یک از کانون های آبگیر می باشد ؟ الف - ذخیره برف خود را تا ابتدای ماههای گرم حفظ می کند ب - گاهی در آن بارش های کوتاه و موقتی رخ می دهد ج - حداقل در هشت ماه از سال بارش دارد	۱/۷۵
	ادامه سوالات صفحه بعد	

ادامه سوالات جغرافیای ایران - صفحه دوم

۲/۵	<p>۶ به سوالات زیر پاسخ کوتاه دهید</p> <p>الف - حذف اطلاعات غیر ضروری و حفظ اطلاعات مرتبط با پژوهش در کدام مرحله از پژوهش جغرافیا انجام می شود؟</p> <p>ب - علت پیدایش دشت ارژن در استان فارس چیست؟</p> <p>ج - در ایران به چه شهرهایی کلان شهر می گویند؟</p> <p>د - دو مورد از مزایای کشت گلخانه ای را بنویسید .</p> <p>ه - علت تنوع فراوان تولیدات باغی در ایران چیست؟</p>	
۱	<p>۷ شکل زیر مربوط به چه پدیده ای می باشد؟ توضیح دهید</p> 	
۱	<p>۸ در مورد خلیج فارس به سوالات پاسخ دهید</p> <p>الف - پر آب ترین رود ایران که به خلیج فارس می ریزد چه نام دارد؟</p> <p>ب - به خلیج های کوچک سواحل خلیج فارس چه می گویند؟</p> <p>ج - بزرگترین جزیره خلیج فارس را نام ببرید</p> <p>د - خلیج فارس از طریق کدام دریا با آبهای آزاد ارتباط دارد؟</p>	
۱	<p>۹ حوضه آبریز را تعریف کنید</p>	
۱	<p>۱۰ تعداد شهرهای ایران در کدام مناطق از نظر ناهمواریها بیشتر و در کدام مناطق کمتر است چرا؟ (دشت - جلگه - پای کوه - مرتفع)</p>	
۱	<p>۱۱ با توجه به آمار داده شده رشد مطلق و زمان دو برابر شدن جمعیت در آن را با ذکر فرمول محاسبه کنید (تعداد موالید ۴۰۰۰۰۰ - مرگ و میر ۵۰۰۰۰ - مهاجر پذیری ۱۵۰۰۰۰ - مهاجر فرستی ۱۰۰۰۰۰ - کل جمعیت ۲۰ میلیون نفر)</p>	
۱/۲۵	<p>۱۲ با توجه به نقشه نام پدیده های جغرافیایی مشخص شده را بنویسید</p> <p>۱ - نام استان</p> <p>۲ - نام کوه</p> <p>۳ - نام کشور</p> <p>۴ - نام توده هوا</p> <p>۵ - نام جلگه</p> 	

	ادامه سوالات در صفحه بعد	
	ادامه سوالات جغرافیای ایران و استان شناسی - صفحه سوم	
	سوالات استان شناسی همدان	
۱۳	ارتفاعات جنوب غربی استان در چه دوره ای دچار چین خوردگی و گسل شده اند؟	/۵
۱۴	هر یک از کوههای زیر در کدام شهرستان واقع شده اند؟ الف - بوقاطی                      ب - خان گرمز	/۵
۱۵	علت شکل گیری دشتهای فرسایشی چیست؟	/۵
۱۶	گرمترین و پر باران ترین مناطق استان را نام ببرید	/۵
۱۷	رود گاماسیاب از کجا سرچشمه می گیرد و در نهایت به کجا می ریزد؟	/۵
۱۸	دو مورد از مشکلات منابع آب استان را نام ببرید .	/۵
۱۹	چهار مورد از پیامدها و مشکلات مهاجرفرستی و کاهش جمعیت در استان را بنویسید	۱
۲۰	از نظر جمعیتی ، پر تراکم ترین نقطه استان شهرستان ..... و کم تراکم ترین شهرستان ..... است	/۵
۲۱	نام شهرستانهای شماره گذاری شده روی نقشه را بنویسید ( شماره ۱ و ۲ )	/۵
		
۲۰	موفق باشید - ساکی	