

معاون پرورشی مدرسه‌ی ایمان از بین دانش‌آموزان یک کلاس برای رشته‌های ورزشی ثبت نام کرد. نام دانش‌آموزان و رشته‌ی مورد علاقه‌ی آن‌ها در زیر آمده است. با توجه به اطلاعات داده شده، جدول را کامل کن.

فوتبال ← علی - حسن - مرتضی - محسن - رضا - امیر
 شنا ← حمید - ایمان - رحیم - سامان - سینا - امین - تقی - محمد
 فوتسال ← علیرضا - امیرعلی - امیرحسین - جواد
 کاراته ← مجید - محمدحسین - محمدجواد - مهدی - هادی

رشته‌های ورزشی	سرشماری با چوب‌خط	تعداد
فوتبال		
شنا		
فوتسال		
کاراته		
مجموع		

در کدام رشته دانش‌آموزان بیشتری ثبت نام کرده‌اند؟

کدام رشته کمترین تعداد ثبت نام را داشته است؟

تعداد کل نفرات شرکت کننده در رشته‌های ورزشی چه عددی است؟

عدد مجموع باید چند باشد؟

برنامه‌ی درسی دانش‌آموزان یک کلاس در دبستان دانش به شکل زیر است. با توجه به آن، جدول را کامل کن.

ساعات آموزشی				ایام هفته
چهارم	سوم	دوم	اول	
علوم	ریاضی	فارسی	فارسی	شنبه
فارسی	ریاضی	ریاضی	قرآن	یکشنبه
فارسی	املا	ورزش	ورزش	دوشنبه
املا	ریاضی	فارسی	فارسی	سه شنبه
ریاضی	علوم	علوم	املا	چهارشنبه


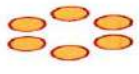




عنوان درس	چوب‌خط	تعداد
فارسی		
املا		
قرآن		
ریاضی		
علوم		
ورزش		

تعداد ساعات‌های آموزشی علوم و ریاضی روی هم چند ساعت است؟

ساعت آموزشی کدام درس در طول هفته بیشتر از سایر درس‌هاست؟

در مجموع، دانش‌آموزان این کلاس در هفته چند ساعت آموزش دارند؟

مانند نمونه کامل کن و به سوالات زیر پاسخ بده.

	فرد	زوج	۸
	فرد	زوج	
	فرد	زوج	
	فرد	زوج	
	فرد	زوج	
	فرد	زوج	

اولین عدد فرد بعد از عدد ۹ چه عددی است؟
 اولین عدد زوج بعد از عدد ۲۰ چه عددی است؟
 فکر می‌کنی عدد ۵۸۲ زوج است یا فرد؟

در هر دسته دور اعداد فرد، خط بسته بکش.

۱۱	۱۰	۲۱	۲۰
۳		۲۲	

۱	۵	۴	۸
۱۲		۹	

در هفته‌ی گذشته حمیده ۴ صفحه از کتاب ریاضی، ۷ صفحه از کتاب علوم، ۴ صفحه از کتاب فارسی و ۵ صفحه از کتاب تاریخ خود را مطالعه کرده است. جدول و نمودار مربوط به مطالعه‌ی حمیده را در هفته‌ی گذشته کامل کن.





عنوان درس	چوب خط	تعداد
ریاضی		
علوم		
فارسی		
تاریخ		

کتاب‌ها → ریاضی علوم فارسی تاریخ

تعداد صفحه‌ها ↑


حمیده در هفته‌ی گذشته چند صفحه مطالعه کرده است؟
 کدام درس‌ها را به یک اندازه مطالعه کرده است؟
 بیشترین مطالعه‌ی حمیده مربوط به کدام درس است؟

مانند نمونه کامل کن.

	تا	تایی می‌شود
	تا	تایی می‌شود
	تا	تایی می‌شود
	تا	تایی می‌شود

با توجه به نمودار، جدول را کامل کن.

نمودار حیوانات مزرعه‌ی عمو علی



تعداد	نام حیوان
	اسب
	بز
	جوجه
	سگ

عمو علی در مزرعه‌ی خود چند بز دارد؟

تعداد کدام حیوان در این مزرعه بیشتر از تعداد سایر حیوانات است؟

مجموع حیواناتی که عمو علی در مزرعه دارد، چند است؟

مسئله‌های زیر را حل کن.

مریم یک پاک‌کن و یک مداد تراش خرید و ۴۰۰ ریال به فروشنده داد. اگر قیمت پاک‌کن ۲۲۰ ریال باشد، قیمت مداد تراش چقدر است؟

در یک آموزشگاه زبان ۳۰۰ نفر دختر و پسر ثبت نام کرده‌اند. اگر ۱۷۰ نفر از این افراد دختر باشند، چند پسر در این آموزشگاه ثبت نام کرده‌اند؟

پول امین و رضا ۹۵۰ ریال است. اگر پول امین ۴۵۰ ریال باشد، مقدار پول رضا را حساب کنید.

سارا در هر دست خود ۴ مداد دارد. سارا چند مداد دارد؟

در کلاس سوم مدرسه‌ی آزادی ۵ نیمکت بود که روی هر کدام ۲ نفر نشسته بودند. در این کلاس چند نفر روی نیمکت نشسته بودند؟

سارا و منیژه می‌خواستند نمودار دانش‌آموزان مدرسه‌ی خودشان را رسم کنند. تعداد دانش‌آموزان هر پایه به شرح زیر است.

پایه‌ی اول — ۱۲۶ نفر
پایه‌ی سوم — ۱۲۱ نفر
پایه‌ی پنجم — ۱۱۸ نفر
پایه‌ی دوم — ۹۳ نفر
پایه‌ی چهارم — ۸۹ نفر
پایه‌ی ششم — ۹۱ نفر

سارا و منیژه برای این که بتوانند این تعداد را به راحتی روی نمودار نشان دهند، تصمیم گرفتند هر ۱۰ دانش‌آموز را با یک نشان دهند.

حالا شما هم به نمودار ستونی برای مدرسه رسم کنید

تعدادی از افراد در کانون فرهنگی هنری برای شرکت در کلاس‌های مختلف ثبت نام کرده‌اند. در صورتی که هر نشان دهنده ۱۰ شرکت‌کننده باشد، با توجه به اطلاعات داده شده، جدول و نمودار را کامل کن.

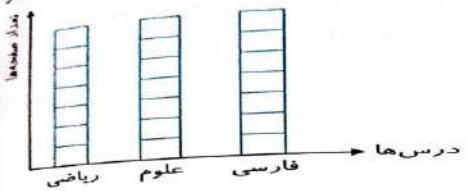
تئاتر — ۸۲ نفر
خوشنویسی — ۷۸ نفر
نقاشی — ۵۹ نفر
سفالگری — ۳۷ نفر
سرود — ۹۱ نفر

عنوان کلاس‌ها	تعداد شرکت‌کننده‌ها	تعداد تقریبی	نمودار تصویری
تئاتر	۸۲	۸۰	<input type="checkbox"/> <input type="checkbox"/> <input type="checkbox"/> <input type="checkbox"/> <input type="checkbox"/> <input type="checkbox"/> <input type="checkbox"/> <input type="checkbox"/> <input type="checkbox"/> <input type="checkbox"/> <input type="checkbox"/>
نقاشی			
سرود			
خوشنویسی			
سفالگری			




بیشترین تعداد شرکت‌کننده‌ها مربوط به کدام رشته است؟
 کدام رشته کمترین تعداد شرکت‌کننده را داشته است؟
 مجموع نفرات شرکت‌کننده در رشته‌های تئاتر و نقاشی و سفالگری چند است؟

در هفته‌ی گذشته حمیده ۱ ساعت ریاضی، ۲ ساعت علوم و ۴ ساعت فارسی مطالعه کرده است. نمودار مربوط به مطالعه‌ی حمیده را در هفته‌ی گذشته با رنگ کردن کامل کن و به سؤال‌های زیر پاسخ بده.



حمیده در هفته‌ی گذشته چند ساعت مطالعه کرده است؟
 ۲ قسمت از ۷ قسمت مساوی مربوط به مطالعه‌ی کدام درس است؟
 عبارت مربوط به مطالعه‌ی فارسی را بنویس.



در خانه‌ی مصطفی مصرف گاز در کدام فصل از سال بیشتر است؟
 در کدام فصل سال آب بیشتری مصرف می‌شود؟
 در فصل تابستان کدام انرژی کمتر مصرف شده است؟
 مجموع مصرف گاز و برق در زمستان بیشتر است یا در تابستان؟