

$$۱- اگر f(x) = x - ۴ و g(x) = \begin{cases} \frac{x^2 - ۱۶}{x + ۴} & x \neq -۴ \\ k & x = -۴ \end{cases} ، k را طوری تعیین کنید که به ازای هر x ، f(x) = g(x)$$

واضح است که به ازای $k = -۸$ دو تابع کاملاً با هم برابر می‌شوند.

$$\left. \begin{matrix} f(-۴) = -۸ \\ g(-۴) = k \\ f(x) = g(x) \end{matrix} \right\} \rightarrow k = -۸$$

۲- a و b را طوری محاسبه کنید که نمودارهای دو تابع $y = ax^2 + x + b$ و $y = x + ۳a$ همدیگر را روی محور عرض‌ها در نقطه‌ای به عرض -۱ قطع کنند.

طول هر نقطه روی محور عرض‌ها برابر صفر است.

نقطه تقاطع $A = (۰, -۱)$

$$A \in y = ax^2 + x + b \rightarrow -۱ = b$$

$$A \in y = x + ۳a \rightarrow -۱ = ۳a \rightarrow a = -\frac{۱}{۳}$$

۳- مقدار a را طوری بیابید که $f = \{(a^2, ۳), (a^2 - ۴, ۵), (a + ۲, ۵), (۲a, ۳)\}$ یک تابع باشد.

(I) دو زوج $(a^2, ۳)$ و $(a + ۲, ۵)$ را در نظر می‌گیریم. چون y ها متفاوت است پس باید:

$$a^2 \neq a + ۲ \Rightarrow a \neq ۲, -۱$$

(II) در دو زوج $(۲a, ۳)$ و $(a^2 - ۴, ۵)$ هم y ها متفاوت است، پس باید:

$$a^2 - ۴ \neq ۲a \Rightarrow a^2 - ۲a - ۴ = ۰ \Rightarrow a \neq ۱ \pm \sqrt{۵}$$

بنابراین a هر عدد حقیقی می‌تواند باشد به جز $۱ \pm \sqrt{۵}$ و -۱ و ۲

۴- ضابطه‌ی تابع $y = f(x)$ جدول زیر را نوشته سپس با توجه به آن مقادیر زیر را محاسبه کنید.

x	۲	۳	۴	۵	۶
y	۵	۷	۹	۱۱	۱۳

الف) $f(x - ۳)$

ب) $f(1 + a)$

$$y = ۲x + ۱ \quad (۰/۵)$$

الف) $f(x - ۳) = ۲(x - ۳) + ۱ = ۲x - ۵ \quad (۰/۲۵)$

$$(۰/۲۵)$$

ب) $f(1 + a) = ۲(1 + a) + ۱ = ۲a + ۳ \quad (۰/۲۵)$

$$(۰/۲۵)$$

۵- نمودار تابع زیر را رسم کنید.

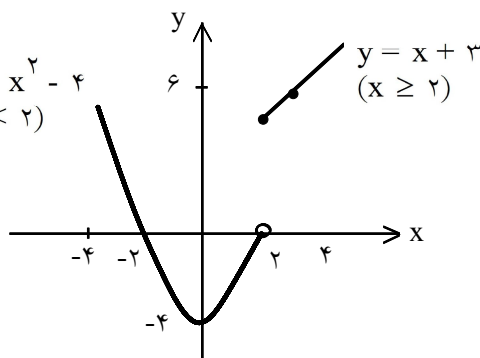
$$f(x) = \begin{cases} x^2 - ۴ & x < ۲ \\ x + ۳ & x \geq ۲ \end{cases}$$

$$\begin{cases} x < 2 \Rightarrow y = x^2 - 4 \\ x \geq 2 \Rightarrow y = x + 3 \end{cases}$$

x	-2	0	2
y	0	-4	0

x	2	3
y	5	6

$$y = x^2 - 4 \quad (x < 2)$$

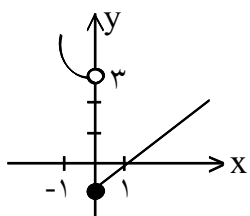


۶- تابع $f(x) = \begin{cases} x^2 + 3 & x < 0 \\ x - 1 & x \geq 0 \end{cases}$ داده شده است.

الف) نمودار تابع f را رسم کنید.
ب) حاصل $f(f(-1))$ را به دست آورید.

رسم سهمی (۰/۲۵)
رسم خط (۰/۲۵)

الف)



ب) $f(f(-1)) = f(4) = 3$ (۰/۲۵)

۷- مقادیر a و b را طوری تعیین کنید که سهمی $f(x) = ax^2 + bx$ از نقطه $(3, 5)$ بگذرد و تساوی $f(-1) = 3$ برقرار باشد.

$$\begin{cases} (3, 5) \Rightarrow 5 = 9a + 3b & (۰/۲۵) \\ (-1, 3) \Rightarrow 3 = a - b & (۰/۵) \end{cases} \Rightarrow \begin{cases} a = \frac{1}{6} & (۰/۲۵) \\ b = -\frac{11}{6} & (۰/۲۵) \end{cases}$$

$$\begin{cases} f(x) = \sqrt{x^2 - 5x} \\ g(x) = \sqrt{x} \times \sqrt{x - 5} \end{cases}$$

۸- آیا دو تابع زیر مساویند؟ برای پاسخ خود دلیل ارائه کنید.

مساوی نیستند. زیرا دامنه‌ها برابر نیستند. (۰/۲۵)

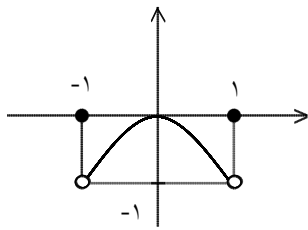
$D_f = (-\infty, 0] \cup [5, +\infty)$ (۰/۲۵) , $D_g = [5, +\infty)$ (۰/۲۵)

۹- اگر دو تابع $f(x) = \frac{3x - 1}{x + 2}$ و $g(x) = a + \frac{b}{x + 2}$ مساوی باشند، a و b را حساب کنید.

$$g(x) = a + \frac{b}{x + 2} = \frac{ax + 2a + b}{x + 2} = f(x) \Rightarrow \frac{ax + 2a + b}{x + 2} = \frac{3x - 1}{x + 2}$$

$$\Rightarrow \begin{cases} a = 3 \\ 2a + b = -1 \Rightarrow 6 + b = -1 \Rightarrow b = -7 \end{cases}$$

۱۰- نمودار تابع $y = x^2 [[x] - x]$ روی بازه $[-1, 1]$ را رسم کنید. ($[[]$ نماد جزء صحیح است).

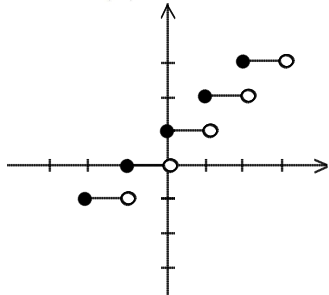


۱۱- نمودار تابع‌های زیر را رسم کنید.

الف) $f(x) = [x] + 1$, $-2 \leq x < 3$

ب) $f(x) = \left[\frac{1}{2}x \right]$, $-4 \leq x < 4$

الف) $f(x) = [x] + 1$, $-2 \leq x < 3$



$$-2 \leq x < -1 \Rightarrow [x] = -2 \Rightarrow y = -1$$

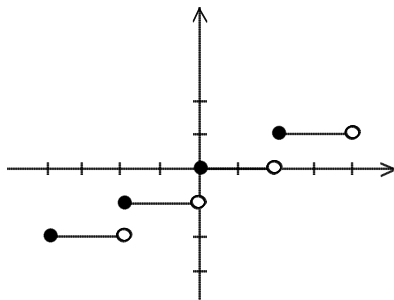
$$-1 \leq x < 0 \Rightarrow [x] = -1 \Rightarrow y = 0$$

$$0 \leq x < 1 \Rightarrow [x] = 0 \Rightarrow y = 1$$

$$1 \leq x < 2 \Rightarrow [x] = 1 \Rightarrow y = 2$$

$$2 \leq x < 3 \Rightarrow [x] = 2 \Rightarrow y = 3$$

ب) $f(x) = \left[\frac{1}{2}x \right]$, $-4 \leq x < 4$



$$-4 \leq x < -2 \quad -2 \leq \frac{1}{2}x < -1 \Rightarrow f(x) = -2$$

$$-2 \leq x < 0 \quad -1 \leq \frac{1}{2}x < 0 \Rightarrow f(x) = -1$$

$$0 \leq x < 2 \quad 0 \leq \frac{1}{2}x < 1 \Rightarrow f(x) = 0$$

$$2 \leq x < 4 \quad 1 \leq \frac{1}{2}x < 2 \Rightarrow f(x) = 1$$

۱۲- دامنه‌ی توابع زیر را بیابید.

الف) $f(x) = \frac{x-1}{2-x}$

ب) $f(x) = \frac{-3x}{x^2+1}$

پ) $f(x) = \frac{2x+3}{x^2+x-12}$

ت) $f(x) = \sqrt{3x+1}$

ث) $f(x) = 2\sqrt{x-3}$

ج) $f(x) = \sqrt{8-x}$

ب) $D_f = \mathbb{R}$

پ) $(x+4)(x-3) = 0 \Rightarrow \begin{cases} x = -4 \\ x = 3 \end{cases}$

$D_f = \mathbb{R} - \{-4, 3\}$

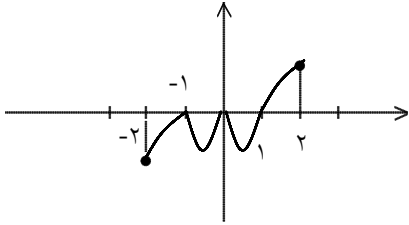
ت) $3x+1 \geq 0$, $x \geq -\frac{1}{3}$

$D_f = [-\frac{1}{3}, \infty)$

ث) $D_f = [0, \infty)$

ج) $D_f = (-\infty, 8]$

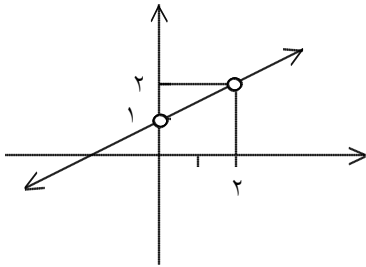
۱۳- اگر نمودار تابع $y = f(x)$ به صورت زیر باشد، دامنه‌ی تابع $g(x) = \sqrt{\frac{f(x)}{x^2 - x}}$ را بیابید.



$$\frac{f(x)}{x^2 - x} \geq 0$$

x	$-\infty$	-2	-1	0	1	2	$+\infty$
f(x)		-	•	-	•	+	
$x^2 - x$		+	+	•	-	+	
P		-	•	+	+	+	

$$D_f = (0, 1) \cup (1, 2] \cup \{-1\}$$



۱۴- نمودار یک تابع گویا به صورت زیر است. ضابطه‌ی آن را بنویسید.

ضابطه تابع خطی که از نقاط $A(0, 1)$ و $B(2, 2)$ می‌گذرد را حساب می‌کنیم.

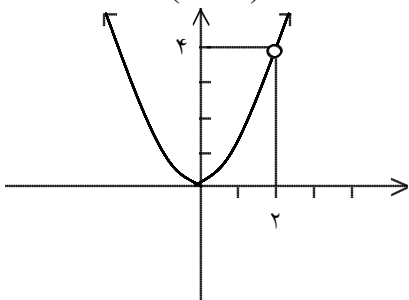
$$f(x) = ax + b$$

$$A(0, 1) \Rightarrow a(0) + b = 1 \Rightarrow b = 1$$

$$B(2, 2) \Rightarrow 2a + b = 2 \xrightarrow{b=1} 2a + 1 = 2 \Rightarrow a = \frac{1}{2} \Rightarrow f(x) = \frac{1}{2}x + 1$$

چون تابع در $x = 2$ و $x = 0$ توخالی است، بنابراین در x و $(x - 2)$ ضرب و تقسیم می‌کنیم.

$$y = \frac{x(x - 2) \left(\frac{1}{2}x + 1 \right)}{x(x - 2)}$$



۱۵- نمودار یک تابع گویا به صورت زیر است. ضابطه‌ی آن را بنویسید.

ضابطه‌ی یک تابع سهمی که رأس آن $S(0, 0)$ و از نقطه‌ی $A(2, 4)$ می‌گذرد را به دست می‌آوریم.

$$f(x) = ax^2 + bx + c$$

$$S(0, 0) \Rightarrow C = 0$$

$$x_0 = \frac{-b}{2a} = 0 \Rightarrow b = 0$$

$$y = ax^2 \xrightarrow[\substack{x=2 \\ y=4}]{\substack{x=2 \\ y=4}} 4 = a(2)^2 \Rightarrow a = 1 \Rightarrow f(x) = x^2$$

چون تابع در $x = 2$ توخالی است بنابراین در $(x - 2)$ ضرب و تقسیم می‌کنیم.

$$y = \frac{(x - 2)x^2}{x - 2}$$

$$4x^2 + [x] + [-x] = 0$$

۱۶- مقدار x را حساب کنید. ([] نماد جزء صحیح است.)

$$[x] + [-x] = \begin{cases} 0 & x \in \mathbb{Z} \\ -1 & x \notin \mathbb{Z} \end{cases}$$

$$x \in \mathbb{Z} \Rightarrow 4x^2 = 0 \Rightarrow x = 0 \quad \text{ق ق}$$

$$x \notin \mathbb{Z} \Rightarrow 4x^2 - 1 = 0 \Rightarrow x = \pm \frac{1}{2} \quad \text{ق ق}$$

۱۷- اگر دامنه دو تابع $f(x) = \sqrt{x^2 - 11x + 10}$ و $g(x) = \sqrt{|x - a| - b}$ برابر باشند a, b را حساب کنید.

$$x^2 - 11x + 10 \geq 0 \Rightarrow (x - 1)(x - 10) \geq 0 \Rightarrow x \geq 10 \text{ یا } x \leq 1$$

$$|x - a| - b \geq 0 \Rightarrow |x - a| \geq b \Rightarrow x - a \geq b \text{ یا } x - a \leq -b \Rightarrow x \geq a + b \text{ یا } x \leq a - b$$

$$\begin{cases} a + b = 10 \\ a - b = 1 \end{cases} \Rightarrow 2a = 11 \Rightarrow a = 5/2 \Rightarrow b = 4/2$$

۱۸- اگر $f(x) = \sqrt{3x - x^2}$ باشد، دامنه $f(1 - 2x)$ را حساب کنید.

$$3x - x^2 \geq 0 \Rightarrow 0 \leq x \leq 3 \xrightarrow{-1} 0 \leq 1 - 2x \leq 3 \xrightarrow{\div(-2)} \frac{1}{2} \geq x \geq -1$$

$$D_{f(1-2x)} = \left[-1, \frac{1}{2}\right]$$

۱۹- دامنه‌ی تابع زیر را حساب کنید.

$$g(x) = \frac{\sqrt{-x}}{\sqrt{3 - |x|}} \quad (\text{ب})$$

$$f(x) = \sqrt{4 - x^2} + \frac{1}{\sqrt{-x}} \quad (\text{الف})$$

$$\text{الف)} \begin{cases} 4 - x^2 \geq 0 \Rightarrow -2 \leq x \leq 2 \\ -x > 0 \Rightarrow x < 0 \end{cases} \xrightarrow{\text{اشتراک}} D_f = [-2, 0)$$

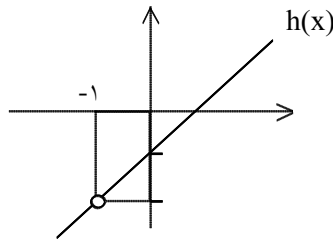
$$\text{ب)} \begin{cases} -x \geq 0 \Rightarrow x \leq 0 \\ 3 - |x| > 0 \Rightarrow |x| < 3 \Rightarrow -3 < x < 3 \end{cases} \xrightarrow{\text{اشتراک}} D_g = (-3, 0]$$

$$h(x) = \frac{f(x)}{g(x)} = \frac{x^2 - 1}{x + 1} = \frac{(x - 1)(x + 1)}{x + 1} = x - 1$$

$$D_h = \mathbb{R} - \{-1\}$$

$$h(x) = x - 1 \xrightarrow{x \neq -1} y \neq -2$$

x	۰	۱
y	-۱	۰



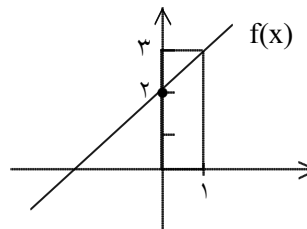
۲۱- نمودار $f(x) = \frac{x^3 + 8}{x^2 - 2x + 4}$ را رسم کنید.

$$x^2 - 2x + 4 = 0 \Rightarrow \Delta = 4 - 16 = -12 < 0 \Rightarrow \text{مخرج ریشه ندارد}$$

$$D = \mathbb{R}$$

$$f(x) = \frac{(x + 2)(x^2 - 2x + 4)}{x^2 - 2x + 4} \Rightarrow f(x) = x + 2$$

x	۰	۱
y	۲	۳



۲۲- دامنه توابع زیر را حساب کنید.

الف) $f(x) = \sqrt{1 - |x - 5|}$

الف) $1 - |x - 5| \geq 0 \Rightarrow |x - 5| \leq 1 \Rightarrow -1 \leq x - 5 \leq 1 \Rightarrow 4 \leq x \leq 6$

$$D_f = [4, 6]$$

ب) $|x - 2| - 7 = 0 \Rightarrow |x - 2| = 7 \Rightarrow x - 2 = \pm 7 \Rightarrow x = 9, -5$

$$D_g = \mathbb{R} - \{9, -5\}$$

۲۳- دامنه توابع زیر را مشخص کنید.

الف) $f(x) = \sqrt{\frac{5 + |x - 2|}{3 - |x + 3|}}$

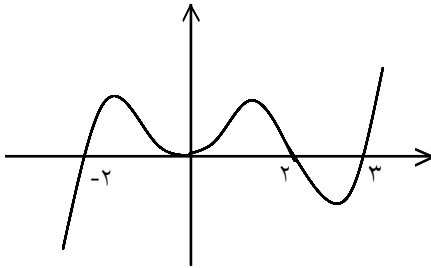
ب) $g(x) = \sqrt{x - |x|}$

الف) $\frac{5 + |x - 2|}{3 - |x + 3|} \geq 0$ همواره مثبت است $\rightarrow 3 - |x + 3| > 0 \Rightarrow |x + 3| < 3$

$$\Rightarrow -3 < x + 3 < 3 \xrightarrow{-3} -6 < x < 0 \Rightarrow D_f = (-6, 0)$$

ب) $x - |x| \geq 0 \Rightarrow x \geq |x| \xrightarrow{x > |x| \text{ غیرممکن است}} x = |x| \Rightarrow x \geq 0 \Rightarrow D_g = [0, +\infty)$

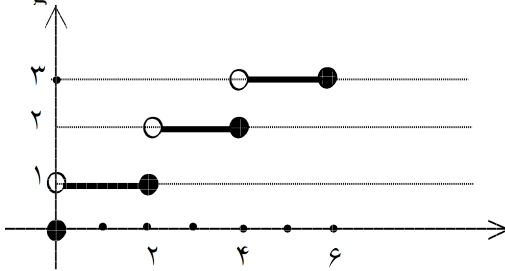
۲۴- با توجه به نمودار $f(x)$ دامنه تابع $g(x) = \sqrt{xf(x)}$ را حساب کنید.



x	-۲	۰	۲	۳
f(x)	-	+	+	-
x	-	-	+	+
xf(x)	+	-	+	-
xf(x) ≥ ۰	ج	ج	ج	ج

$xf(x) \geq 0$

$D_g = (-\infty, -2] \cup [0, 2] \cup [3, +\infty)$



۲۵- ضابطه‌ی تابعی را بیابید که نمودار آن به صورت مقابل باشد.

اولاً چون محور x ها دو واحد، دو واحد تقسیم‌بندی شده است، پس باید داخل براکت $\frac{x}{2}$ داشته باشیم. از طرفی چون

نقاط توپر سمت راست پاره‌خطهاست. پس باید $-\frac{x}{2}$ داخل براکت داشته باشیم. حال اگر $y = \left[-\frac{x}{2}\right]$ را در نظر

بگیریم. در بازه‌ی $0 \leq x < 2$ به صورت $y = -1$ در می‌آید. در حالی که نمودار به صورت $y = 1$ است پس کافی

است $y = -\left[\frac{-x}{2}\right]$ را در نظر بگیریم. این تابع تمام شرایط نمودار را دارد.

۲۶- با توجه به تساوی‌های زیر حدود x را بیابید. ([نماد جزء صحیح است.])

الف) $[x + 3] = 5$ (ب) $[3x] = 9$ (ج) $[x + [x]] = 8$ (د) $[x + 5[x]] = 18$

الف) $[x + 3] = 5 \Rightarrow 5 \leq x + 3 < 6 \xrightarrow{-3} 2 \leq x < 3$

ب) $[3x] = 9 \Rightarrow 9 \leq 3x < 10 \xrightarrow{\div 3} 3 \leq x < \frac{10}{3}$

ج) $[x] + [x] = 8 \Rightarrow 2[x] = 8 \Rightarrow [x] = 4 \Rightarrow 4 \leq x < 5$

د) $[x] + 5[x] = 18 \Rightarrow 6[x] = 18 \Rightarrow [x] = 3 \Rightarrow 3 \leq x < 4$

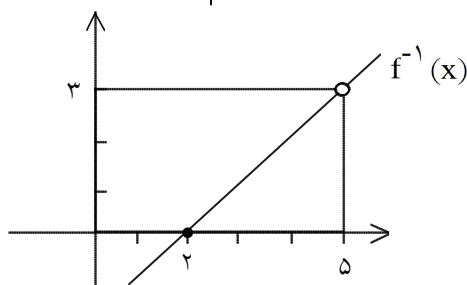
۲۷- وارون تابع $f(x) = \frac{x^2 - x - 6}{x - 3}$ را رسم کنید.

$$D_f = \mathbb{R} - \{3\} \Rightarrow f(x) = \frac{(x-3)(x+2)}{(x-3)} = x+2$$

x	۰	۳
y	۲	۵

در تابع وارون \longrightarrow

x	۲	۵
y	۰	۳



۲۸- اگر $f(x) = 3x - 9$ ، دامنه‌ی $g(x) = \frac{f(x)}{f^{-1}(3x)}$ را حساب کنید.

$$y = 3x - 9 \Rightarrow y + 9 = 3x \xrightarrow{\div 3} \frac{y+9}{3} = x \Rightarrow \frac{y}{3} + 3 = x \xrightarrow{x \leftrightarrow y} y = \frac{x}{3} + 3$$

$$\Rightarrow f^{-1}(x) = \frac{x}{3} + 3$$

$$f^{-1}(3x) = \frac{3x}{3} + 3 = x + 3$$

$$g(x) = \frac{f(x)}{f^{-1}(3x)} = \frac{3x - 9}{x + 3} \Rightarrow D_g = \mathbb{R} - \{-3\}$$

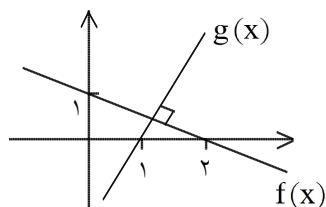
۲۹- اگر $f(x) + f^{-1}(2) = 7x + 14$ باشد، وارون تابع f را بنویسید.

$$(2, f^{-1}(2)) \in f^{-1} \Rightarrow (f^{-1}(2), 2) \in f \Rightarrow \begin{cases} x = f^{-1}(2) \Rightarrow 2 + f^{-1}(2) = 7f^{-1}(2) + 14 \\ f(x) = 2 \end{cases}$$

$$\Rightarrow 6f^{-1}(2) = -12 \Rightarrow f^{-1}(2) = -2 \xrightarrow{f^{-1}(2) = -2} f(x) - 2 = 7x + 14 \Rightarrow f(x) = 7x + 16$$

$$y = 7x + 16 \Rightarrow y - 16 = 7x \Rightarrow \frac{y-16}{7} = x \xrightarrow{x \leftrightarrow y} y = \frac{x-16}{7} \Rightarrow f^{-1}(x) = \frac{x-16}{7}$$

۳۰- ضابطه‌ی وارون تابع $g(x)$ را بنویسید.



شیب تابع f را حساب می‌کنیم.

از آنجا که f و g عمود برهم هستند شیب g قرینه و معکوس شیب f است.

$$m' = 2 \Rightarrow y - y_1 = m'(x - x_1) \Rightarrow y - 0 = 2(x - 1) \Rightarrow y = 2x - 2 \Rightarrow g(x) = 2x - 2$$

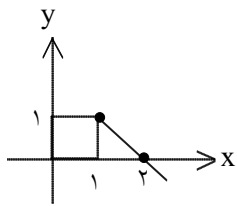
$$y = 2x - 2 \Rightarrow y + 2 = 2x \xrightarrow{\div 2} \frac{y+2}{2} = x \xrightarrow{x \leftrightarrow y} y = \frac{x+2}{2} \Rightarrow g^{-1}(x) = \frac{x+2}{2}$$

۳۱- وارون پذیری تابع $f(x) = -|x - 1| + 1$ را با شرط $x \geq 1$ بررسی کنید و در صورت وارون پذیر بودن، دامنه و ضابطه‌ی وارون آن را به دست آورید.

چون $x \geq 1$ است، پس حاصل $(x - 1)$ نامنفی بوده و خودش از قدرمطلق خارج می‌شود:

$$f(x) = -(x - 1) + 1 = -x + 1 + 1 = -x + 2$$

با رسم نمودار، معلوم می‌شود که تابع f یک به یک و در نتیجه وارون پذیر است.



$$y = -x + 2 \Rightarrow x = 2 - y \Rightarrow f^{-1}(x) = 2 - x$$

ضمناً از روی نمودار متوجه می‌شوید که برد آن $[-\infty, 1]$ است، پس دامنه‌ی f^{-1} هم برابر همین بازه است.

۳۲- یک به یک بودن تابع $y = (x + 2)^3 - 2$ را بررسی کرده و وارون آن را به دست آورید.

$$f(x_1) = f(x_2) \Leftrightarrow x_1 = x_2$$

$$(x_1 + 2)^3 - 2 = (x_2 + 2)^3 - 2 \quad (./25)$$

$$x_1 + 2 = x_2 + 2 \Rightarrow x_1 = x_2 \quad (./25) \text{ تابع یک به یک است}$$

$$\Rightarrow y = (x + 2)^3 - 2 \Rightarrow y + 2 = (x + 2)^3 \quad (./25) \Rightarrow x = \sqrt[3]{y + 2} - 2 \quad (./25)$$

$$\Rightarrow \text{تابع وارون} \Rightarrow f^{-1}(x) = \sqrt[3]{x + 2} - 2 \quad (./25)$$

$$y = 8x^3 + 12x^2 + 6x + 5$$

۳۳- تابع معکوس تابع مقابل را بدست آورید.

$$y = (2x + 1)^3 + 4 \Rightarrow y - 4 = (2x + 1)^3 \Rightarrow \sqrt[3]{y - 4} = 2x + 1$$

$$\Rightarrow x = \frac{\sqrt[3]{y - 4} - 1}{2} \Rightarrow f^{-1}(x) = \frac{\sqrt[3]{x - 4} - 1}{2}$$

۳۴- معکوس پذیری هر یک از توابع زیر را بررسی، ضابطه‌ی تابع معکوس آن‌ها را (در صورت وجود) بیابید.

الف : $f(x) = x^4 - 2x^2$ و $x \in [0, 1]$

ب : $f(x) = |x - 1|$ و $x \in [1, +\infty)$

ج : $f(x) = x^2 - 2x$ و $x \in [1, +\infty)$

د : $f(x) = 3x + |x|$ و $x \in [0, +\infty)$

$$y = (x^2 - 1)^2 - 1 \Rightarrow (x^2 - 1)^2 = y + 1 \Rightarrow |x^2 - 1| = \sqrt{y + 1} \xrightarrow{0 \leq x \leq 1} \quad (\text{الف})$$

$$1 - x^2 = \sqrt{y + 1} \Rightarrow x^2 = 1 - \sqrt{y + 1} \Rightarrow |x| = \sqrt{1 - \sqrt{y + 1}} \xrightarrow{0 < x < 1}$$

$$\Rightarrow x = \sqrt{1 - \sqrt{y + 1}} \Rightarrow f^{-1}(x) = \sqrt{1 - \sqrt{x + 1}}$$

$$x \geq 1 \Rightarrow f(x) = x - 1 \Rightarrow f^{-1}(x) = x + 1 \text{ و } x \geq 0 \quad (\text{ب})$$

(ج)

$$y = (x - 1)^2 - 1 \Rightarrow y + 1 = (x - 1)^2 \Rightarrow |x - 1| = \sqrt{y + 1} \xrightarrow{x \geq 1} x = 1 + \sqrt{y + 1} \Rightarrow f^{-1}(x) = 1 + \sqrt{x + 1}$$

$$x \geq 0 \Rightarrow f(x) = 4x \Rightarrow f^{-1}(x) = \frac{x}{4} \text{ و } D_{f^{-1}} = [0, +\infty) \quad (\text{د})$$

۳۵- ابتدا یک به یک بودن تابع f با ضابطه‌ی $f(x) = \begin{cases} x + 1 & x < 0 \\ x^2 + 1 & x \geq 0 \end{cases}$ را بررسی کنید، سپس در صورت وجود، معکوس تابع f را تعیین کنید.

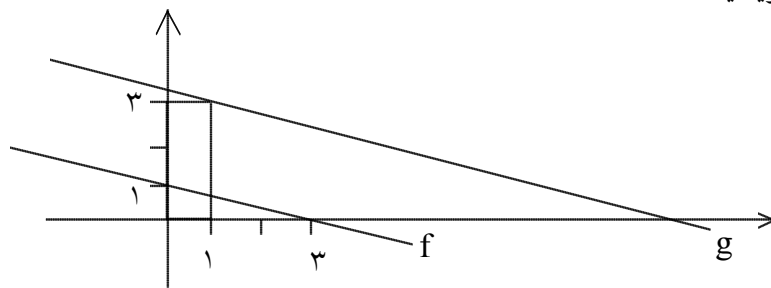
با بررسی یک به یک بودن شاخه‌ها و $R_1 \cap R_2 = \emptyset$ پس تابع یک به یک است و

$$y_1 = x + 1 \Rightarrow x = y_1 - 1$$

$$y_2 = x^2 + 1 \Rightarrow |x| = \sqrt{y_2 - 1} \xrightarrow{x \geq 0} x = \sqrt{y_2 - 1} \quad R_2 = [1, +\infty)$$

$$f^{-1}(x) = \begin{cases} x - 1 & x < 1 \\ \sqrt{x - 1} & x \geq 1 \end{cases}$$

۳۶- اگر دو تابع f و g موازی باشند، ضابطه‌ی g^{-1} را بنویسید.



$$\left. \begin{matrix} A(0, 1) \\ B(3, 0) \end{matrix} \right\} \Rightarrow m = \frac{y_2 - y_1}{x_2 - x_1} = \frac{0 - 1}{3 - 0} = -\frac{1}{3}$$

چون دو خط موازی هستند بنابراین شیب g نیز برابر $-\frac{1}{3}$ است.

$$C(1, 3) \Rightarrow y - 3 = -\frac{1}{3}(x - 1) \Rightarrow y = -\frac{1}{3}x + \frac{1}{3} + 3 \Rightarrow y = -\frac{1}{3}x + \frac{10}{3}$$

$$\Rightarrow g(x) = -\frac{1}{3}x + \frac{10}{3}$$

وبسایت آموزشی نمره یار - www.Nomreyar.com

$$y = -\frac{1}{3}x + \frac{10}{3} \Rightarrow \frac{1}{3}x = \frac{10}{3} - y \Rightarrow x = 10 - 3y \Rightarrow y = 10 - 3x$$

$$\Rightarrow g^{-1}(x) = 10 - 3x$$

$$\text{اگر } f = \left\{ (-4, 13), (-1, 7), (0, 5), \left(\frac{5}{2}, 0\right), (3, -5) \right\}$$

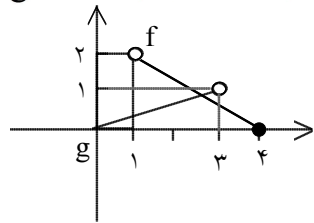
$$g = \{(-4, -7), (-2, -5), (0, -3), (3, 0), (5, 2), (9, 6)\}$$

را به دست آورید.

$$(f+g)(x) = \{(-4, 6), (0, 2), (3, -5)\}$$

$$(f-g)(x) = \{(-4, 20), (0, 8), (3, -5)\}$$

$$\frac{f}{g}(x) = \left\{ \left(-4, -\frac{13}{7}\right), \left(0, -\frac{5}{3}\right) \right\}$$



۳۸- با توجه به نمودار f و نمودار g و ضابطه f + g را بنویسید.

دامنه f + g :

$$D_f = (1, 4]$$

$$D_g = [0, 3) \Rightarrow D_{f+g} = D_f \cap D_g = (1, 4] \cap [0, 3) = (1, 3)$$

ضابطه f + g :

$$g: \begin{cases} A(0, 0) \\ B(3, 1) \end{cases} \Rightarrow m = \frac{y_2 - y_1}{x_2 - x_1} = \frac{1 - 0}{3 - 0} = \frac{1}{3} \Rightarrow y - y_1 = m(x - x_1) \Rightarrow y = \frac{1}{3}x$$

$$\Rightarrow g(x) = \frac{1}{3}x$$

$$f: \begin{cases} C(1, 2) \\ D(4, 0) \end{cases} \Rightarrow m = \frac{y_2 - y_1}{x_2 - x_1} = \frac{0 - 2}{4 - 1} = -\frac{2}{3} \Rightarrow y - y_1 = m(x - x_1) \Rightarrow y - 0 = -\frac{2}{3}(x - 4)$$

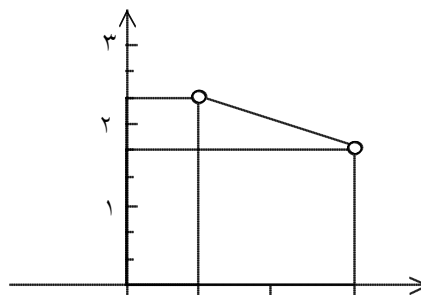
$$\Rightarrow f(x) = -\frac{2}{3}x + \frac{8}{3}$$

$$(f+g)(x) = f(x) + g(x) = \frac{1}{3}x - \frac{2}{3}x + \frac{8}{3} = -\frac{1}{3}x + \frac{8}{3}$$

نمودار f + g :

$$(f+g)(x) = -\frac{1}{3}x + \frac{8}{3}$$

x	1	3
y	$\frac{7}{3}$	$\frac{5}{3}$



۳۹- اگر $f(x) = \begin{cases} 2x + 1 & x \geq 1 \\ 3x - 2 & x < 1 \end{cases}$ و $g(x) = \begin{cases} 3 - 2x & x \geq 1 \\ 5x + 3 & x < 1 \end{cases}$ باشد توابع $f \pm g$ را محاسبه نمایید.

$$(f + g)(x) = f(x) + g(x) = \begin{cases} 2x + 1 + 3 - 2x & x \geq 1 \\ 3x - 2 + 5x + 3 & x < 1 \end{cases} \Rightarrow f(x) + g(x) = \begin{cases} 4 & x \geq 1 \\ 8x + 1 & x < 1 \end{cases}$$

$$(f - g)(x) = f(x) - g(x) = \begin{cases} 2x + 1 - 3 + 2x & x \geq 1 \\ 3x - 2 - 5x - 3 & x < 1 \end{cases} \Rightarrow f(x) - g(x) = \begin{cases} 4x - 2 & x \geq 1 \\ -2x - 5 & x < 1 \end{cases}$$

۴۰- برای توابع f و g داده شده در زیر، تابع‌های fog و gof و دامنه‌ی آن‌ها را مشخص نمایید.

$$f(x) = x + 2, \quad g(x) = x^2 - 3$$

$$(\text{fog})(x) = f(g(x)) = f(x^2 - 3) = x^2 - 3 + 2 = x^2 - 1$$

$$(\text{gof})(x) = g(f(x)) = g(x + 2) = (x + 2)^2 - 3 = x^2 + 4x + 1$$

$$D_f = \mathbb{R}$$

$$D_g = \mathbb{R}$$

$$D_{\text{fog}} = \{x \in D_g \mid g(x) \in D_f\} = \{x \in \mathbb{R} \mid x^2 - 3 \in \mathbb{R}\} = \mathbb{R}$$

$$D_{\text{gof}} = \{x \in D_f \mid f(x) \in D_g\} = \{x \in \mathbb{R} \mid x + 2 \in \mathbb{R}\} = \mathbb{R}$$