

$30^{\circ}N, 30,56^{\circ}E$ (بردسیر) $30,26^{\circ}N, 58^{\circ}E$ (سر دشت)

$55,31^{\circ}N, 56^{\circ}E$ (کوهیان)

۲- به نظر شما، آیا ممکن است برای نشان دادن طول و عرض جغرافیایی مکانی در کشور ایران از علامت های W (غرب) و S (جنوب) استفاده کنیم؟

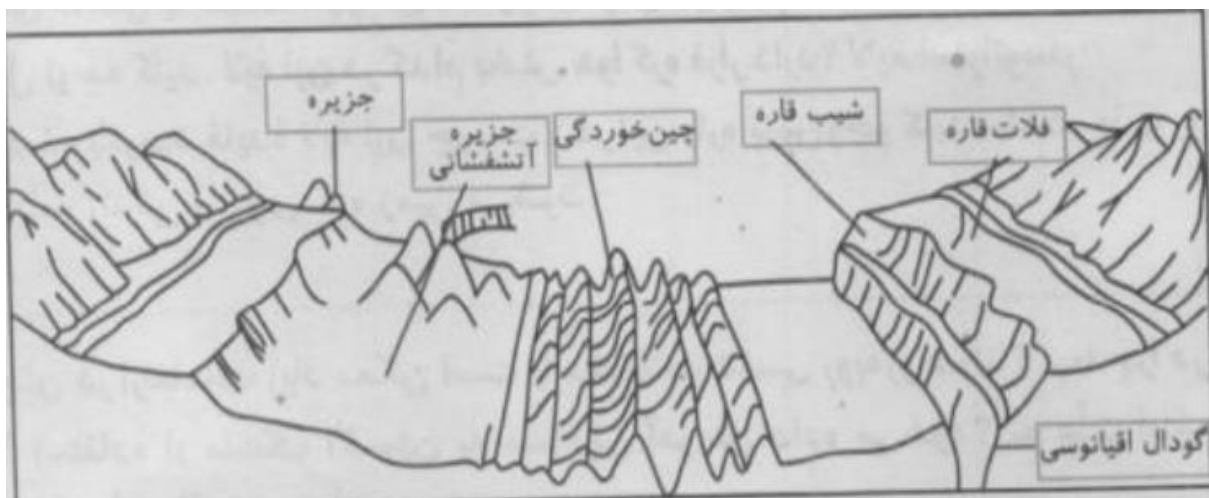
خیر، چون ایران در نیمکره شمالی و شرقی قرار دارد.

کار برگ شماره (۳)

الف) این مدل، نا همواری های بستر اقیانوسها را نشان میدهد. موارد زیر را روی مدل در جای خالی بنویسید.

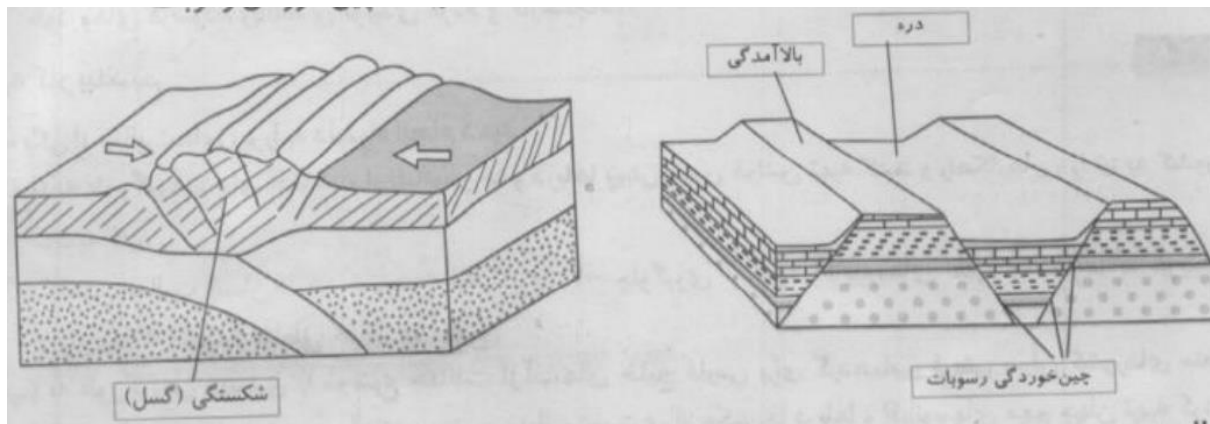
فلات قاره شیب قاره چین خوردگی های کف اقیانوس جزیره

گودال اقیانوسی جزیره آتشفشانی



ب) روی مدل ها، موارد را در جای خالی بنویسید.

شکستگی (گسل) بالا آمدگی دره چین خوردگی رسوبات



کاربرگ شماره ی (۴)

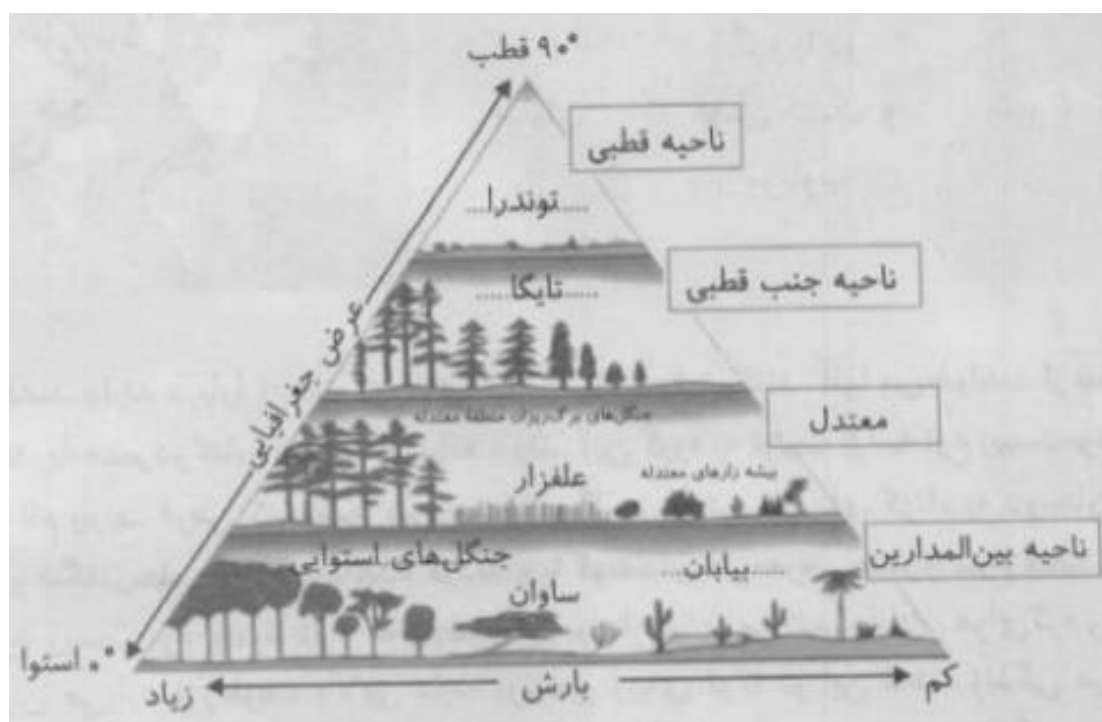
- ۱- در خانه ی مستطیل شکل, واژه های مناسب بگذارید: ناحیه ی قطبی, ناحیه ی جنب قطبی, ناحیه معتدل و ناحیه بین المدارین (بین مدار رأس الجدی و رأس السرطان)
- ۲- در نقطه چین ها واژه های مناسب بنویسید : توندرا, تایگا, (مخروطیان), بیابان, جنگل های استوایی.

۳- زیست بوم ها در کجا قرار گرفته اند؟ **در مجاورت جنگل های استوایی**

۴- بین عرض جغرافیایی و میزان پوشش گیاهی چه رابطه ای وجود دارد؟ با ذکر علت از روی نمودار, توضیح دهید و مثال بزنید.



با افزایش میزان باران در نواحی استوایی, تنوع درختان و ارتفاع آنها بیشتر می شود هرچه به سمت عرض های جغرافیایی بالاتر میرویم به موازات کاهش باران, قد درختان کوتاه می شود و همچنین در حواشی بیابان ها به علفزار ها و سپس به بوته های خار تبدیل می گردد.

۵- بین میزان بارش میزان پوشش گیاهی چه رابطه ای وجود دارد؟ با توجه به نمودار مثال بزنید. **هرچه میزان بارش بیشتر باشد، پوشش گیاهی در آن جابجستراست.**



کار برگ شماره (۵)

با توجه به نقشه ای که در سمت راست مشاهده می کنید، نوع زیست بوم ها را حدس بزنید و بنویسید. سپس با استفاده از دانسته های قبلی خود و آنچه در این کتاب خوانده اید، جدول را کامل کنید.

نقشه	نام زیست بوم	آب و هوا	دو نمونه جانور و یک نمونه گیاه غالب
	توندرا	سرد و قطبی	خرس قطبی / خزه و گل سنگ
	تایگا	سرد	گرگ / کاج‌های خاکستری
	بارانی استوایی	معتدل	شامپانزه / درختان پهن برگ
	بیابان	گرم و خشک	روباه / بوته‌های خار
	ساوان	گرم با دو فصل خشک و مرطوب	شیر / تک درخت‌ها

کاربرگ شماره (۶)

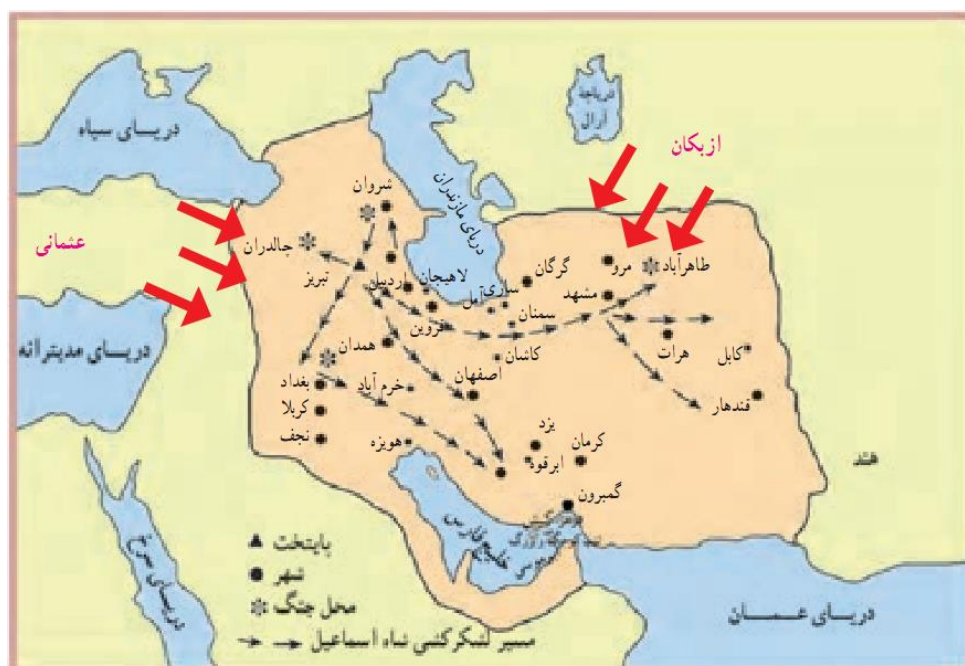
یک گروه پژوهش گر قصد دارند درباره ی زیست بوم های قاره ی آفریقا تحقیق کنند. آنها می خواهند از بندر ماتادی در کشور کانگو به بندر اسکندریه ی مصر در کناره ی دریای مدیترانه بروند. این گروه به ترتیب از سه نوع زیست بوم عبور می کنند. این

سه زیست بوم را نام ببرید. فرض کنید شما سرپرست این گروه هستید. نامه ای کوتاه به دوستان خود بنویسید و در آن نکات جالب و شگفتی هایی را که کردید و یا گونه های در معرض خطر را شرح دهید. **از ماتادی به سمت اسکندریه سه نوع زیست بوم وجود دارد که به شرح زیر برایتان بیان میکنم: ماتادی هوای گرم و استوایی دارد، در این ناحیه همیشه باران میبارد و رطوبت بالایی دارد، پرنده زیبای توکا در این ناحیه زندگی میکند در جنگل های این ناحیه مار های بزرگ و خطرناکی وجود دارد بعضی از مردمان این ناحیه در مزرعه کار میکنند. منطقه ساوان با علفزار های خود در کنار جنگل های استوایی واقع شده در این منطقه هوا گرم است گاهی خشک و گاهی مرطوب است، حیواناتی مثل شیر، کرگدن و گوشت خواران درنده ای در این منطقه زندگی میکنند. از منطقه ساوان که عبور کنیم به منطقه خشک و بیابانی می رسیم، از شگفتی های این ناحیه روباته صحرایی ساهارا را میتوان نام برد، در این منطقه هنوز حمل و نقل با شتر صورت میگیرد.**

ب) فرض کنید قرار است به شما یک سفر رایگان همراه با گروهی از گردشگران طبیعت (اکوتوریست) جایزه بدهند. کدام زیست بوم را برای سفر انتخاب می کنید؟ چرا؟ جنگل های بارانی استوایی، به علت پ و شش گیاهی مناسب و

کاربرگ شماره (۷)

بارندگی.



به نقشه صفحه ی قبل دقت و به پرسش های زیر پاسخ دهید.

۱- در آستانه ی شکل گیری حکومت صفویه، تقریباً چند حکومت محلی در ایران وجود

داشت؟ **۱۴ حکومت**

۲- در آستانه شکل گیری حکومت صفویه، کدام کشور ها ایران را تهدید میکردند؟ **رومی**

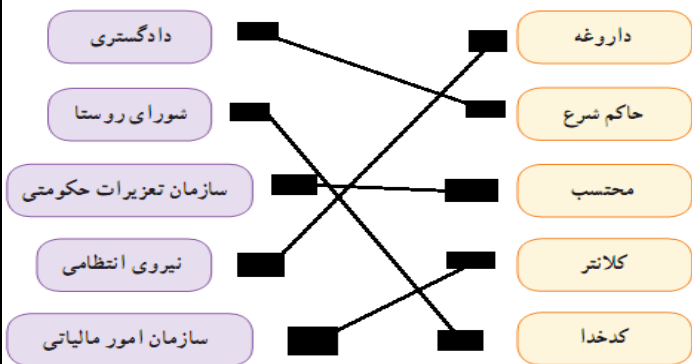
نقشه مشخص کنید. عثمانی ها و ازبک ها

۳- جدول را کامل کنید.

پیامدها و مشکلات سیاسی، اجتماعی، اقتصادی	تهدید های خارجی	تهدید های داخلی
- از رونق افتادن تجارت - عدم یکپارچگی فرمانروایی در سراسر ایران - عدم مذهب مستقل - عدم همبستگی و اتحاد - از بین رفتن امنیت و آرامش شهر ها	- لشکرکشی سپاهیان عثمانی - حملات ازبک به مرز ها	- فراوانی قدرت های محلی و اقوام گوناگون (ملک الطوائفی) - عدم حکومت واحد و قدرتمند - جنگ های داخلی

کار برگ شماره (۸)

از طریق به هم متصل کردن واژه ها و عبارت های دو ستون، مشخص نمایید که در زمان کنونی تقریباً چه نهاد هایی و وظایف صاحب منصبان شهری و روستایی دوره صفویه را انجام میدهند؟



کاربرگ شماره (۹)

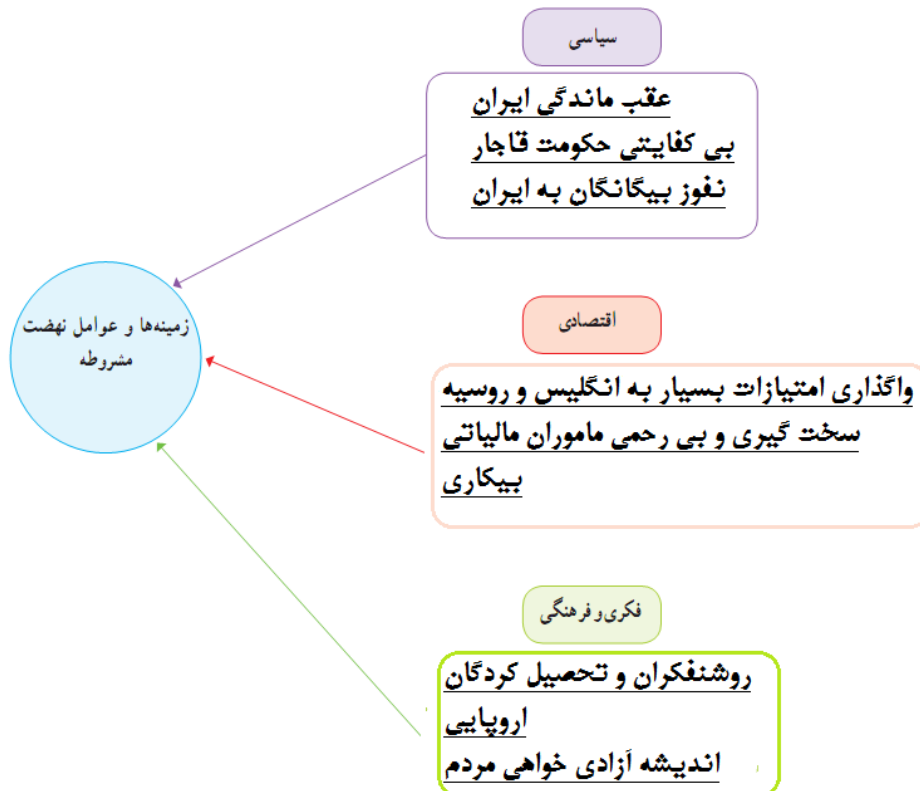


با توجه به نقشه بگوییید شهر ها یا مناطق زیر توسط کدام کشور, در زمان کدام شاه قاجار و با چه عهد نامه و قرار دادی از ایران جدا شدند؟

عنوان عهد نامه و قرار داد	کشور استعمار گر	
گلستان	روسیه	۱- تفلیس و گنجه:
پاریس	انگلیس	۲- هرات:
اخال	روسیه	۳- مرو و خیوه:
ترکمن چای	روسیه	۴- ایروان و قره باغ:
گلداسمیت	انگلیس	۵- بلوچستان و سیستان شرقی:

کاربرگ شماره (۱۰)

با مطالعه دقیق متن کتاب و اطلاعاتی که از منابع دیگر دارید, نمودار زیر را کامل کنید.



کاربرگ شماره ی (۱۱)

۱- انگیزه اصلی امام از مخالفت و مبارزه با حکومت شاه چه بود؟ **از بین بردن وابستگی**

کشور به بیگانگان، تأمین حقوق ملت در چارچوب قوانین و ارزش های اسلامی

۲- در سخنان امام خمینی چه خطر و تهدیداتی از جانب اسرائیل متوجه ایران بود؟

اسرائیل نمی خواهد در این مملکت قران باشد، اسرائیل نمی خواهد در این

مملکت علمای اسلام باشند، اسرائیل نمی خواهد در این مملکت احکام اسلام

باشد، اسرائیل نمی خواهد در این مملکت دانشمند باشد، اسرائیل به دست اعمال

سیاه خود مدرسه فیضیه را کوبید، ما را کوبید، شما ملت را می کوبد ، می خواهد

اقتصاد شما را قبضه کند. می خواهد تجارت و زراعت را از بین ببرد.

آیا تهدید ها هم اکنون نیز ادامه دارد؟ **بله**

۳- منظور امام از ارباب ها در سطر دوم پاراگراف آخر چیست؟ **آمریکا و اسرائیل**

۴- اینکه امام به شاه نصیحت می کند که از پدرت عبرت بگیر، اشاره به چه واقعه

تاریخی دارد؟ **شهریور ۱۳۲۰**

کاربرگ شماره (۱۲)



۱- عنوان اصلی بریده ی شماره ۱، مربوط به چه رویدادی است؟ **جمعه سیاه (۱۷ شهریور)**

۲- بر اساس خبر بریده ی شماره ی ۲، چرا امام عراق را ترک کرد؟ **به دلیل مشکلات و محدودیت هایی که کشور عراق برای ایشان ایجاد کرده بود.**

۳- به بریده شماره ۲ دقت کنید، و بگویید حکومت شاه برای آرام کردن مردم، چه قول هایی داد؟ **آزادی زندانیان سیاسی- استفاده از رادیو و تلویزیون برای مخالفان**

۴- در بریده ی شماره ی ۳، منظور امام از «مملکت دو دولت ندارد، توغیر قانونی هستی، برو» کدام دولت است؟ **دولت بختیار**

۵- در بریده ی شماره ی ۴، منظور از «کاخ ۵۸ ساله ظلم» چیست؟ **رژیم پهلوی**

۶- به بریده ی شماره ی ۴ دقت کنید و بگویید با فرو ریختن کدام سنگر رژیم پهلوی، انقلاب پیروز شد؟ **تصرف پادگان ها و مراکز دولتی توسط مردم**

کار برگ شماره (۱۳)

۱- چند مورد از نماد ها، هنجار ها، ارزش ها و عقاید مردم این روستا را از متن درس استخراج و دسته بندی کنید و در جدولی بنویسید.

ارزش ها، عقاید	نماد ها، هنجار ها
چشم کردن- چشم زخم- پختن نان شیرمال- فتیر محلی در عید نوروز- سفره صبحانه در روز نوروز	نوع پوشش زنان، کفش های لاستیکی (گالش)

کار برگ شماره (۱۴)

۱- موقعیت های زیر را بخوانید. در مقابل هر موقعیت، یکی از عبارت های زیر را انتخاب کنید و بنویسید. سپس برای تکمیل آن موقعیت جمله ای بنویسید که راهکاری برای سازگاری در خانواده باشد.

۲- ایلیا دوست دارد در روز های تعطیل به همراه دوستانش به گردش برود. والدین ایلیا نگران سلامت اخلاقی این معاشرت ها و مواجه شدن او با محیط ها و عقاید و ارزش های مخالف ارزش های خانواده هستند. پیشنهاد شما برای رفع مسئله به طوری که انتظارات هر دو طرف بر آورده و رعایت شود، چیست؟

آشنایی دوستان ایلیا با خانواده- در اختیار قرار دادن شماره تماس اولیا دوستان- توضیح کامل در مورد برنامه سفر و مهمانی

۳- به نظر صاحب نظران، تک فرزندی چه پیامد های نا مطلوب فرئی و اجتماعی دارد؟
تجربه اجتماعی شدن و رشد اجتماعی کودک کاهش میابد.

کار برگ شماره (۱۶)

با توجه به آنچه در فصل یازدهم آموخته اید، جدول زیر را کامل کنید.

حکومت/دولت	شهروندان/دولت
حکومت وظیفه دارد عدالت قضایی را برقرار کند	شهروندان وظیفه دارند مالیات بپردازند
حکومت وظیفه دارد امنیت را برقرار کند و از سرزمین و مرز های کشور دفاع کند	شهروندان وظیفه دارند از کشور دفاع کنند
حکومت وظیفه دارد دفاع و تأمین اجتماعی را برای همه فراهم کند	شهروندان حق دارند در امور سیاسی کشور و انتخاب مسئولان توانمند و شایسته مشارکت کنند
حکومت وظیفه دارد قوانین مناسب عادلانه ای تدوین و تصویب کند	شهروندان وظیفه دارند حقوق سایر شهروندان را رعایت کنند
حکومت وظیفه دارد حقوق فرهنگی مورد تأیید در قانون اساسی را رعایت کند	شهروندان حق دارند که از تأمین اجتماعی برخوردار شوند

کار برگ شماره (۱۷)

موقعیت های زیر را بخوانید و برای افزایش بهره وری در هر مورد، پیشنهادی با توضیح بنویسید.

الف) قرار است نسرین با مادرش به دندان پزشکی برود. او می داند که کار ترمیم و پر کردن دندان مادرش یک ساعت و نیم تا دو ساعت طول میکشد و او باید این زمان را در اتاق انتظار مطب بنشیند.

با خود کتاب درسی یا مجله می برد و در این وقت آن را مطالعه می کند یا با خود بافتنی می برد و مشغول بافت آن میشود.

ب) خانم میرزایی در یک آپارتمان ۴ واحدی زندگی می کند. همسایه ها روابط خوبی با هم دارند. آنها یک باغچه مشترک ۱۵ متری دارند که فقط چند بوته گل در آن کاشته شده و بیشتر آن بدون استفاده است.

خانم میرزایی مقداری تخم سبزی خوردن گرفته و مابقی را سبزی کاری میکند که سبزی را استفاده کند.

قرار است یک نمایشگاه عکاسی در طبیعت در مدرسه برپا شود که مدیریت آن به عهده شماست. شما با مسائلی چون انتخاب ۱۰ نفر برای عکاسی، برنامه ریزی برای تایین مکان های عکاس برداری از طبیعت و چگونگی رفتن به آ مکان ها، مکان برگزاری نمایشگاه، چگونگی بازدید مدعوین و... رو به رو هستید به عنوان مدیر گروه و نمایشگاه طرحی بریزید که در هر یک از این مراحل و اقدامات بهره وری رعایت شود.

ابتدا برای انجام این کار اقدام به تشکیل کارگروه سپس وظایف و مسئولیت های همه ی اعضا گروه را شخص کرده و در زمان های مختلف برای هماهنگی بین کارگروه اقدام به برگزاری جلسات می نماییم.

کار برگ شماره (۱۸)

سوال: اگر قرار باشد امسال دوباره همین جشنواره برگزار شود. به نظر شما این موسسه چگونه میتواند برخی هزینه ها را کاهش دهد یا حذف کند (توجه کنید تعداد استادان و دستمزد آنها را نمی توان کاهش داد).

۱- میتوان ارائه مقاله ها را به صورت اینترنتی از پژوهشگران دریافت کند.

۲- میتوان به استادان نیز به صورت اینترنتی مقاله ها را ارسال و نظر آن ها را نیز این گونه دریافت کند. پس میتوان هزینه اجاره محل + دستمزد خدمه و هزینه رفت و آمد را حذف کرد و فقط برای انتخاب ده مقاله آخر استادان را در یک جلسه گرد هم آورد که به این ترتیب می توان هزینه ها را کاهش داد.

با راه حل پیشنهادی شما «هزینه کل» چقدر کاهش میابد؟ حدود...۴۱ تومان کاهش میابد.