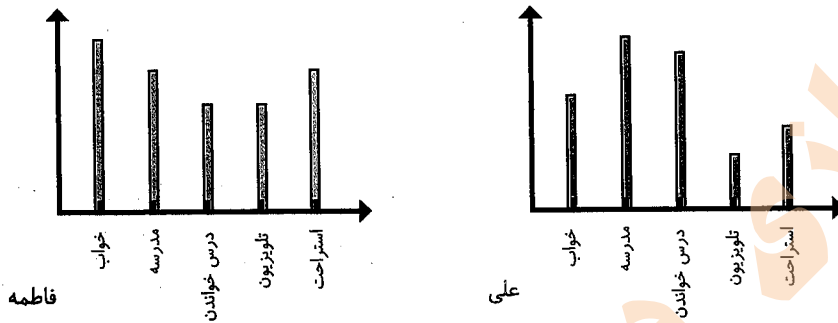




۲- نمودار کارهای روزانه فاطمه (دانش‌آموز دبستان) و نمودار کارهای روزانه‌ی علی (دانش‌آموز دبیرستان) به صورت زیر رسم شده است. با توجه به آن به سؤال‌ها جواب دهید.



کدام یک بیش‌تر درس می‌خواند؟ علی
 چه شخصی بیش‌تر در مدرسه است؟ علی
 چه شخصی بیش‌تر تلویزیون می‌بیند؟ فاطمه
 مجموع مدرسه رفتن و درس خواندن چه کسی بیش‌تر است؟ دلیل آن را بنویسید.
 علی. چون در نمودار، ستون مربوط به مدرسه رفتن و درس خواندن علی بلندتر است.



مرور فصل



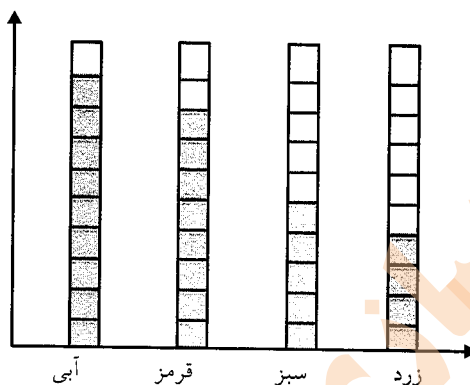
توضیح دهید که جدول و نمودارها چه کمکی به بهتر فهمیدن مسئله می‌کنند.
 جدول و نمودارها از اطلاعات مختلف نمایش بهتری ارائه می‌کنند و به درک بهتر ما از اطلاعات کمک می‌کنند.



۱- محسن از هم‌کلاسی‌هایش در مورد رنگی که دوست دارند، سؤال کرد. از آن‌ها خواست از بین رنگ‌های قرمز، آبی، سبز و زرد یکی را انتخاب کنند. پاسخ دوستانش به این ترتیب بود:
 آبی، قرمز، آبی، سبز، زرد، قرمز، آبی، آبی، قرمز، قرمز، سبز، سبز، زرد، آبی، زرد، سبز، زرد،

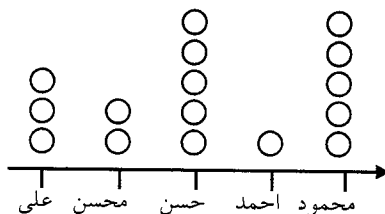
قرمز، آبی، آبی، آبی، قرمز، سبز، قرمز، قرمز، با رسم چوبخط جدول را کامل و نمودار ستونی آن را رسم کنید. سپس به سؤال‌ها پاسخ دهید.

رنگ	چوبخط	تعداد
	### ///	۹
	### ///	۸
	###	۵
	////	۴



- کدام رنگ را دانش‌آموزان این کلاس بیش‌تر از همه دوست دارند؟ آبی
- کدام رنگ را دانش‌آموزان این کلاس کم‌تر از همه دوست دارند؟ زرد
- اگر قرار باشد برای دانش‌آموزان این کلاس لباس ورزشی تهیه شود، بهتر است چه رنگی انتخاب شود؟ چرا؟
- آبی، چون دانش‌آموزان این رنگ را بیشتر دوست دارند.
- این کلاس چند دانش‌آموز دارد؟ ۲۶ دانش‌آموز
- ۲- در یک روستا ۵ دانش‌آموز تعداد گوسفندان خود را شمردند و در کلاس اعلام کردند. آموزگار جدول زیر را درست کرد. با کامل کردن آن، نمودار تصویری تعداد گوسفندان را رسم کنید. برای هر ۱۰ گوسفند یک بکشید.

نام دانش‌آموز	علی	محسن	حسن	احمد	محمود
تعداد گوسفندان	۳۱	۱۹	۴۷	۱۲	۵۲
تعداد تقریبی	۳۰	۲۰	۵۰	۱۰	۵۰



ریاضی

۳- از ساعت ۷ صبح تا ۷ شب چه کارهایی انجام دادید؟ برای هر کار چند ساعت وقت گذاشتید؟ جدول را کامل کنید. برای هر ساعت یک قسمت از شکل را به رنگ داده شده رنگ آمیزی کنید.

پاسخ نمونه:

	سبز	آبی	قرمز	زرد
سایر کارها	مدرسه رفتن	درس و تکلیف	تلویزیون دیدن	
ساعت	۶	۳	۲	۱



صفحه ۱۴۴ کتاب درسی

★★★★★



با قطعه‌های زیر هر شکل سطح آن را به طور کامل بپوشانید. از رنگ‌های مختلف استفاده کنید. تا قطعات را نشان دهید.

