

مدرسه ممتاز حنان

نام و نام خانوادگی: کلاس: دوم ستاره ارزشیابی: نوبت اول

۱- با دو ۴ و ۶ هر چقدر می توانید عدد دو رقمی بنویسید.

.....

۲- مسئلهی زیر را با رسم محور انجام دهید.

۱۴ پرنده روی درخت بودند. ۶ تا از پرندهها پریدند. حالا چند پرنده روی درخت مانده است؟

..... ۱ ۲ ۳ ۴ ۵ ۶ ۷ ۸ ۹ ۱۰ ۱۱ ۱۲ ۱۳ ۱۴ ۱۵ ۱۶ ۱۷ ۱۸ ۱۹ ۲۰

۳- حاصل جمع زیر را با رسم شکل به دست بیاورید.

$6 + 5 + 4 =$

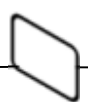
۴- حاصل جمع و تفریقهای زیر را پیدا کنید.

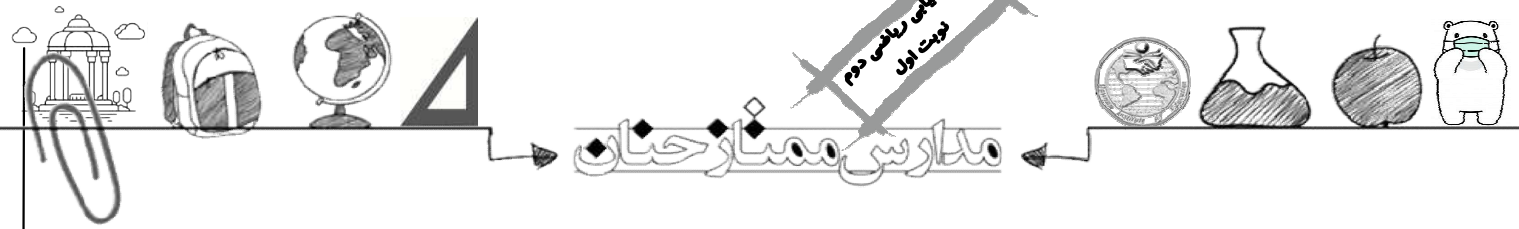
$90 - 40 = \square$

$5 + 5 + 40 + 30 = \dots\dots\dots$

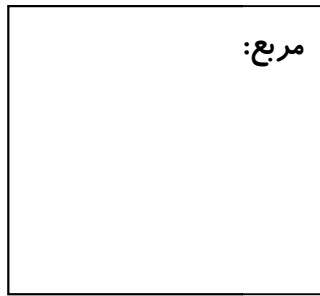
$$\begin{array}{r} 76 \\ - 22 \\ \hline \end{array}$$

$$\begin{array}{r} 45 \\ - 23 \\ \hline \end{array}$$






۵- با کمک شابلون دو شکل مربع و مثلث را رسم کنید و هر کدام چند گوشه و چند ضلع دارند؟



گوشه:
ضلع:



گوشه:
ضلع:

۶- بزرگ‌ترین عدد دو رقمی چیست؟

کوچک‌ترین عدد سه رقمی چیست؟

۷- جواب جمع زیر را به صورت تقریبی بنویسید.

$$\begin{array}{r}
 ۲۶ \Rightarrow \dots\dots\dots \\
 +۴۱ \Rightarrow + \dots\dots\dots \\
 \hline
 \dots\dots\dots \\
 \hline
 \dots\dots\dots
 \end{array}$$

۸- زمانی را که ساعت نشان می‌دهد، به دو صورت بنویسید.



ساعت و دقیقه

..... دقیقه مانده به ساعت

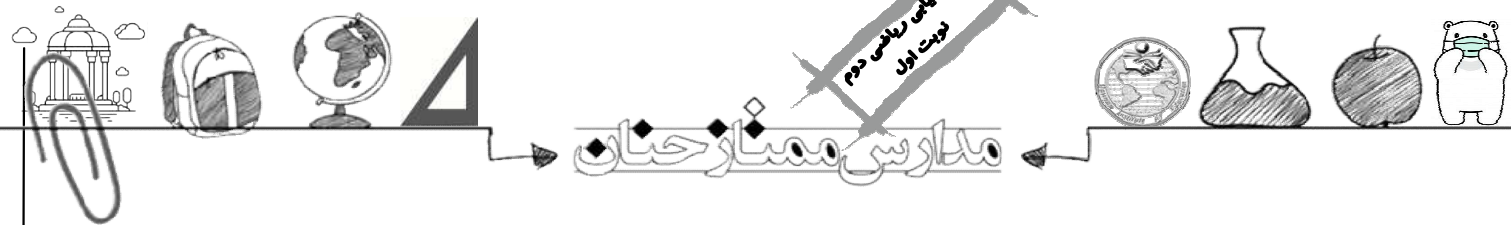
۹- الگوی عددی را ادامه دهید.

۳ - ۶ - ۹ - - - -

۱۰- اگر فاطمه ۱۰ تا سکه‌ی ۱۰ ریالی به بانک بدهد بانک باید چند سکه به او بدهد؟

.....





۱۱- واحد پول کشور ما است.

۱۲- با رقم و حروف بنویسید.

پانصد و چهل و نه

۴۷۳

سیصد و هشتاد و هشت

۱۹۸

بازخورد عملکرد دانش آموز					
بازخورد				انتظارات معلم	ردیف
ضعف دارد	متوسط	نسبتاً خوب	خیلی خوب		
				مفهوم و عدد و رقم را درک کرده است.	۱
				مسئله را با راه حل خواسته شده حل می کند.	۲
				جمع و تفریق ها را با روش های مختلف بلد است.	۳
				جمع و تفریق فرایندی را حل می کند.	۴
				تعداد ضلع و گوشه را در اشکال هندسی تشخیص می دهد.	۵
				تقریب را به خوبی فرا گرفته است.	۶
				ساعت را به هر دو شکل بلد است.	۷
				اعداد را با حروف و رقم می خواند و می نویسد.	۸

بازخورد معلم:

