


مرور فصل



فرهنگ نوشتن



در این فصل درس‌های مربوط به عدد که در کلاس اول یاد گرفته بودم، یادآوری شد.
 یادم آمد که: شمارش با دسته‌بندی یا خط زدن - نوشتن اعداد - کشیدن چوب‌خط - ساعت - درست کردن دسته‌های ده‌تایی و یکی - نوشتن اعداد در جدول ارزش مکانی - اعداد دورقمی - دسته‌بندی ده‌تایی - حل مسئله با رسم شکل یا چوب‌خط یا محور - جمع و تفریق - طراحی اشکال و خیلی چیزهای دیگر را در کلاس اول یاد گرفتم.

مشق‌های ۱۷ کتاب درسی

تمرین



۱- با رقم‌های ۷ و ۸ چند عدد ۲ رقمی می‌توان نوشت؟ آن‌ها را بنویسید.

$$۷۸ - ۸۷ - ۷۷ - ۸۸$$

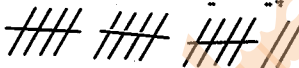
۴ عدد

۲- با رقم‌های ۰ و ۱ هر چند تا عدد ۲ رقمی که می‌توانید، بنویسید.

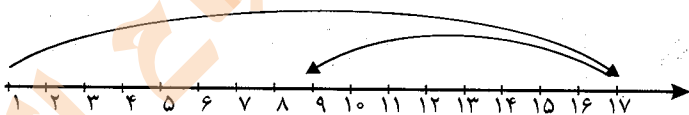
$$۱۰ - ۱۶ - ۶۰ - ۶۱ - ۱۱ - ۶۶$$

۳- حاصل جمع و تفریق را با هر روشی که می‌خواهید، پیدا کنید.

$$۸ + ۹ = ۱۷$$



$$۱۷ - ۸ = ۹$$



۴- جمع‌ها را کامل کنید.

$$۰ + ۵ = ۵$$

$$۱ + ۴ = ۵$$

$$۲ + ۳ = ۵$$

$$۵ + ۰ = ۵$$

$$۴ + ۱ = ۵$$

$$۳ + ۲ = ۵$$

۵- ۲ دسته‌ی ده‌تایی با ۴ دسته‌ی ده‌تایی را روی هم ریخته‌ایم. به آن‌ها ۷ تا یکی اضافه کرده‌ایم. حالا

جدول را کامل کرده و بنویسید چند تا مداد داریم؟

یکان	دهگان
۷	۶

۲ دسته‌ی ده‌تایی با ۴ دسته‌ی ده‌تایی می‌شود ۶ بسته‌ی ده‌تایی و ۷ تا یکی داریم.

۶- الگوهای شمارش رو به عقب را کامل کنید.

$$۸, ۱۲, ۱۶, ۲۰, ۲۴$$

$$۷, ۱۴, ۲۱, ۲۸$$

۷- حاصل جمع‌های زیر را پیدا کنید.

$$8 + 8 + 8 = 24$$

$$9 + 9 + 9 = 27$$

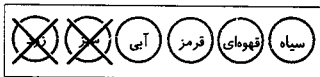
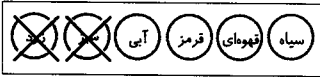
۸- مسئله‌های زیر را حل کنید.

۸ دانش‌آموز در کلاس بودند. ۶ دانش‌آموز دیگر به کلاس آمدند ولی ۳ نفر از کلاس رفتند. حالا چند نفر در کلاس هستند؟

$$8 + 6 = 14$$

$$14 - 3 = 11$$

احمد ۳ بسته مداد رنگی ۶ تایی به رنگ‌های زرد، سبز، آبی، قرمز، قهوه‌ای و سیاه داشت. او رنگ‌های سبز و زرد هر ۳ بسته را برداشت. حالا چند مداد رنگی برایش باقی مانده است؟



۱۲ مداد برایش باقی مانده است.

مشق‌های ۱۷ کتاب درسی

★★★★★

الگویابی کن



عقربه‌های ساعت شمار را با توجه به الگوی ساعت‌ها رسم کنید.



۱



۳



۵



۷



۹

مانند نمونه بدون آن که از خانه‌های × عبور کنید. با رسم یک خط این دو × را به هم وصل کنید. به شرط آن که از تمام خانه‌ها عبور کرده باشد.

