

کاربر که فعالیت

مطالعات اجتماعی، هشتم

دیر مطالعات اجتماعی: صفوی

فارس - جهرم

سال تحصیلی ۱۴۰۱-۱۴۰۰

The collage features several educational pages:

- Top Left:** A map of Iran with the title "تاریخ قباقران" (History of Qajar). It includes text about the Qajar dynasty and its geographical context.
- Top Right:** A world map with the title "روزگاری که در آن زندگی می‌کنیم" (The world we live in), discussing global interconnectedness.
- Middle Left:** A grid of images showing various historical artifacts and objects, such as a vase, a bowl, and a coin, with labels in Persian.
- Middle Right:** A diagram titled "جمهوری اسلامی ایران" (Islamic Republic of Iran) showing the relationship between the government and the Islamic religion.
- Bottom Left:** A worksheet with a text passage and a table of questions and answers related to the Qajar era.
- Bottom Right:** A worksheet with a text passage and a table of questions and answers related to the Islamic Republic.

- یکی از سه گزینه زیر را انتخاب و جای خالی را با آن پر کنید.
- نوشتن داستان یا خاطره‌ای کوتاه درباره تعاون
- کشیدن نقاشی از صحنه‌ای که تعاون و همدلی انسان‌ها را نشان می‌دهد.
- پیدا کردن و چسباندن یک عکس که صحنه‌ای از همیاری و کمک به هم‌نوعان را نشان دهد.



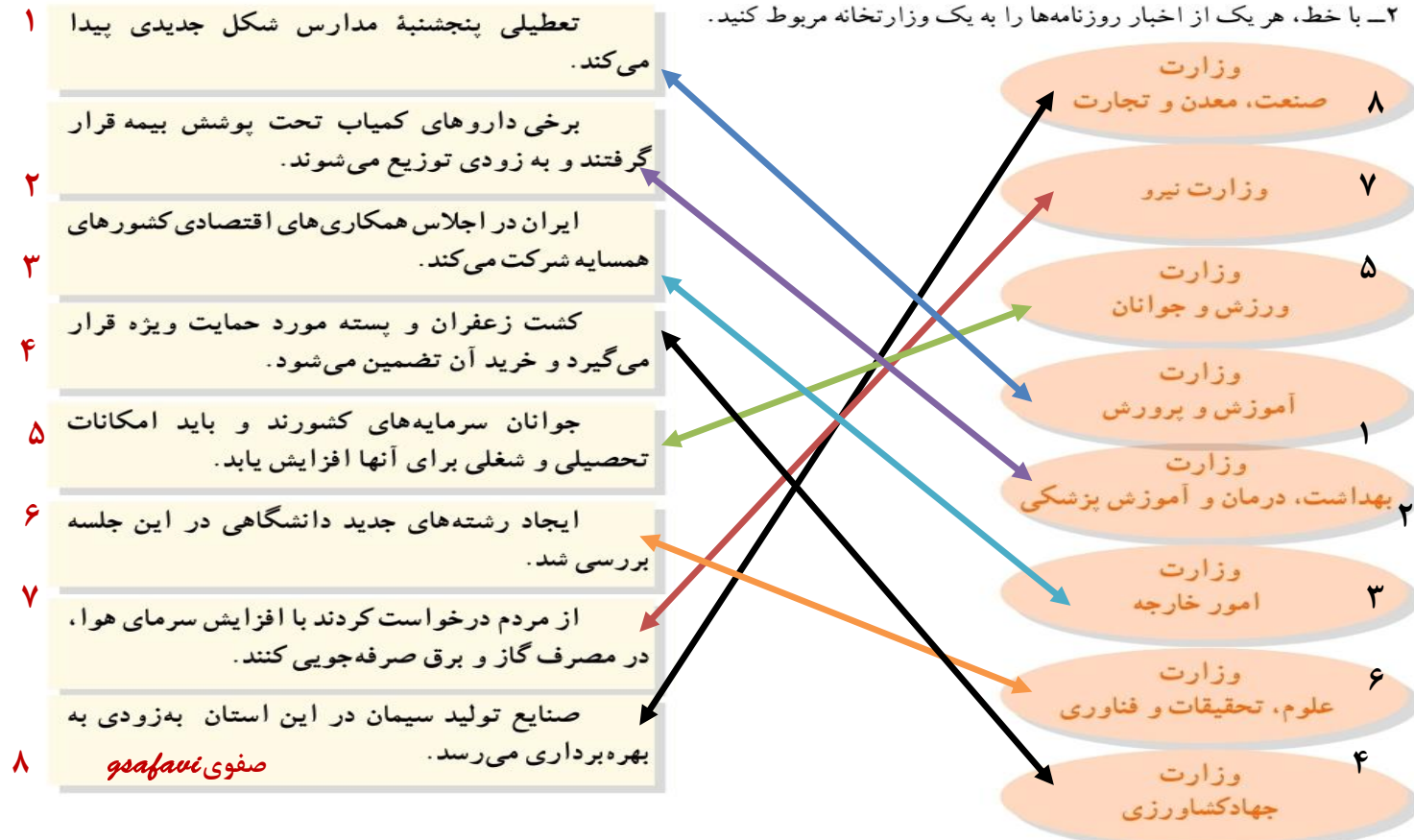
صفوی نیفاو



۱- مراحل انتخاب و شروع به کار یک رئیس جمهور را با شماره گذاری مرتب کنید.



۲- با خط، هر یک از اخبار روزنامه‌ها را به یک وزارتخانه مربوط کنید.



همفکری کنید و بگویید در هر یک از موقعیت‌های زیر افراد باید چه روش یا روش‌هایی برای مقابله با خشم انتخاب کنند و به کار ببرند. دانش آموزان عزیز پاسخ‌های دیگری که به نظر تان می‌رسد در کاربرگه بنویسید پاسخ‌های زیر نمونه‌ای از پاسخ است.

موقعیت (۱)

پدر زهره به او و خواهرش قول داده بود که پنجشنبه آنها را به اتفاق دو نفر از دوستانشان به سینما ببرد ولی آن روز به قول خود عمل نکرد و به خانه تلفن زد و گفت که کاری برایش پیش آمده است. زهره و خواهرش عصبانی شدند و... آن‌ها سعی کردند با روش‌های مختلف خود را آرام کنند و با فکر کردن به اتفاق پیش آمده آنها باید چه رفتاری از خود بروز بدهند؟
از پدر بخواهند در یک تاریخ دیگر به سینما بروند.

موقعیت (۲)

حمیده موضوعی را به یکی از دوستانش می‌گوید و از او می‌خواهد به دیگران نگوید، اما چند روز بعد متوجه می‌شود، چند نفر از هم‌کلاسی‌هایش موضوع را می‌دانند. او عصبانی می‌شود و...
حمیده چه واکنشی باید داشته باشد؟
او اول باید از دوستش در مورد اینکه آن موضوع را به دیگران گفته است سوال کند به حرف‌های دوستش گوش دهد و بعد تصمیم بگیرد و...

موقعیت (۳)

رضا و خواهرش یک رایانه مشترک دارند. رضا مشغول کار با رایانه بود اما یک دفعه بدون آنکه بخواهد، چند مورد از پرونده‌های (فایل) مهمی را که خواهرش ذخیره کرده بود، پاک کرد. خواهر رضا، بسیار عصبانی شد.
رضا چه کار باید بکند؟
از خواهرش معذرت‌خواهی کرده و تا آن جا که می‌تواند به خواهرش برای بازیابی و ساختن مجدد فایل‌ها کمک کند.

موقعیت (۴)

شهرام از نانوايي محل، نان گرفته و در حال رفتن به خانه است. در همسایگی خانه شهرام، پسری زندگی می‌کند که چند سال از او بزرگ‌تر است و اغلب حالت خشمگین و پرخاشگر دارد. همچنین معمولاً دیگران را مسخره و تحریک به دعوا می‌کند و بهانه‌ای هم برای دعوا، پیش می‌کشد. شهرام از کنار او رد می‌شود تا به خانه برود اما آن پسر جلوی او را می‌گیرد و شروع به فحش دادن می‌کند. شهرام با متانت به راهش ادامه می‌دهد اما باز مورد توهین قرار می‌گیرد.
شهرام چه رفتاری باید داشته باشد؟
شهرام بدون اینکه چیزی بگوید سکوت کند و تا آن جا که می‌تواند سریع آن محل را ترک کند.

کاربرگه شماره ۴ فناوری ارتباطات، پیش‌بینی آینده

فرض کنید زمان، چهل سال جلوتر رفته و تحولات در فناوری‌های ارتباطات و اطلاعات ادامه یافته و محصولات جدیدی ابداع و اختراع شده است. تصور خود را درباره فضای چهل سال بعد، اختراع یک محصول جدید و نقش آن در زندگی انسان‌ها به صورت یک متن کوتاه در این قسمت بنویسید و یا یک نقاشی خیالی درباره آن بکشید.

چهل سال بعد :

۱ - همانطور که امروزه انسان با فناوری جدید به صورت زنده و مستقیم همزمان می‌تواند صدا و تصویر را از هر گوشه‌ای از

دنیا ببیند شاید در چهل سال آینده به همین سرعت بتواند سفر کند و در کنار هم قرار گیرد.

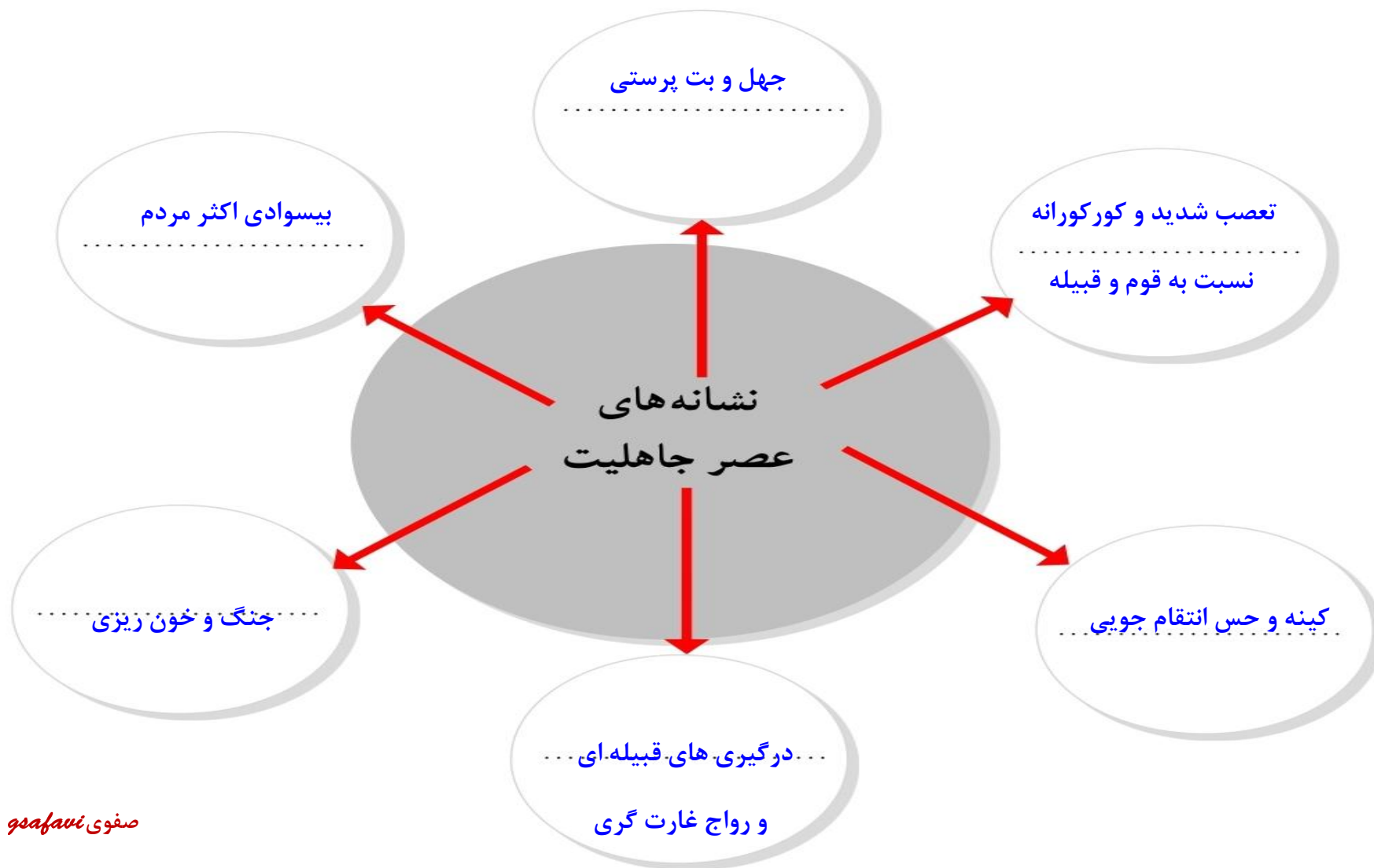
۲ - دارویی توسط انسان ساخته شود تا علاوه بر این که انسان پیر نشود گرفتار هیچ بیماری نگردد.

۳ -

۴ -

۵ -

با مطالعه متن درس ۹، نشانه‌های عصر جاهلیت را از متن استخراج نمایید و در دایره‌ها قرار دهید.



وقتی امیرالمؤمنین علی (علیه السلام)، مالک اشتر یکی از یاران خود را به حکومت مصر منصوب کرد، به او نامه‌ای نوشت. این نامه یکی از مهم‌ترین اسناد سیاسی و حقوقی تاریخ اسلام است. در این نامه، امام ویژگی‌های حکومت اسلامی، و روابط متقابل مردم و حاکمان را بیان کرده است.

فرازهایی از این نامه را مرور کنید و بگویید هر فراز مربوط به کدام یک از اصول حکومتی آن حضرت است.

اصول حکومتی امام علی (علیه السلام)	فرازهایی از نامه علی (علیه السلام) به مالک اشتر فرماندار مصر: ای مالک ...
الف) عدالت	۱- از خدا بترس و از هر چه در کتاب خود بدان فرمان داده است، اطاعت کن. (ت)
ب) توجه ویژه به تهیدستان و ضعیفان	۲- بدان که بهترین چیز برای والی (حاکم یک شهر یا منطقه) نیکی کردن در حق مردم و کاستن از رنج و درد آنان است. (... ^د ...)
پ) نظارت بر رفتار کارگزاران	۳- همه کارهای کارگزاران را تحت نظر بگیر و بازرسان مخفی از میان مردمانی که اهل صدق و وفا هستند بر آنان بگمار. (... ^پ ...)
ت) خداترسی و پرهیزکاری	۴- گروه ناتوانان و بینوایان به عدالت تو نیازمندتر از دیگرانند و چنان باش که برای یک آنان در پیشگاه خداوند، عذری داشته باشی. (... ^ب ...)
ث) توجه به عمران و آبادانی	۵- با مردم و در میان مردم باش که دوری از آنان سبب می‌شود که از امور مُلک آگاهی اندکی داشته باشی. (... ^خ ...)
ج) پرهیز از ظلم و ستم	۶- اجرای حق را درباره هر که باشد، چه خویشاوند و چه بیگانه، لازم بدار. (...)
چ) صلح‌طلبی	۷- اگر دشمنت تو را به صلح فرا خواند، از آن روی نگردان که خشنودی خدای در آن نهفته است. (... ^چ ...)
ح) عطف و مهربانی نسبت به مردم	۸- مهربانی به رعیت (مردم) و دوست داشتن آنها و لطف در حق ایشان را شعار دل خود ساز. (... ^ح ...)
خ) ارتباط نزدیک با مردم	۹- هر که بر بندگان خدا ستم کند، افزون بر بندگان، خدا نیز دشمن او خواهد بود. (...)
د) نیکی کردن به مردم	۱۰- هر که خراج (مالیات) طلبد و زمین را آباد نسازد، شهرها و مردم را هلاک کرده است. (... ^ث ...)
صفوی صافاوی	نامه ۵۰ نهج البلاغه

○ کاربرد شماره ۷ نمودار علت و معلول ○

با خواندن دقیق متن کتاب و اطلاعاتی که از منابع دیگر دارید، نمودار علت و معلول را کامل کنید و به‌طور خلاصه، علل سقوط ساسانیان و پیروزی اعراب مسلمان و فتح ایران را بنویسید. شما می‌توانید ستون‌های دیگری به «علت‌ها» اضافه کنید.



۱- به طور گروهی با مطالعه درس و توجه به نقشه‌ها و نمودار خط زمان، جدول زیر را کامل کنید.

سلجوقیان		غزنویان		سلسله‌ها	
سلجوقیان		غزنویان		سلسله‌ها	
طغرل سلجوقی		سلطان محمود غزنوی		بنیانگذاران	
آلب ارسلان ملکشاه سلجوقی		سلطان مسعود غزنوی		سلاطین مشهور	
از ۴۳۱ تا ۵۹۰ ه.ق		از ۳۵۰ تا ۵۸۲ ه.ق		زمان و دوره حکومت	
از شمال تا دریای خزر و دریای سیاه از غرب تا دریای مدیترانه از شرق تا ماوراءالنهر از جنوب تا خلیج فارس و دریای عمان		از شمال تا ماوراءالنهر و خوارزم از غرب تا ری و اصفهان از شرق تا دهلی مرکز هندوستان از جنوب تا دریای عمان و اقیانوس هند		محدوده و قلمرو حکومت	
<ul style="list-style-type: none"> • شکست غزنویان در جنگ دندانقان و به تخت نشستن طغرل در نیشابور • ورود طغرل به بغداد و برانداختن حکومت آل بویه • پیروزی آل ب ارسلان بر امپراتور روم در جنگ ملازگرد و تصرف بخش‌های وسیعی از آسیای صغیر • گسترش قلمرو سلجوقیان و افزایش قدرت آنها در دوران سلطنت ملکشاه و وزارت خواجه نظام الملک • ضعف و انحطاط قدرت سلجوقیان پس از مرگ ملکشاه و خواجه نظام الملک • نابودی کامل سلجوقیان توسط خوارزمشاهیان 		<ul style="list-style-type: none"> • تسلط محمود غزنوی بر خراسان • خارج کردن ری و اصفهان از تسلط آل بویه توسط سلطان محمود • لشکرکشی‌های بی‌پایی سلطان محمود به هندوستان به عنوان جهاد در راه اسلام • شکست سلطان مسعود غزنوی از طغرل سلجوقی در جنگ دندانقان و محدود شدن قلمرو غزنویان به مناطقی از شرق ایران و بخش‌هایی از هندوستان 		رویدادهای مهم	

۲- همفکری کنید و با مقایسه قلمرو و رویدادهای مهم دوران غزنویان و سلجوقیان، بگویید کدام یک از این

سلسله‌ها در تاریخ ایران، اهمیت بیشتری داشته‌اند. چرا؟ سلجوقیان، به دلایل مختلفی مانند قدرت بیشتر سلجوقیان، وسعت قلمرو آن‌ها



کاربرگه شماره ۹ شخصیت‌های تاریخی

متن‌ها را بخوانید و به پرسش‌ها پاسخ دهید.

(۱)



من در یکی از روستاهای نیشابور به نام کُندر، زاده شدم. درس خواندم و در ادب فارسی و عربی، مهارتی حاصل کردم. نخستین سلطان سلجوقی مرا به عنوان کاتب (نویسنده فرمان‌ها و نامه‌ها) برگزید و

چون در این سمت خودی نشان دادم، منصب مهم وزارت را در حالی که جوان بودم، به من سپرد. من نقش مؤثری در گسترش حکومت سلجوقیان به عهده گرفتم و تلاش کردم تا رسم کشورداری را به حاکمان جدید بیاموزم و اوضاع مملکت را سر و سامان دهم. تا مرگ اولین سلطان سلجوقی به مدت بیست سال وزیر بودم. من به عنوان یک ایرانی به زبان مادری خود یعنی زبان پارسی، علاقه‌مند بودم و برایم ناخوشایند بود که دفترهای ایران و فرمان‌های حکومتی و نامه‌ها به زبانی غیر از فارسی نوشته می‌شد. به همین سبب دستور دادم دفترها و نامه‌ها به خط و زبان فارسی نوشته شود و این رسم برای همیشه در ایران ماندگار شد. برادر دنیسه رفیقم که در اندیشه جانشینی من بود، آلب ارسلان، دومین سلطان سلجوقی، فرمان به برکناری و سپس قتل من داد. چون فرمان قتل خود را دیدم، به جانشینم پیغام دادم: «وزیر را بگو، بد رسمی نهادی و وزیر کشتن را به سلاطین آموختی. عجب، اگر بر خود و نسل خود، این معنی باز نبینی».

(۲)



من در توس به دنیا آمدم. در زمان آلب ارسلان، ملک‌شاه پسر و جانشین او، وزیر بودم. در سی سال وزارت، تلاش زیادی برای گسترش قلمرو و قدرتمندی حکومت سلجوقی انجام دادم.

آلب ارسلان و ملک‌شاه به کمک و راهنمایی‌های من، موفق شدند رقیبان و مخالفان را از سر راه بردارند و به امور کشور نظم بدهند. من برای آبادانی و عمران سرزمین خود و رونق تجارت و کشاورزی کوشش زیادی کردم. در دوران وزارت من، فعالیت‌های اقتصادی رونق یافته و خزانه دولت، وضع مطلوبی داشت.

من همچنین مدارس و بیمارستان‌های زیادی بنا کردم. کتابی به زبان فارسی با عنوان «سیاست‌نامه» نوشتم و در این کتاب آیین فرمانروایی و راه و رسم کشورداری را به صورت پند و اندرز بیان کردم.

قدرت و نفوذ قراوان من و بستگانم، حسادت و دشمنی عده‌ای را برانگیخت. رقیبان من می‌کوشیدند ملک‌شاه را بر ضد من، تحریک کنند. وقتی یکی از فدائیان اسماعیلیه، کاردش را در بدنم فرو کرد، به یاد آخرین پیغام وزیر قبل از خود افتادم.

صفوی *soafavi*

۱- شخصیت‌های متن (۱) و (۲)، چه کسانی هستند؟

۲- کدام یک از این دو در حوزه زبان و ادب فارسی، اقدام مهمی انجام داده است؟ چگونه؟ عمید الملک کندی

۳- پیغامی که در انتهای متن (۱) آمده، خطاب به چه کسی بود؟ **خواجه نظام الملک**

۴- هدف شخصیت متن (۲) از نگارش سیاست‌نامه چه بود؟

۵- اقدامات مشترک هر دو شخصیت چه بود؟ **گسترش قلمرو و قدرتمندی حکومت سلجوقیان - آبادانی و عمران و سر و سامان دادن به**

اوضاع کشور - آموزش رسم کشورداری به سلاطین سلجوقی

با مطالعه دقیق بخش خوارزمشاهیان درس ۱۲ و مطالب درس ۱۴ و اطلاعاتی که از سایر منابع دارید، علت‌های حمله مغول‌ها به کشور ایران را دسته‌بندی کنید و مختصراً بنویسید.

علت‌ها

علت‌های مربوط به مبدأ (مغول‌ها و مغولستان)

- افزایش جمعیت قبایل مغول و ...
- کمبود مراتع
- تصاحب ثروت و غارت سرزمین‌های دیگر
- کشته شدن بازرگانان

علت‌های مربوط به مقصد (ایران و ایرانیان)

- ضعیف بودن حکومت خوارزمشاهیان و تسلط نداشتن بر فرمانروایان محلی
- ۲- از بین بردن حکومت قراختاییان توسط محمد خوارزمشاه این حکومت می‌توانست سدی بر سر راه حمله مغولان باشد
- ۳- دخالت مادر محمد شاه در امر حکومت

معلول

هجوم مغول‌ها به سرزمین ایران و اشغال و تخریب آن

صفوی safavi





کاربرگه شماره ۱۱ آثار عصر ایلخانی و تیموری

هنرمندان و معماران ایرانی در دوران حکومت‌های ایلخانی و تیموریان آثار ارزشمندی در رشته‌های گوناگون، خلق کردند. به آثار زیر خوب دقت کنید و بگویید هر اثر نشانگر کدام هنر و یا معماری است.

- سفالگری
- شیشه‌گری
- تذهیب (کتاب آرایی)
- فلزکاری
- نگارگری (نقاشی)
- گچ‌بری
- کاشی‌کاری

بارج شیشه‌ای متعلق به قرن ۸ ق	ظرف سفالی لعابی و نقش‌دار متعلق به قرن ۸ ق	کاسه برنجی متعلق به قرن ۸ ق که نقره‌کوبی و حکاکی شده است.	پشقاب سفالی متعلق به قرن ۹ ق، منقش و دارای لعاب فیروزه‌ای براق

(سفالگری، نگارگری) (فلز کاری) (سفالگری) (شیشه‌گری)

محراب مسجد جامع بسطام که با گچ تزئین شده است.	سر در اصلی مسجد جامع یزد که در دوره تیموری ساخته و با کاشی تزئین شده است.	صفحه‌ای از شاهنامه باسنقری که توسط باسنقر، شاهزاده هنرمند و هنردوست تیموری به‌وجود آمد.	صفحه‌ای از نسخه خطی قرآن متعلق به قرن ۹ ق، طلاکوبی شده و با آبرنگ مات، حاشیه‌های آن نقاشی شده است.

(تذهیب (کتاب آرایی)) (نگارگری (نقاشی)) (کاشی کاری) (گچ‌بری)

فعالیت

نقشه قاره آسیا

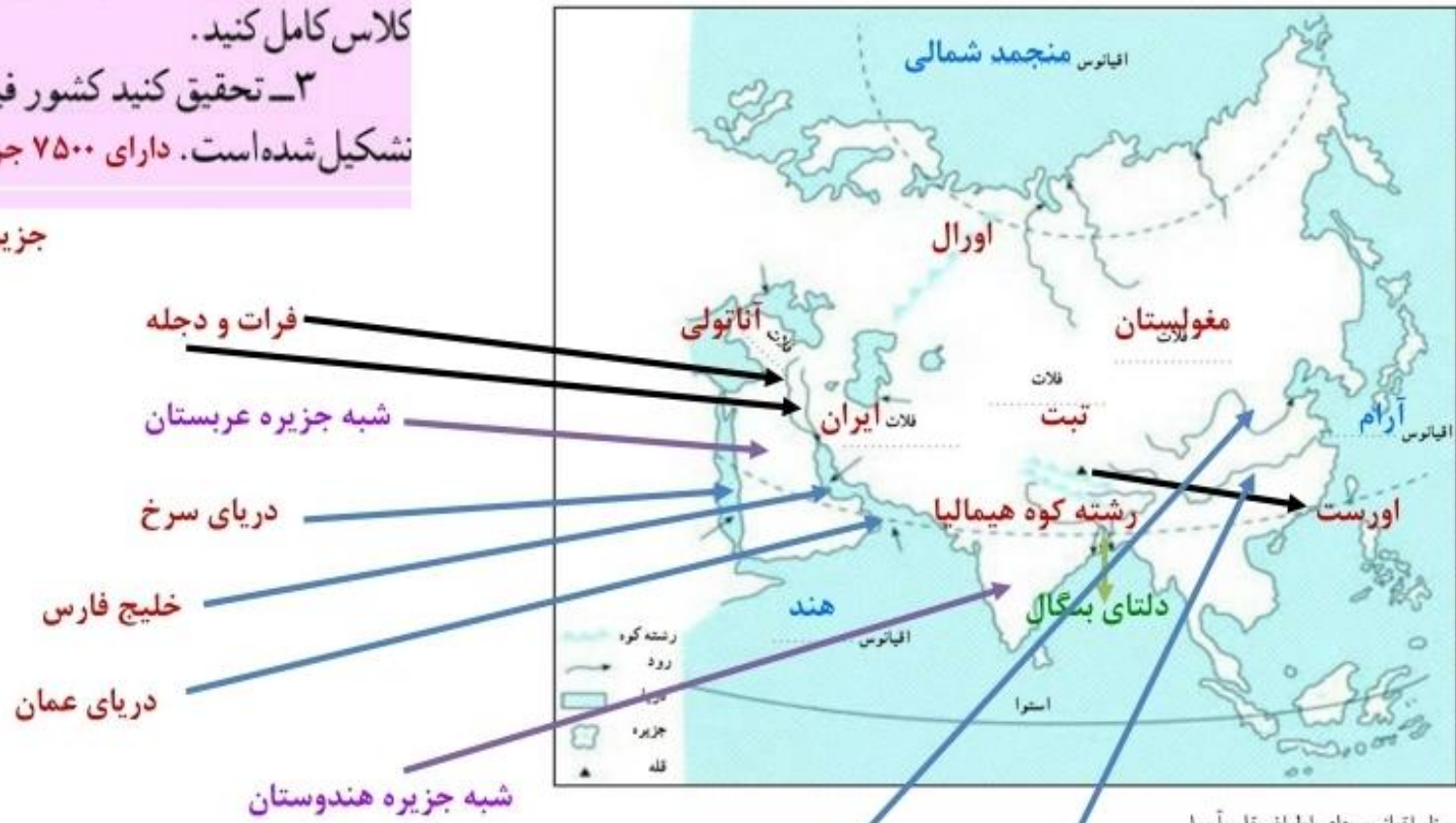
کاربرگه شماره ۱۲

۲- کاربرگه شماره (۱۲) نقشه قاره آسیا را در کلاس کامل کنید.

۳- تحقیق کنید کشور فیلیپین از چند جزیره تشکیل شده است. دارای ۷۵۰۰ جزیره است که فقط ۲۰۰۰

جزیره آن مسکونی است.

۱- روی نقشه، نام مکان‌های مورد نظر را بنویسید.



- نام اقیانوس‌های اطراف قاره آسیا

- نام دریاها و خلیج‌ها (→)

- نام رشته کوهی که آسیا را از اروپا جدا می‌کند... یانگ تسه کیانگ

- نام فلات‌های بلند آسیا از مغرب به مشرق

- نام رشته کوه و بلندترین قله آسیا

- نام دو شبه‌جزیره وسیع آسیا

- دلتای بنگال

- رودهای مهم آسیا **گنگ - براهما پوترا - سند - یانگ تسه کیانگ - دجله و فرات - هوانگ هو**

۲- نقشه را به دلخواه رنگ‌آمیزی کنید.

کاربرگه شماره ۱۳ نقشه آسیای جنوب غربی



روی نقشه نام مکان‌های مورد نظر را بنویسید.

– نام دریاها و اقیانوس مهم منطقه

– نام تنگه‌های بسفر، داردائل، هرمز، باب المندب و کانال سوئز

– نام کشورهایی که با علامت ؟ مشخص شده است.

– کشور ایران را با رنگ سبز و بقیه کشورها را با رنگی دیگر نشان دهید.

– اگر یک کشتی بخواهد از دریای عمان به دریای مدیترانه و از آنجا به کشورهای اروپایی برود باید از کدام دریاها و تنگه‌ها عبور

کند؟ روی نقشه ترسیم کنید.

کشورهای نفت خیز: عربستان – ایران – عراق – کویت – امارات – قطر – بحرین – سوریه

– روی کشورهای نفت خیز منطقه، علامت ✂ بگذارید.

کشتی باید به ترتیب از: خلیج فارس – تنگه هرمز – دریای عمان – اقیانوس هند – خلیج عدن – تنگه باب المندب – دریای سرخ – کانال سوئز – دریای مدیترانه

عبور کرده تا به جنوب اروپا و کشورهای اروپایی برسد.

موفق باشید. صفوی دبیر مطالعات اجتماعی فارس

فعالیت

۴- کاربرگه شماره (۱۴) محاسبه مقیاس را در کلاس انجام دهید.

۱- یک، چهار میلیون و پانصد هزارم

$$۴۵ \text{ کیلومتر} = ۱۰۰۰۰۰ : ۴۵۰۰۰۰۰$$

۲- تنب کوچک - تنب بزرگ - ابوموسی

۲۴۷/۵ کیلومتر (فاصله بندر لنگه تا ابوظبی روی نقشه

۵/۵ سانتی متر)

$$\frac{۱}{۴۵۰۰۰۰۰} = \frac{۵/۵}{X}$$

$$۴۵۰۰۰۰۰ * ۵/۵$$

$$۱۰۰۰۰۰ : ۲۴۷۵۰۰۰ = ۲۴۷/۵ \text{ کیلومتر}$$

۳- فاصله شهر لار تا بندر چارک ۲/۵ سانتی متر

$$\frac{۱}{۴۵۰۰۰۰۰} = \frac{۲/۵}{X}$$

$$۴۵۰۰۰۰۰ * X$$

$$۴۵۰۰۰۰۰ * ۲/۵$$

$$۱۱۲۵۰۰۰۰ : ۱۰۰۰۰۰ = ۱۱۲/۵$$

محاسبه مقیاس

کاربرگه شماره ۱۴



۱- مقیاس عددی نقشه را بخوانید و معنی آن را بنویسید. سپس محاسبه کنید هر سانتی متر روی نقشه معادل چند کیلومتر روی زمین است؟

۲- در صورتی که یک کشتی از بندر لنگه به ابوظبی برود، مسافران در سمت چپ خود کدام جزیره ها را مشاهده می کنند؟ با توجه به مقیاس نقشه، فاصله این دو بندر چند کیلومتر است؟ محاسبه کنید.

۳- اگر فردی از شهر لار در ایران به بندر چارک سفر کند چند کیلومتر طی می کند؟ محاسبه کنید.

مسئله

۱- اگر فاصله دو روستا روی نقشه ای ۱۰ سانتی متر باشد، در صورتی که مقیاس نقشه $\frac{۱}{۲۵۰۰۰۰}$ باشد، فاصله این دو روستا روی زمین، چقدر است؟

۲- فاصله شهری تا ساحل دریا، روی زمین ۶۰ کیلومتر و روی نقشه ۵ سانتی متر است. مقیاس این نقشه را به دست آورید.



۱- روی نقشه، نام مکان‌های مورد نظر را بنویسید.

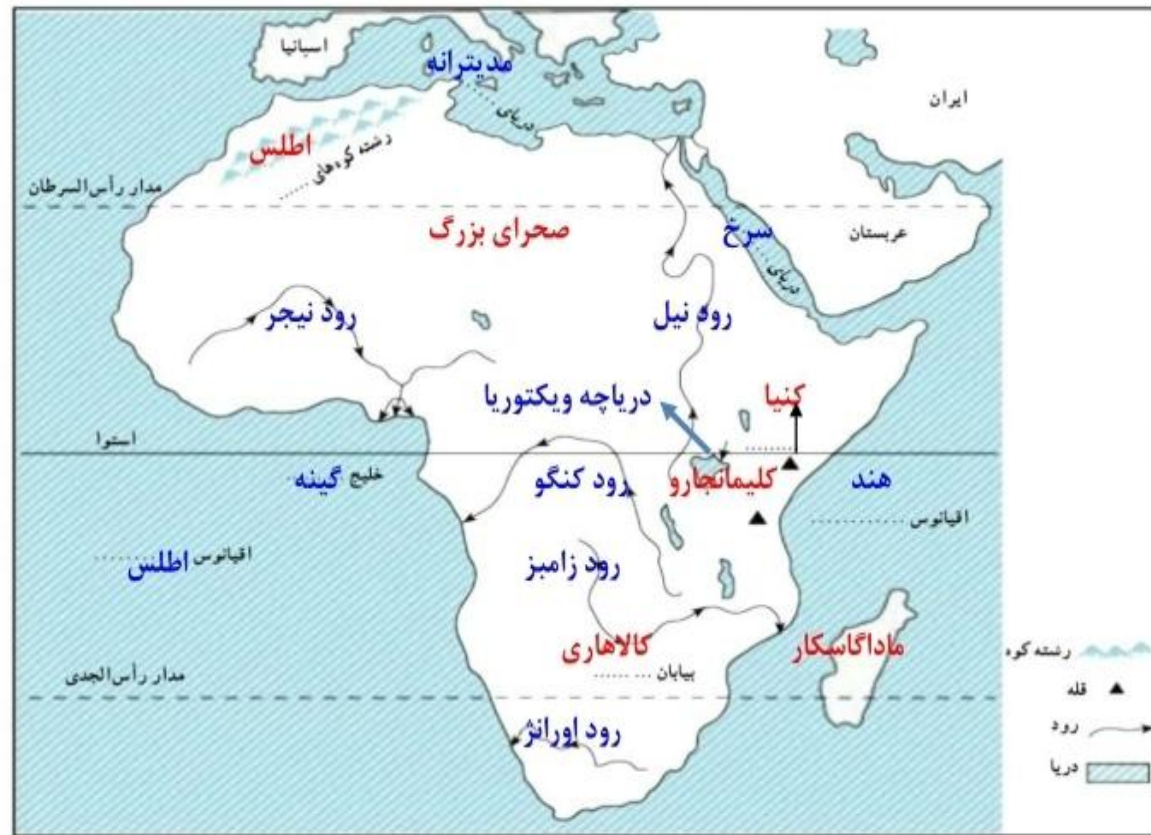
- نام اقیانوس‌ها و دریاهای اطراف قاره اروپا - اقیانوس منجمد شمالی - اقیانوس اطلس شمالی - دریای مدیترانه - دریای شمال - دریای سیاه - نام رودهای ولگا، دُن و راین

- نام دو رشته‌کوه مهم اروپا - رشته کوه آلپ - رشته کوه پیرنه

- نام شبه جزیره اسکانندیناوی و شبه جزیره بالکان

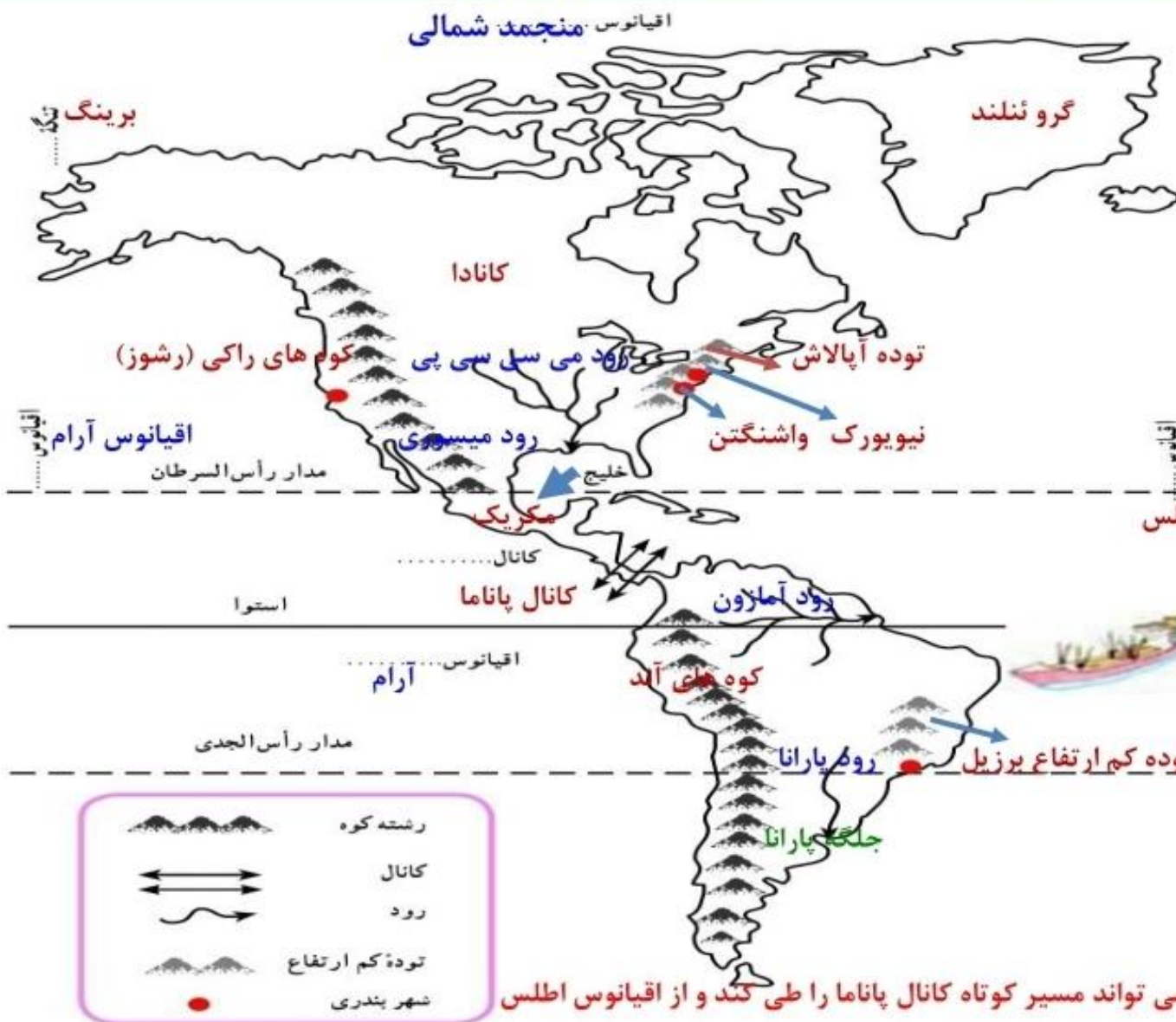
- نام تنگه‌ای که اروپا را از آفریقا جدا می‌کند. تنگه جبل الطارق

۲- نقشه را به دلخواه رنگ‌آمیزی کنید.



- ۱- روی نقشه، نام مکان‌های مورد نظر را بنویسید.
 - نام اقیانوس‌ها و دریاهای اطراف قاره آفریقا
 - نام اقیانوس اطلس و هند - دریای مدیترانه و دریای سرخ
 - نام رشته‌کوهی که در شمال غربی آفریقا قرار دارد. رشته کوه اطلس
 - نام دو قله بلند آفریقا
 - کینیا و کلیمانجارو
 - نام بزرگ‌ترین دریاچه آفریقا
 - ویکتوریا
 - نام رودهای مهم آفریقا
 - نام صحرای بزرگ آفریقا و بیابان کالاهاری
 - نام خلیجی در غرب آفریقا
 - خلیج گینه
- ۲- نقشه را به دلخواه رنگ‌آمیزی کنید.

کاربرگه شماره ۱۷ نقشه قاره آمریکا



۱- روی نقشه، موارد زیر را بنویسید.

- نام تنگه‌ای که قاره آمریکا را از قاره آسیا جدا می‌کند.

- نام اقیانوس‌ها و خلیج‌ها

- نام رودها و جلگه‌های

مهم آمریکای شمالی

- نام رودها و جلگه‌های

مهم آمریکای جنوبی

- نام رشته‌کوه‌های بلند و

جوان آمریکای شمالی

- نام رشته‌کوه‌های بلند و

جوان آمریکای جنوبی

- نام توده کم‌ارتفاع قدیمی

آمریکای شمالی

- نام توده کم‌ارتفاع قدیمی

آمریکای جنوبی

- محل شهرهای واشنگتن

و نیویورک را روی نقشه بنویسید.

- نام کانال معروفی که دو

اقیانوس را به هم می‌پیوندد.

۲- فرض کنید روی نقشه،

یک کشتی می‌خواهد از یک

اقیانوس به اقیانوس دیگر، سفر

کند. دو مسیر جداگانه برای کشتی

بکشید. سپس بگویید کدام مسیر

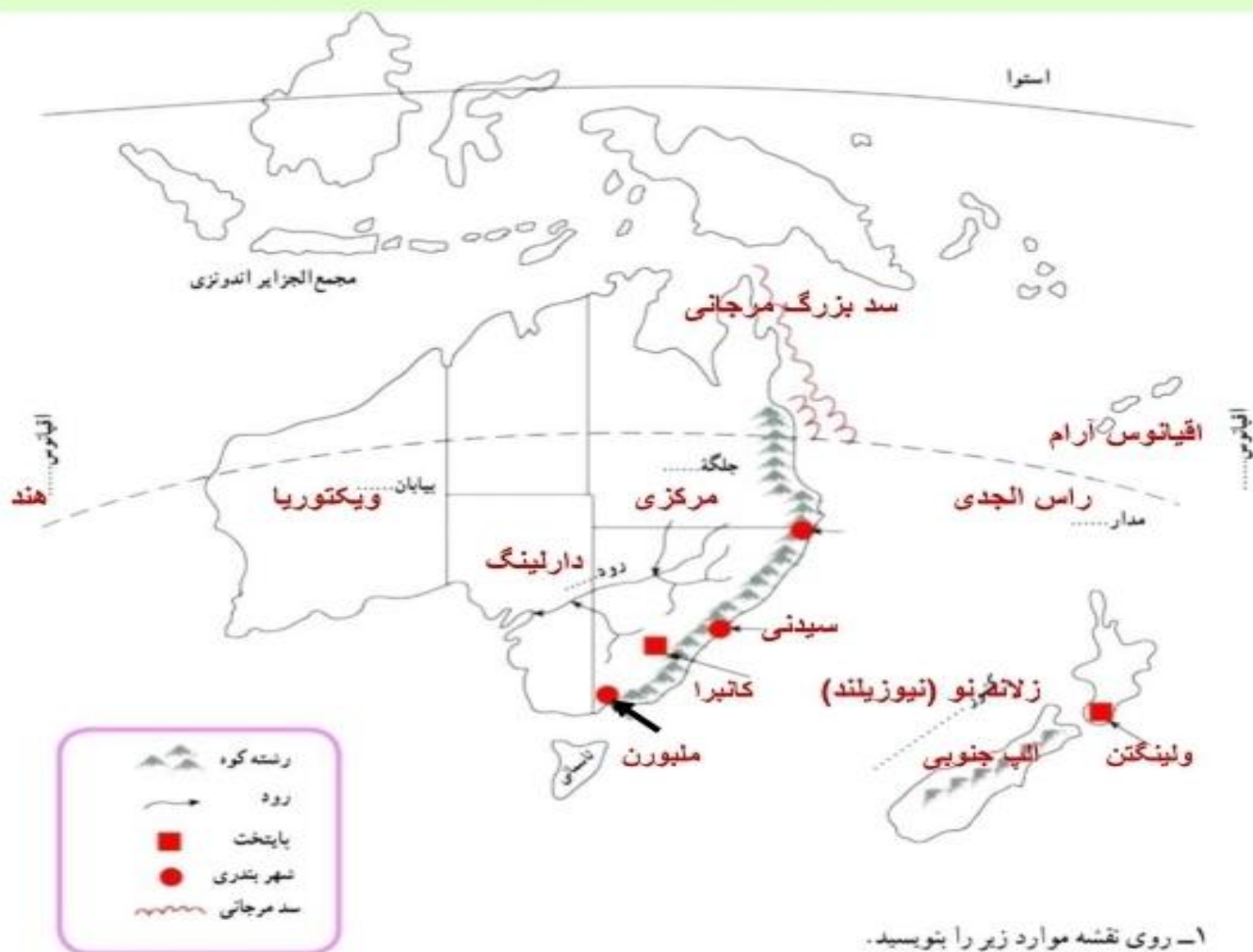
کوتاه‌تر است؟ چرا؟

۳- نقشه را به دلخواه رنگ‌آمیزی کنید.

کشتی می‌تواند مسیر کوتاه کانال پاناما را طی کند و از اقیانوس اطلس

به آرام برود. یا اینکه آمریکای جنوبی را دور زده و از اقیانوس اطلس به آرام برود.

کاربرگه شماره ۱۸ نقشه استرالیا، نیوزیلند



۱- روی نقشه موارد زیر را بنویسید.

- نام اقیانوس‌های اطراف استرالیا

- نام رود، جلگه و بیابان مشخص شده رود دارلینگ - جلگه مرکزی - بیابان ویکتوریا

- نام کشور جزیره‌ای که در منطقه اقیانوسیه واقع است و پایتخت آن زلاند نو (نیوزیلند) - پایتخت ولینگتن

- نام پایتخت و دو بندر مهم استرالیا

- نام مدار فرضی که از استرالیا عبور می‌کند. پایتخت استرالیا کاتبرا - دو بندر مهم ملبورن و سیدنی

- محل سد بزرگ مرجانی استرالیا مدار راس الجدی

۲- نقشه را به دلخواه رنگ‌آمیزی کنید.