



درس اول

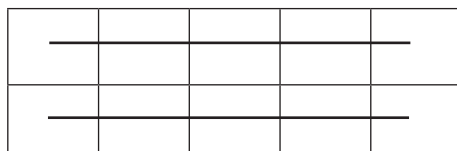
موضوع : شمارش چند تا چند تا

هدف: شمارش چند تا چند تا

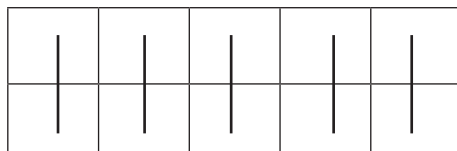
برای شمارش اشکال می توانید آن ها را به شکل های مختلف دسته بندی کنید و آنها را بشمارید. سریع ترین راه برای پیدا کردن جواب الگوهای شکلی، دسته بندی ۵ یا ۱۰ تایی است.

مثال:

تعداد مربع های کوچک شکل زیر را به چند صورت می توان به دست آورد.



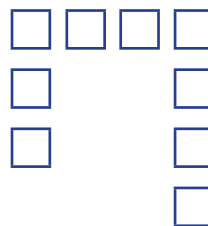

۵، ۱۰



۲، ۴، ۶، ۸، ۱۰

تمرین

۱- شکل های زیر را دسته بندی کنید. به کمک الگوی شمارش چند تا چند تا و نوشتن یک عبارت جمع تعداد مربع های هر شکل را به دست آورید.



۲. مربع های کوچک شکل زیر را به ۳ روش دسته بندی کنید و با شمارش چند تا چندتا تعداد آنها را به دست آورید.

