

اُمید ۶ تراش داشت. برادرش ۳ تراشِ دیگر به او داد. اُمید چند تراش دارد؟




با کامل کردن شکل ها جمع ها را پاسخ بده.



$$۳ + ۶ =$$



$$۵ + ۲ =$$



$$۲ + ۳ =$$

ابتدا شکل ها را کامل کن. سپس با توجه به عبارت ها ، شکل ها را خط بزن و تفریق ها را پاسخ بده.



$$۷ - ۳ =$$





$$۱۰ - ۶ =$$

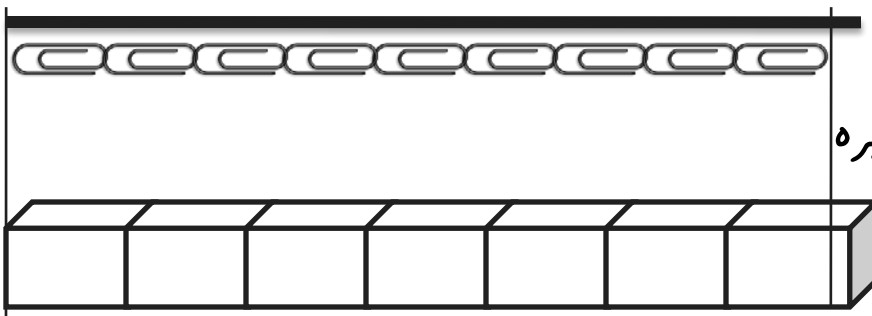


$$۶ - ۲ =$$

چند تا بودند؟ چند تا رفتند؟ چند تا ماندند؟ تفریق مربوطه را کامل کن.




اندازه ی نی ، به اندازه ی کمی بیشتر از چند چینه و گیره است؟



کمی بلندتر از.....گیره

کمی بلندتر از.....چینه

دسته بندی کن و در جدول یکی و ده تایی بنویس.



ده تایی	یکی

بازخورد آموزگار :  خیلی خوب  خوب  قابل قبول  نیاز به تلاش بیشتر