

درنامه و نکات مهم مطالعات اجتماعی، ششم

منطقه جنوب غربی آسیا و جایگاه ایران در آن (فصل ۱۰)

ایران و منطقه جنوب غربی آسیا (درس ۲۰)

دیر: صفوی

فارس، جهرم

سال تحصیلی ۱۳۹۹-۱۴۰۰



ایران در منطقه جنوب غربی آسیا یکی از مناطق راهبردی (استراتژیک) جهان است، واقع شده است .
خاورمیانه : منطقه جنوب غربی آسیا و شمال آفریقا را (خاورمیانه) و کشورهای شرق آسیا را (خاور دور) نامیده اند.

چرا این منطقه ، استراتژیک است؟

این منطقه در کانون اتصال سه قاره آسیا ، اروپا و آفریقا است. آبراهه های مهمی مانند : تنگه هرمز ، بسفر ، داردانل و باب المندب در این منطقه قرار دارند.

موقعیت بندر گاهی برای کشورها اهمیت زیادی دارد ، چون استفاده از حمل و نقل ارزان کالاها و انرژی را میسر می سازد.

به وسیله این آبراهه ها ، دریاهای منطقه به هم می پیوندند و به آب های آزاد اقیانوس ها راه می یابند.

این منطقه انبار مهم انرژی در جهان است. حدود دو سوم ذخایر نفت جهان و یک سوم منابع گاز جهان در این منطقه قرار دارد.

کشورهای عمده صادر کننده نفت مانند: عربستان ، ایران ، عراق ، کویت و امارات متحده عربی در این منطقه واقع هستند.

بخش بزرگی از این منابع در منطقه خلیج فارس واقع شده است. اقتصاد و صنعت جهان به شدت به منابع انرژی در این منطقه وابسته است.

این منطقه ، کانون جهان اسلام است. مکه و مدینه مقدس ترین شهرهای مسلمانان هستند.

از اجتماعات بزرگ دیگر راهپیمایی اربعین است که هر ساله میلیون ها انسان را گرد هم جمع می کند.

مکه و مدینه هر ساله در ایام مراسم حج ، صدها هزار نفر را در خود جای داده و اجتماع باشکوه مسلمانان شکل می گیرد.



آیا می دانید حمل و نقل دریایی، بسیار ارزان تر از حمل و نقل جاده ای تمام می شود؟
جابه جایی بارهای بسیار سنگین و حجیم، فقط با کشتی میسر است. با کامیون ها و تریلی ها در حمل و نقل جاده ای حداکثر می توان باری به وزن صد تن را جابه جا کرد ولی به وسیله کشتی صدها هزار تن بار به راحتی حمل و نقل می شود. ضمناً جابه جایی بار توسط کشتی، محدودیت ها و موانع حمل و نقل جاده ای را نیز ندارد چون در دریا می توان کیلومترها راه را بدون برخورد به مانع طی کرد.



حمل بار با کشتی، ایران



تنگه بسفر، ترکیه



مسجد الحرام، سعی صفا و مروه



کربلا، راه پیمایی عظیم و میلیونی اربعین امام حسین (ع)

همکاری کشورهای منطقه با بستن پیمان های اقتصادی و فرهنگی

یکی از این پیمان ها ، پیمان همکاری اقتصادی (اِکو) است که در سال ۱۳۴۱ بین ایران ، پاکستان و ترکیه بسته شد .
هم اکنون ده کشور منطقه عضو این پیمان هستند.

چرا جنوب غربی آسیا منطقه ای پر تنش است؟

این منطقه از آسیا ، منطقه ای پر تنش است .

برخی جنگ های منطقه و زمان وقوع آنها در سال های اخیر

	در چهار دهه گذشته	حملات نظامی رژیم اشغالگر قدس (اسرائیل) به جنوب لبنان، نوار غزه و اردوگاه های فلسطینی ها
۱۳۵۸		حمله نظامی شوروی سابق به افغانستان و اشغال آن
۱۳۵۹		جنگ تحمیلی رژیم بعثی عراق علیه ایران
۱۳۶۹		حمله نظامی آمریکا و انگلیس به عراق
۱۳۸۰		حمله نظامی آمریکا به افغانستان و اشغال آن
۱۳۸۲		اشغال نظامی عراق توسط آمریکا
در دهه گذشته		جنگ های نیابتی علیه جبهه مقاومت و مردم سوریه و عراق



- اقتدار و ثبات جمهوری اسلامی ایران در میان ده ها پایگاه نظامی آمریکایی متجاوز
- پس از ترور سردار سلیمانی هنگام حضور رسمی وی در عراق توسط آمریکا و پاسخ کوبنده ایران با حمله موشکی به یکی از مهم ترین پایگاه های آمریکا در منطقه (عین الأسد در عراق)، سرعت خروج نیروهای اشغالگر آمریکایی از منطقه افزایش یافته است.



در ۳۰ سال اخیر ، جنگ ها و وقایع ناگواری د این منطقه رخ داده است ، چرا؟

*بخش عمده ای از منابع انرژی کشورهای صنعتی و راه های حمل و نقل دریایی در این منطقه است.

* به همین دلیل این منطقه مورد توجه قدرت های بزرگ استکباری جهان است.

* قدرت های استکباری با استفاده از نفوذشان بر حکومت

های وابسته در منطقه و ایجاد جنگ های نیابتی موجب

بروز تنش و بحران در منطقه می شوند.

* هم چنین در گذشته دسترسی به آب های

خلیج فارس و اقیانوس هند ، موضوع مهمی

برای کشورهای قدرتمند بوده و همواره بر

سر این موضوع با یکدیگر در رقابت و تلاش

بوده اند.

آمریکا ، انگلستان و برخی کشورهای

سلطه گر برای حفظ منافع خود در

منطقه ، در کشورهای وابسته ، پایگاه

های نظامی ایجاد کرده و در این پایگاه

ها ، تسلیحات نظامی مختلف انبار و

نیروهای نظامی مستقر کرده اند.

* از طرفی برخی کشورهای

منطقه به شیوه پادشاهی ، امیر

نشین و موروثی اداره می شوند

و مردم نقش موثری در حکومت

ندارند.

رزیم اشغالگر قدس (اسرائیل) با

حمایت آمریکا و انگلیس علاوه بر

سرکوب مردم مظلوم فلسطین و اشغال

سرزمین های همسایه به توطئه و

دشمنی با مسلمانان کشورهای منطقه

می پردازد.

فعالیت

به چند گروه تقسیم شوید و با همفکری به پرسش‌ها، پاسخ دهید.

۱- چرا دسترسی به دریا و آب‌های آزاد اقیانوس‌ها، تا این حد برای کشورها، مهم است؟ دلیل بیاورید.

۲- متن را بخوانید و علل کشمکش‌ها و جنگ‌ها در منطقه آسیای جنوب‌غربی را به‌طور خلاصه، فهرست کنید.

۳- اگر در منطقه به جای اختلاف‌ها، اتحاد و همکاری بین کشورها برقرار شود، چه پیامدهایی برای مردم منطقه دارد؟

۱- ارتباط با کشورهای مختلف جهان از راه دریا - تجارت دریایی - حمل و نقل ارزان و آسان - دسترسی آسان به مناطق مختلف جهان از راه دریا

۲- وجود منابع انرژی جهان در این منطقه - وابستگی کشورهای این منطقه به قدرت‌های بزرگ و اختلاف بین کشورهای منطقه -

سرکوب و تصرف سرزمین فلسطین توسط اسرائیل - دشمنی اسرائیل با مسلمانان - وجود پایگاه‌های نظامی کشورهای سلطه‌گردد منطقه

۳- کشورهای سلطه‌گر نمی‌توانستند در منطقه نفوذ کنند - جنگ‌ها و کشمکش‌ها و تنش‌های بین کشورها از بین می‌رفت -

اتحاد و همبستگی بین کشورهای منطقه و در نتیجه پیشرفت کشورها در زمینه‌های مختلف اتفاق می‌افتاد.



جایگاه ایران در منطقه

ایران کشوری قدرتمند در جنوب غربی آسیا است و در این منطقه جایگاه خاصی دارد :

* انقلاب اسلامی ایران الگویی برای مردم کشورهای دیگر است تا علیه ظلم و استبداد داخلی و قدرت‌های بزرگ خارجی به پا خیزند و چهره‌ای متعالی از اسلام به جهانیان عرضه کنند. امروزه، جمهوری اسلامی ایران از مردم مظلوم همه کشورها به‌ویژه فلسطین حمایت می‌کند.

* کشور ایران از اقوام مختلف تشکیل شده است و این اقوام همواره با یکدیگر وحدت و همبستگی داشته و از کشور دفاع کرده‌اند.

* کشور ایران از نظر وسعت دومین کشور وسیع و از نظر جمعیت نیز دومین کشور پرجمعیت آسیای جنوب غربی است.

* کشور ایران دارای منابع مهم انرژی است و از نظر داشتن منابع نفت، مقام چهارم و منابع گاز، مقام اول را در منطقه دارد.

* ایران پس از پیروزی انقلاب اسلامی پیشرفت‌های زیادی در علم و فناوری داشته است.

* کشور ایران به دلیل داشتن سواحل طولانی و موقعیت بندرگاهی و دسترسی به آب‌های آزاد جایگاه ممتازی در منطقه دارد.



سواحل ایران در خلیج فارس و دریای عمان (مکران)

- از اروند رود در جنوب غرب
- تا تنگه هرمز
- و از آنجا تا بندر گواتر (گواتر) در جنوب شرق

امتداد دارد.

در این سواحل طولانی بنادر مهم بازرگانی و نفتی به وجود آمده اند.

کشور ایران در خلیج فارس، جزیره های فراوانی دارد، مهم ترین آن ها: خارک - کیش، قشم، لارک، لاوان، تنب کوچک، تنب بزرگ ابو موسی و...

نظامی

تجارت و بازرگانی

استخراج نفت

علت اهمیت جزایر ایرانی خلیج فارس:

تنگه هرمز: یک آبراهه بین المللی است که همه کشورها حق دارند طبق قوانین بین المللی رفت و آمد در تنگه ها با کشتی از آن عبور کنند.



○ بازداشت نظامیان آمریکایی پس از ورود غیرقانونی به مرزهای آبی ایران،
خلیج فارس، ۱۳۹۴

دلاوران نیروی دریایی جمهوری اسلامی ایران همانند نیروی زمینی در زمان جنگ تحمیلی رژیم عراق علیه ایران، با شجاعت و رشادت جنگیدند و از کشور دفاع کردند و نگذاشتند در رفت و آمد کشتی های تجاری و واردات کالا به ایران مشکلی پیش آید.

نیروی دریایی ایران در زمان صلح نیز، حافظ منافع کشورمان در دریاهاست. نیروی دریایی همچنین در مواقعی که برای کشتی ها چه در آب های ایران و چه در آب های بین الملل، حوادثی به وجود بیاید، به آن ها کمک می کند.



○ حضور نیروهای دریایی جمهوری اسلامی ایران در آب های منطقه



زیر دریایی ساخت ایران



ناو جنگی جماران، ساخت ایران

فلسطین ، مهم ترین مسئله جهان اسلام

مسئله فلسطین و ظلم یهودیان صهیونیست به مردم آن جا ، مسئله مربوط به مردم عرب یا صرفا یک مسئله اسلامی نیست ، بلکه یک مسئله بسیار با اهمیت است.

دلایل اهمیت فلسطین

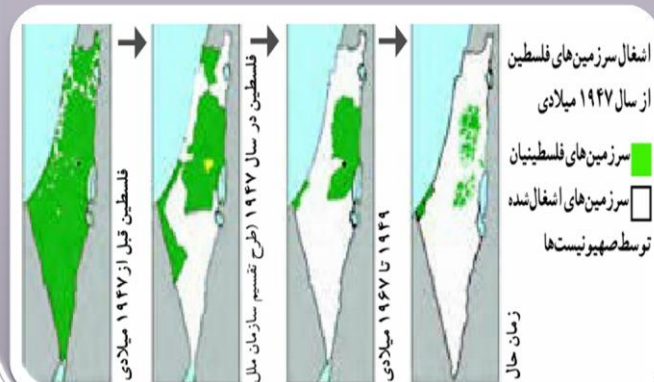
۱- فلسطین مهد ادیان الهی محل زندگی بسیاری از پیامبران و مورد توجه بسیاری از مردم جهان به خصوص مسلمانان ، مسیحیان و یهودیان است.

۴- یکی از آبراهه های مهم جهان (کانال سوئز) نزدیک فلسطین قرار دارد و ارتباط بین غرب و شرق را فراهم می کند.



۲- فلسطین در محل تقاطع و اتصال سه قاره آسیا ، اروپا و آفریقا قرار دارد و راه های ارتباطی زمینی این سه قاره می باشد .چنین مناطقی در جهان از اهمیت خاصی برخوردارند.

مسیر آبی دریای مدیترانه - دریای سرخ و اقیانوس هند بسته به کانال سوئز است. روزانه کشتی های زیادی برای مبادله کالا مثل نفت ، بین کشورها از این راه جا به جا می شود.



۳- تشکیل دولت اسرائیل در قلب جهان اسلام ، دارای هدف بلند مدت استکباری زیر است.

زیرا ادامه حیات و فعالیت اسرائیل باعث می شود که اگر کشوری اسلامی بخواهد در منطقه قدرتمند شود اسرائیل به مقابله با آن کشور می پردازد و جلو نفوذ آن را می گیرد.





○ مسجد الاقصى و قبة الصخره

صهیونیسم فراتر از اسرائیل

در دنیا یهودیان فراوانی وجود دارند که از صهیونیسم بیزارند. صهیونیسم یک جریان فکری - سیاسی متجاوز است که تشکیل دولت اسرائیل را هدف نهایی خود می‌داند و برای رسیدن به آن، هرگونه اقدامی انجام می‌دهند. منظور از صهیونیسم فقط دولت اشغالگر فلسطین نیست، بلکه راه‌اندازی و اداره دولت اسرائیل تنها بخشی از مجموعه فعالیت این گروه است. آنها در واقع سرمایه‌داران بزرگی هستند که در کشورهای مانند آمریکا نفوذ فراوان دارند و تا حد زیادی بر سیاست آن کشور مسلط‌اند. امروزه حتی برخی سازمان‌های بین‌المللی نیز در زمینه‌های مالی، نظامی، تبلیغاتی و فرهنگی اسیر سیاست‌های توسعه‌طلبانه صهیونیسم‌اند.

قبل از انقلاب اسلامی، رژیم ظالم پهلوی حتی اجازه تفکر درباره مسئله فلسطین را نمی‌داد. آنها نمی‌گذاشتند مردم احساس کنند که مسئله فلسطین جزئی از مسئله مسلمانان و انقلاب اسلامی است و به آینده و پیشرفت ایران مرتبط است. امام خمینی برای اولین بار در تاریخ مبارزات عربی و اسلامی و فلسطینی، یک روز را به نام روز قدس و به‌عنوان نمادی برای مبارزه با صهیونیسم، معین کرد.

ابتکار عمل جبهه مقاومت

از زمان اشغال فلسطین توسط صهیونیست‌ها و با حمایت دولت‌های انگلیس و آمریکا، مردم فلسطین طی سالیان طولانی علیه اشغالگران مبارزه کرده‌اند. تاکنون، همواره دشمن متجاوز، ابتکار عمل را در دست داشته است: نخست خریدن فریبکارانه زمین‌های فلسطینیان، سپس مسلح شدن صهیونیست‌های مهاجر، بعد از آن، جنگ داخلی و اعلام تجزیه فلسطین، سپس تصرف بخش‌های جدیدی از آن کشور اسلامی و در نهایت تصرف بخش‌هایی از کشورهای مصر و سوریه و اردن الحاق به آن.



اما امروز مردم مسلمان فلسطین با مقاومت خویش در مقابل دشمنان اشغالگر، ابتکار عمل را به‌دست گرفته‌اند. رژیم صهیونیستی به هیچ وجه توانایی لازم برای یک رویارویی مستمر و درازمدت را با جبهه مقاومت ندارد. بعد از جنگ ۲۳ روزه حزب‌الله لبنان به رهبری سیدحسن نصرالله و همچنین جنگ ۲۲ روزه مردم فلسطین با رژیم اشغالگر قدس، صهیونیست‌ها به شدت و از جنبه‌های مختلف، ضربه‌های سنگینی را متحمل شده و

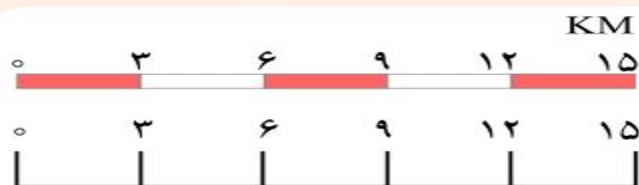
افسانه شکست‌ناپذیری آنها فروریخته است. تنها راه در مسیر مبارزه با اسرائیل تا محو شدن کامل آن، اتحاد مسلمانان، ادامه مقاومت و همچنین تقویت اعتراضات شجاعانه و مبارزه مردمی این کشور (انتفاضه) است.



مهارت های نقشه ۲

مقیاس نقشه و محاسبه مسافت ها

سال گذشته با مقیاس خطی آشنا شدید و پی بردید که مقیاس نقشه به ما نشان می دهد که فاصله های روی نقشه، بر روی زمین و در عالم واقعیت چقدر است. به عبارت دیگر مسافت های روی نقشه، نسبت به مسافت های واقعی روی زمین چقدر کوچک تر شده اند. در مقیاس خطی روبه رو هر سانتی متر روی نقشه چند کیلومتر روی زمین است؟



علاوه بر مقیاس خطی ممکن است مقیاس را با اعداد و به صورت کسری نمایش دهیم که در این صورت به آن مقیاس عددی (کسری) می گوئیم.

در نقشه ها ممکن است از مقیاس خطی یا مقیاس عددی (کسری) و یا هر دو استفاده شده باشد. برای مثال مقیاس نقشه روبه رو $\frac{1}{50000}$ (۱ : ۵۰/۰۰۰) است. یعنی یک سانتی متر روی نقشه، برابر است با ۵۰/۰۰۰ سانتی متر



روی زمین.
توجه

$$\text{مقیاس} = \frac{\text{فاصله دو نقطه بر روی نقشه}}{\text{فاصله همان دو نقطه بر روی زمین}}$$

حال اگر از روستای «الف» تا «ب» را روی نقشه اندازه بگیریم ۳ سانتی متر باشد، فاصله واقعی این دو مکان را با استفاده از مقیاس کسری به صورت زیر محاسبه می کنیم؛

سانتی متر روی نقشه
۱
۳

سانتی متر روی زمین
۵۰۰۰۰
x

$$3 \times 50000 = 150000$$

$$150000 : 100 = 1500$$

$$1500 : 1000 = 1/5$$

سانتی متر روی زمین
۱۵۰۰۰
کیلومتر روی زمین

$$\text{۱ کیلومتر} = 1000 \text{ متر} \quad \text{۱ سانتی متر} = 100 \text{ متر}$$

انواع مقیاس

۰ ۱ ۲ ۳ ۴ ۵ ۶ ۷ ۸ ۹ ۱۰

--	--	--	--	--	--	--	--	--	--

Km

مقیاس خطی (ترسیمی)

(در این مقیاس هر ۱ CM روی نقشه برابر با ۱ KM اندازه واقعی (روی زمین) است.

مقیاس کسری (عددی) ۱:۱۰۰۰۰۰ (یک صد هزارم) (یعنی هر ۱ CM روی نقشه برابر با ۱۰۰۰۰۰ CM اندازه واقعی (روی زمین) است.

در مقیاس های کسری هر چه عدد مخرج کسر کوچکتر باشد آن کسر بزرگتر است در نتیجه مساحت کمتری را نشان می دهد ولی جزئیات را مشخص تر.

در مقیاس های کسری که عدد مخرج بزرگ تر است آن کسر کوچک تر است در نتیجه در نقشه هایی با مقیاس کوچک تر مساحت بیشتر نشان داده می شود و جزئیات کتر مشخص می شوند.

(این دو مورد مانند زمانی است که ما بر روی پشت بام باشیم و به اطراف نگاه کنیم (مقیاس بزرگ عدد مخرج کوچک تر)

و زمانی که ما در هلیکوپتر قرار داریم و به پایین و زمین نگاه می کنیم (مقیاس کوچک با عدد مخرج بزرگ)

برای حل مسائل مقیاس به موارد زیر توجه نمایید.

➤ برای تبدیل کیلومتر به متر عدد داده شده را در ۱۰۰۰ ضرب می کنیم .

(۱ کیلومتر برابر با ۱۰۰۰ متر)

$$KM_1 * 1000 = M_{1000}$$

➤ برای تبدیل کیلومتر به سانتی متر عدد داده شده را در ۱۰۰ هزار ضرب می کنیم.

(۱ کیلومتر برابر با ۱۰۰ هزار سانتی متر)

$$KM_1 * 100000 = CM_{100000}$$

➤ برای تبدیل متر به کیلومتر عدد داده شده را تقسیم بر ۱۰۰۰ می کنیم.

(۱۰۰۰ متر برابر با ۱ کیلومتر)

$$M_{1000} : 1000 = KM_1$$

➤ برای تبدیل سانتی متر به کیلومتر عدد داده شده را تقسیم بر ۱۰۰ هزار می کنیم.

(۱۰۰ هزار سانتی متر برابر با ۱ کیلومتر)

$$CM_{100000} : 100000 = KM_1$$

توجه داشته باشید در مسائل مختلف مقیاس به صورت زیر عمل می کنیم.

✚ وقتی در صورت مسئله فاصله دو مکان به سانتی متر داده شد فاصله آن دو نقطه روی نقشه می باشد بنابراین در صورت کسر قرار

می گیرد. و مخرج فاصله واقعی (روی زمین) نامعلوم است که باید به دست آوریم (بعد از به دست آوردن عدد خواسته شده با

توجه به مسئله آن را به متر یا کیلومتر تبدیل می کنیم.

✚ و زمانی که عدد داده شده برای فاصله دو مکان در مسئله به متر و کیلومتر است آن عدد نشان دهنده فاصله آن دو مکان در روی زمین است بنابراین در مخرج کسر قرار داده و صورت کسر (فاصله دو مکان در روی نقشه) نامعلوم است که باید به دست آوریم. در این نوع مسائل باید متر و کیلومتر داده شده در صورت مسئله را به سانتی متر تبدیل کرده بعد مسئله را حل کنیم.

نمونه اول

۱- فاصله شهر الف تا شهر ب روی نقشه ای با مقیاس ۱:۲۰۰۰,۰۰۰ ، ۲۰ CM می باشد فاصله حقیقی (واقعی) این دو شهر چند متر و چند کیلومتر می باشد؟

$$\frac{1}{200000} = \frac{20}{x} \Rightarrow$$

نمونه دوم

۲- فاصله دو روستا روی نقشه ای با مقیاس ۱ : ۱۰۰۰۰۰ ، ۲۵ کیلومتر است ، فاصله این دو روستا روی نقشه چقدر است؟
نکته : (در این مسئله در زمان حل کردن کیلومتر به سانتی متر تبدیل شود).

$$\frac{1}{100000} = \frac{x}{25} \Rightarrow$$

(۱۰۰۰۰۰ * ۲۵)

نمونه سوم

۳- فاصله دو دریاچه در استان فارس روی نقشه ای ۵۰ سانتی متر و فاصله واقعی آن دو دریاچه ۱۵۰ کیلومتر است ، مقیاس نقشه را پیدا کنید.

نکته : (در این مسئله در زمان حل کردن کیلومتر به سانتی متر تبدیل شود).

(این سه مسئله و دو مسئله در کاربرگه را حل کنید)

فعالیت

۴- کاربرد شماره ۱۴ (محاسبه مقیاس رادر کلاس انجام دهید.

۱- یک، چهار میلیون و پانصد هزارم

$$۴۵۰۰۰۰۰ : ۱۰۰۰۰۰ = ۴۵ \text{ کیلومتر}$$

۲- تنب کوچک - تنب بزرگ - ابوموسی

۲۴۷/۵ کیلومتر (فاصله بندر لنگه تا ابوظبی روی نقشه

۵/۵ سانتی متر)

$$\frac{۱}{۴۵۰۰۰۰۰} = \frac{۵/۵}{X}$$

$$۴۵۰۰۰۰۰ * ۵/۵$$

$$۲۴۷۵۰۰۰۰ : ۱۰۰۰۰۰ = ۲۴۷/۵ \text{ کیلومتر}$$

۳- فاصله شهر لار تا بندر چارک ۲/۵ سانتی متر

$$\frac{۱}{۴۵۰۰۰۰۰} = \frac{۲/۵}{X}$$

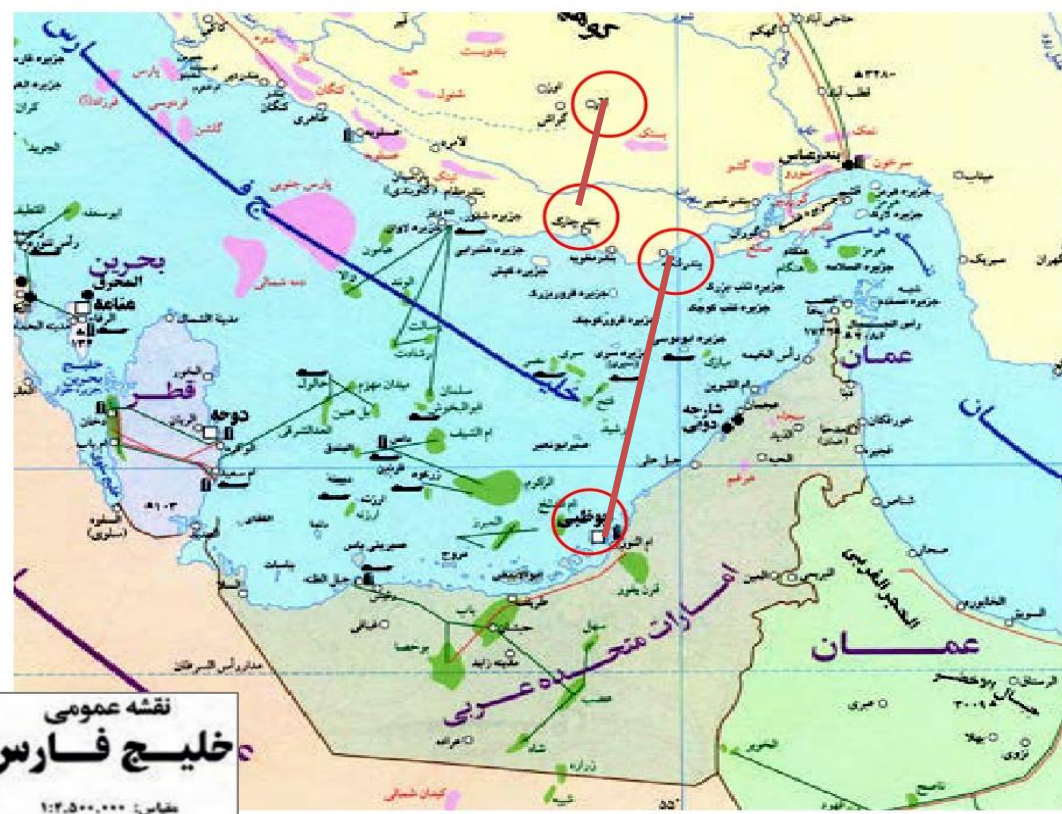
$$۴۵۰۰۰۰۰ * ۲/۵$$

$$۱۱۲۵۰۰۰۰ : ۱۰۰۰۰۰ = ۱۱۲/۵$$

صفوی دبیر مطالعات اجتماعی ، فارس ، جهرم

محاسبه مقیاس

کاربرگه شماره ۱۴



نقشه عمومی
خلیج فارس
مقیاس: ۱:۴,۵۰۰,۰۰۰

۱- مقیاس عددی نقشه را بخوانید و معنی آن را بنویسید. سپس محاسبه کنید هر سانتی متر روی نقشه معادل چند کیلومتر روی زمین است؟

۲- در صورتی که یک کشتی از بندر لنگه به ابوظبی برود، مسافران در سمت چپ خود کدام جزیره ها را مشاهده می کنند؟ با توجه به مقیاس نقشه، فاصله این دو بندر چند کیلومتر است؟ محاسبه کنید.

۳- اگر فردی از شهر لار در ایران به بندر چارک سفر کند چند کیلومتر طی می کند؟ محاسبه کنید.

مسئله

۱- اگر فاصله دو روستا روی نقشه ای ۱۰ سانتی متر باشد، در صورتی که مقیاس نقشه $\frac{۱}{۲۵۰۰۰۰}$ باشد، فاصله این دو روستا روی زمین، چقدر است؟

۲- فاصله شهری تا ساحل دریا، روی زمین ۶۰ کیلومتر و روی نقشه ۵ سانتی متر است. مقیاس این نقشه را به دست آورید.