



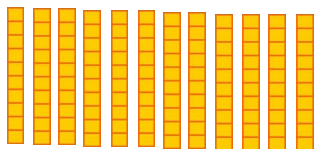
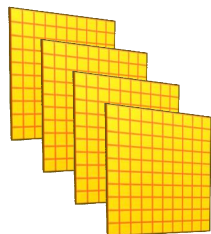
۹۱/۱۱/۸

کار در خانه ریاضی پایه دوم

نام و نام خانوادگی :

به نام خدا


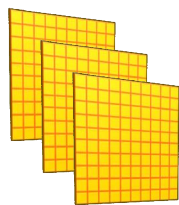
۱- تا جایی که می توانید دسته های ده تایی و صدتایی درست کنید ، سپس عددی را که هر شکل نشان می دهد به عدد و حروف بنویسید .



صدگان	دهگان	یکان

به عدد : .....

به حروف : .....



صدگان	دهگان	یکان

به عدد : .....

به حروف : .....

۲- برای این که عدد مناسب جای خالی را پیدا کنید برای بسته های صدتایی و ده تایی و یکی ها شکل بکشید .

۴ صدتایی و ۳ ده تایی و ۱۵ یکی برابر است با .....

۲ صدتایی و ۱۴ ده تایی و ۴ یکی برابر است با .....

۳- اعداد را با هم مقایسه کنید و در جای خالی علامت مناسب بگذارید .

۶۴۰ ○ ۶۴

۹۵ ○ ۱۰۵

۴۳ ○ ۳۷

۵۶ ○ ۶۵

۱۰۶ ○ ۶۶

۵۰۴ ○ ۴۰۵

۶۵۵ ○ ۷۰۰

۲۵۸ ○ ۲۳۵

۴- عددهای زیر را به صورت باز شده بنویسید .

۴۲۷ =

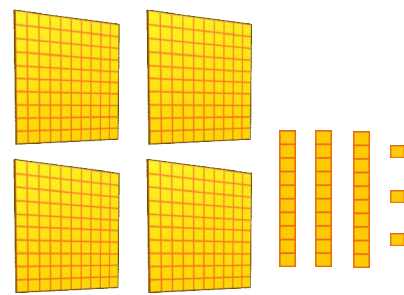
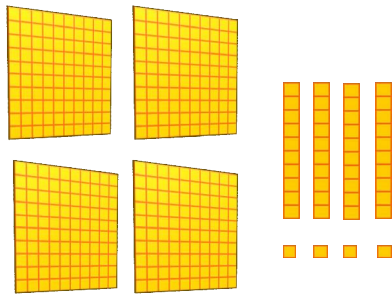
۶۵۲ =

۵- ابتدا حاصل جمع و تفریق های زیر را در کنار آن ها بنویسید سپس دو عبارت را با هم مقایسه کنید .

..... = ۹۰۰ - ۶۰۰    ۵۰۰ + ۴۰۰ = .....    ..... = ۸۰۰ - ۳۰۰    ۳۰۰ + ۲۰۰ = .....

..... = ۳۰۰ + ۲۰۰ + ۶۰    ۵۰۰ + ۴۰ + ۷ = .....

۶- قسمت های مساوی از دو طرف را حذف کنید و آن ها را با هم مقایسه کنید .



۷- الگوهای عددی زیر را ادامه دهید .

۳۷۸ ، ۴۷۸ ، ۵۷۸ ، ..... ، ..... ، ..... ، .....

۳۵۰ ، ۴۰۰ ، ۴۵۰ ، ..... ، ..... ، ..... ، .....

۶۵۰ ، ۶۷۰ ، ۶۹۰ ، ..... ، ..... ، ..... ، .....

۱ ، ۴ ، ۹ ، ۱۶ ، ۲۵ ، ..... ، ..... ، ..... ، .....