

تفریق در جدول ارزش مکانی

فعالیت



۱- حمید ۶۶۴۷ ریال در فلک خود بول داشت. او ۲۳۲۵ ریال از بول هایش برداشت. حالا چقدر بول دارد؟ **۴۳۲۲**

ه	ص	د	ی
۶	۶	۴	۷
-۲	۳	۲	۵
۴	۳	۲	۲



- _____ ۲ چند سکه‌ی ۱ ریالی دارد؟
- _____ ۲ چند سکه‌ی ۱۰ ریالی دارد؟
- _____ ۳ چند سکه‌ی ۱۰۰ ریالی دارد؟
- _____ ۴ چند سکه‌ی ۱۰۰۰ ریالی دارد؟

۲- حمید ۴۳۲۲ ریال در فلکش داشت. این هفته ۱۱۵۰ ریال از آن برداشت و خرج کرد. حالا چقدر بول دارد؟

ه	ص	د	ی
۴	۳	۲	۲
-۱	۱	۵	۰
۳	۱	۷	۲

حمید چند سکه‌ی ۱ ریالی دارد؟ **۲**
 آیا می‌تواند از سکه‌های ۱۰ ریالی خود ۵ تا بردارد؟ **خیر**
 اگر ۱ سکه‌ی ۱۰۰ ریالی را با ۱۰ سکه‌ی ۱۰ ریالی عوض کند، چند سکه‌ی ۱۰ ریالی خواهد داشت؟
۱۲ سکه

حالا ۵ تا از سکه‌های ۱۰ ریالی را برمی‌دارد؛ چند سکه‌ی ۱۰ ریالی می‌ماند؟ **۷ سکه**
 با توجه به اینکه یک سکه‌ی ۱۰۰ ریالی را برای تعویض با سکه‌های ۱۰ ریالی داده است، چند سکه‌ی ۱۰۰ ریالی برایش می‌ماند؟ **۱ سکه (بعد از انجام تفریق)**
 چند سکه‌ی ۱۰۰۰ ریالی دارد؟ **۳ سکه**

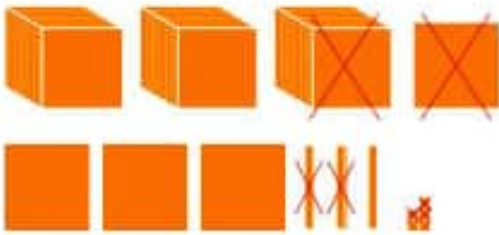
۳- با توجه به شکل، تفریق را در جدول ارزش مکانی انجام دهید.

ه	ص	د	ی
۳	۳	۴	۴
-۲	۱	۴	۲
۱	۲	۱	۲





با توجه به شکل، حاصل تفریق‌ها را به دست آورید یا برای تفریق‌های داده شده، شکل بکشید.




$$\begin{array}{r} 3435 \\ - 1123 \\ \hline 2312 \end{array}$$






$$\begin{array}{r} 2250 \\ - 1421 \\ \hline 829 \end{array}$$

یک دسته ۱۰۰۰ تایی که به ۱۰ تا ۱۰۰ تایی تبدیل شده است

$$\begin{array}{r} 2512 \\ - 1351 \\ \hline 1161 \end{array}$$



$$\begin{array}{r} 2259 \\ - 2356 \\ \hline 1103 \end{array}$$



۱- تعداد کل مربع‌ها را با نوشتن ضرب و جمع به دست آورید.

کامل کن



$$(2 \times 4) + (5 \times 3) = 8 + 15 = 23$$

۲- حاصل عبارت‌ها را به دست آورید.

$$4 \times (7+2) = 4 \times 9 = 36$$

$$(2+5) \times 8 = 8 \times 8 = 64$$

$$(7-5) \times (8-3) = 2 \times 5 = 10$$

$$(8+2) + (7 \times 5) = 2 + 35 = 37$$

تمرین



۱- فهیمه از سمته پرسید: «جقدر پول داری؟» سمته گفت: «اگر ۱۷۵۰ تومان از پدرم بگیرم، پول هایم ۴۰۰۰ تومان می شود.» سمته جقدر پول دانست؟

$$\begin{array}{r} 3910 \\ - 4000 \\ \hline -1750 \\ \hline 2250 \end{array}$$

او ۲۲۵۰ تومان پول داشت.

۲- قیمت پیراهنی که آرش می خواهد بخرد، ۸۹۰۰ تومان است. اگر او ۹ اسکناس ۱۰۰۰ تومانی به فروشنده بدهد، جقدر باید پس بگیرد؟

$$\begin{array}{r} 8100 \\ - 9000 \\ \hline -8900 \\ \hline 0100 \end{array}$$

باید ۱۰۰ تومان پس بگیرد.

۳- کوچک ترین عدد سه رقمی را از بزرگ ترین عدد ۴ رقمی کم کرده ایم؛ حاصل چند شده است؟

$$\begin{array}{r} 9999 \\ - 1000 \\ \hline 9899 \end{array}$$

ک: ۱۰۰ ب: ۹۹۹۹

۴- با رقم های ۲، ۷، ۱، ۵ بزرگ ترین و کوچک ترین عدد ۴ رقمی را بسازید. اختلاف این دو عدد را پیدا کنید.

$$\begin{array}{r} 7521 \\ - 2157 \\ \hline 5364 \end{array}$$

ک: ۲۱۵۷ ب: ۷۵۲۱

۵- ارتفاع قله ی توجال ۳۹۳۳ متر و قله ی دنا ۵۲۰۰ متر است. قله ی توجال چند متر از دنا کوتاه تر است؟



$$\begin{array}{r} 11910 \\ - 5200 \\ \hline 6710 \end{array}$$

۶- حاصل تفریق ها را به دست آورید.

$$\begin{array}{r} 3000 \\ - 1234 \\ \hline 1766 \end{array}$$

$$\begin{array}{r} 8050 \\ - 3027 \\ \hline 5023 \end{array}$$

$$\begin{array}{r} 8040 \\ - 5205 \\ \hline 2835 \end{array}$$

$$\begin{array}{r} 7300 \\ - 2170 \\ \hline 5130 \end{array}$$