


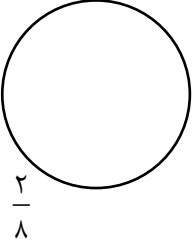

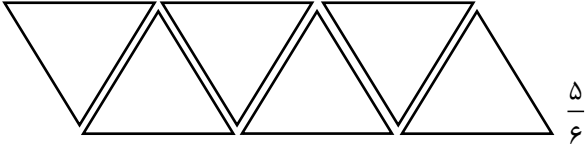
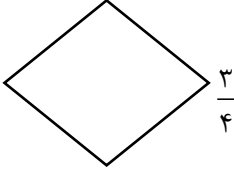


پایه سوم ابتدایی سال تحصیلی: ۱۳۹۷-۱۳۹۸	دبستان پسرانه ایران «تکلیف ریاضی»	نام و نام خانوادگی: نام دبیر: خانم علی نژاد
خداوندا، دانش مرا بیفزای، چرا که دانش بهتر از دارایی است. دانش مرا پاس می‌دارد.		ردیف
<p>آموزگار تخته‌ی وایت برد کلاس را با استفاده از ماژیک به دو قسمت مساوی تقسیم کرد. در یک قسمت آن مسئله نوشت و قسمت دیگر را به دونیم کرد و نیم از آن را جمع و نیم دیگر را تفریق نوشت. ابتدا با رسم تخته‌ی کلاس قسمت‌بندی‌ها را انجام دهید و سپس به سؤالات زیر پاسخ دهید.</p> <p>الف) در چه قسمتی از تخته جمع نوشته شده است؟ ب) در چه قسمتی مسئله نوشته شده است؟ ج) در چه قسمتی تفریق نوشته شده است؟</p>		۱-
<p>جاهای خالی را کامل کنید.</p> <p> قسمت از قسمت مساوی</p> <p> قسمت از قسمت مساوی</p> <p> قسمت از قسمت مساوی</p>		۲-
<p>از هر شکل به اندازه‌ی کسر داده شده رنگ کنید.</p> <p> $\frac{2}{8}$</p> <p> $\frac{1}{2}$</p> <p> $\frac{5}{6}$</p> <p> $\frac{3}{4}$</p>		۳-

۴- کسر مربوط به قسمت رنگی هر شکل را بنویسید.

.....

۵- هر شکل تقریباً چه کسری را نشان می‌دهد؟


.....

۶- با نواری به طول ۲۸ سانتی‌متر یک مربع ساخته‌ایم. مساحت مربع چند سانتی‌متر مربع است؟

۷ در هر شکل مساحت قسمت رنگی را حساب کنید. (همه واحدها به سانتی‌متر است)

۸- مساحت مستطیل بزرگ چند برابر مستطیل کوچک است؟

-۹	مادر محمد در یک روز ۳ کلاه می‌بافد. او در یک هفته چند کلاه می‌بافد؟ (جدول الگویابی رسم شود)												
-۱۰	الگوی عددی زیر را ادامه دهید.												
-۱۱	جدول زیر را کامل کنید. <table border="1" data-bbox="142 695 1398 940"> <tr> <td data-bbox="142 695 375 821">نمایش به صورت دیجیتالی</td> <td data-bbox="375 695 561 821"></td> <td data-bbox="561 695 769 821">۱۸:۲۰</td> <td data-bbox="769 695 979 821"></td> <td data-bbox="979 695 1187 821">23:00</td> <td data-bbox="1187 695 1398 821"></td> </tr> <tr> <td data-bbox="142 821 375 940">خواندن ساعت</td> <td data-bbox="375 821 561 940">هفت ونیم</td> <td data-bbox="561 821 769 940"></td> <td data-bbox="769 821 979 940">هشت و نیم بعدازظهر</td> <td data-bbox="979 821 1187 940"></td> <td data-bbox="1187 821 1398 940">پنج و چهل دقیقه بعدازظهر</td> </tr> </table>	نمایش به صورت دیجیتالی		۱۸:۲۰		23:00		خواندن ساعت	هفت ونیم		هشت و نیم بعدازظهر		پنج و چهل دقیقه بعدازظهر
نمایش به صورت دیجیتالی		۱۸:۲۰		23:00									
خواندن ساعت	هفت ونیم		هشت و نیم بعدازظهر		پنج و چهل دقیقه بعدازظهر								
-۱۲	عدد ۷۹۸۶ را در جدول ارزش مکانی قرار بدهید. الف) این عدد را به حروف بنویسید. ب) کدام رقم بیشترین ارزش مکانی را دارد؟ ج) کوچکترین رقم در چه مرتبه‌ای قرار دارد؟ <table border="1" data-bbox="142 1062 805 1310"> <tr> <td data-bbox="142 1062 298 1310">هزارگان</td> <td data-bbox="298 1062 467 1310">صدگان</td> <td data-bbox="467 1062 636 1310">دهگان</td> <td data-bbox="636 1062 805 1310">یکان</td> </tr> <tr> <td data-bbox="142 1146 298 1310"></td> <td data-bbox="298 1146 467 1310"></td> <td data-bbox="467 1146 636 1310"></td> <td data-bbox="636 1146 805 1310"></td> </tr> </table>	هزارگان	صدگان	دهگان	یکان								
هزارگان	صدگان	دهگان	یکان										
-۱۳	مازیار برای رفتن به مدرسه ۳ کیلومتر راه باید طی کنند. او هر بار دررفت و برگشت به مدرسه چند متر را باید طی کند؟												
-۱۴	جاهای خالی را با کلمات مناسب پر کنید. الف) ۳۲۹۶ متر یعنی یکی ده تایی هزار تایی صد تایی. ب) ۴۵۰۰ متر یعنی کیلومتر و متر. ج) فاصله‌ی شهر نیشابور تا مشهد ۱۲۷ است. د) ۳ کیلوگرم و ۷۸۰ گرم یعنی گرم.												

<p>۷۵۶۰.....۷۵۷۰</p> <p>۳ کیلوگرم.....۲ کیلوگرم و ۲۵۰ گرم</p> <p>$\frac{3}{8}$.....$\frac{5}{8}$</p>	<p>در جای خالی علامت $< = >$ بگذارید.</p> <p>7×7.....$10 + (5 \times 8)$</p> <p>2×3.....$28 \div 4$</p> <p>$2 \frac{80}{100}$ متر.....280 سانتی متر</p>
<p>$6 \times 8 = (6 \times 5) + (6 \times 3) =$</p>	<p>۱۶- تساوی زیر را با رسم شکل نشان بدهید. سپس پاسخ را بنویسید.</p>
<p>$\frac{3}{6} = \dots = \dots$</p>	<p>۱۷- برای هر یک از کسرهای داده شده دو کسر مساوی بنویسید.</p> <p>$\frac{2}{4} = \dots = \dots$</p>
	<p>۱۸- برای شکل زیر یک تساوی جمع، ضرب و یک تقسیم بنویسید.</p> <p>جمع =</p> <p>ضرب =</p> <p>تقسیم =</p>