

جامای خالی را پر کن.

طول قلم پاک کن است.

طول قلم بین و چینه است.

یعنی از تا بیشتر، ولی به تا نمی‌رسد.

طول قلم بین و چوب کبریت است. یعنی از تا بیشتر، ولی به تا نمی‌رسد.

در هر قسمت، اندازه‌ی طول شکل‌ها را با توجه به نوار کاغذی مشخص کن.

اندازه‌ی تیر قسمت بزرگ و قسمت کوچک است.

اندازه‌ی تیر قسمت بزرگ و قسمت کوچک است.

اندازه‌ی تیر قسمت بزرگ و قسمت کوچک است.

اندازه‌ی تیر قسمت بزرگ و قسمت کوچک است.

اندازه‌ی تیر قسمت بزرگ و قسمت کوچک است.

اندازه‌ی تیر قسمت بزرگ و قسمت کوچک است.

۳- هر ساعت چه زمانی را نشان می‌دهد؟ مقدار حرکت عقربه بزرگ را در ساعت‌های چپ با رنگ کردن نشان بده

عقربه‌ی بزرگ دقیقه حرکت کرده است.

عقربه‌ی بزرگ دقیقه حرکت کرده است.

عقربه‌ی بزرگ دقیقه حرکت کرده است.

۴- در جای خالی عدد مناسب بنویس

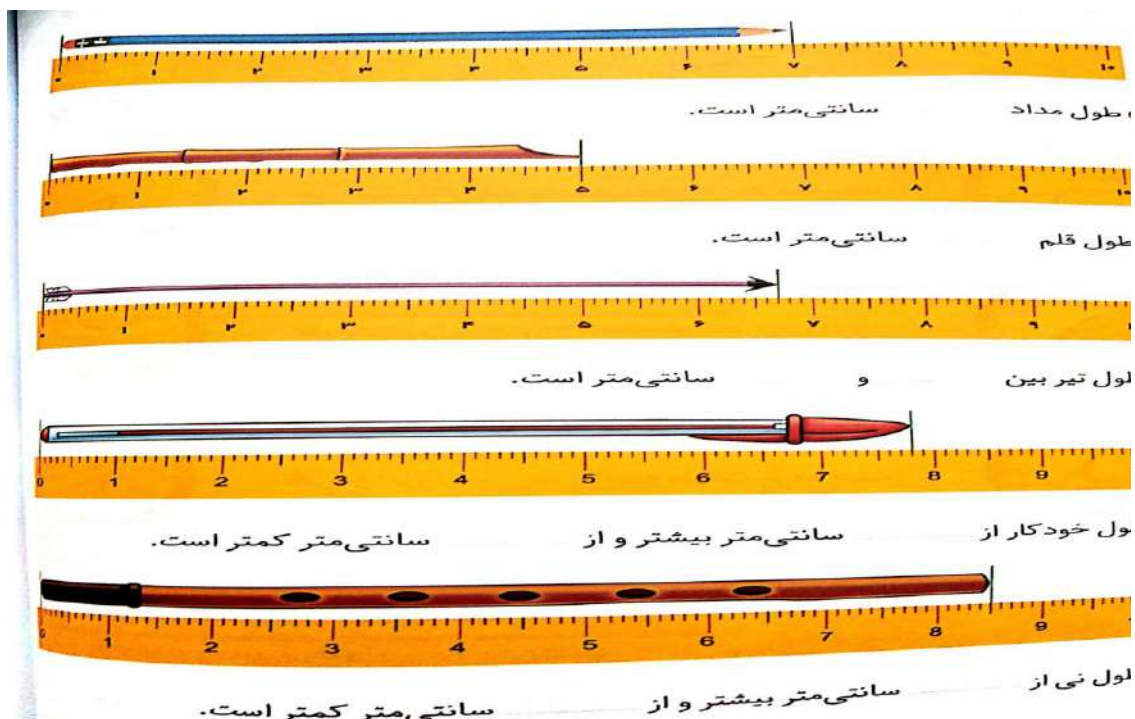
$30 + \dots = 52$

$40 - \dots = 15$

$50 - \dots = 22$

$35 - \dots = 20$

۵- با توجه به تصویر، جمله های زیر را بخوان و کامل کن.



۶- برادر نرگس ۱۸ سال دارد. چند سال دیگر او ۳۰ ساله می شود؟

۷- زهرا ۴۲ امتیاز دارد. او می خواهد از بانک جایزه ی مدرسه یک جایزه ی ۷۰ امتیازی بگیرد او چند امتیاز دیگر لازم دارد؟

۸- اندازه بگیر و جمله ها را کامل کن.



۹- با استفاده از خط کش و مداد رنگی خط های زیر را رسم کن


۱- یک خط سبز به اندازه ی ۳ سانتی متر.

۲- یک خط قرمز به اندازه ی ۵ سانتی متر

۳- یک خط آبی که اندازه ی آن از ۴ سانتی متر بیشتر و از ۵ سانتی متر کمتر باشد

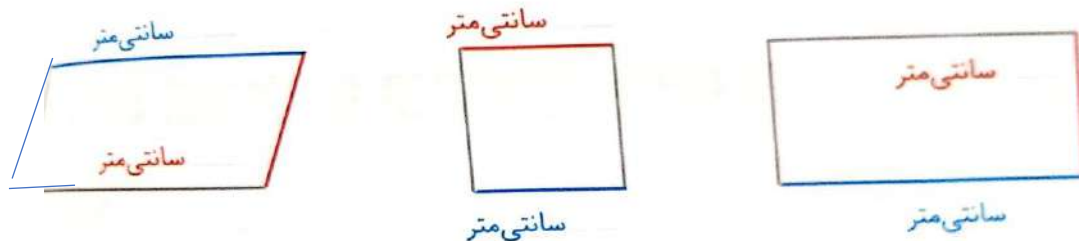
یک خط صورتی به اندازه ی ۲ سانتی متر و ۵ قسمت کوچک

۱۰- خط های زیر را اندازه بگیر و بنویس.



- ⊙ اندازه ی خط بنفش سانتی متر و میلی متر، یا میلی متر است.
- ⊙ اندازه ی خط آبی سانتی متر و میلی متر، یا میلی متر است.
- ⊙ اندازه ی خط مشکی سانتی متر و میلی متر، یا میلی متر است.
- ⊙ اندازه ی خط قرمز سانتی متر و میلی متر، یا میلی متر است.
- ⊙ اندازه ی خط صورتی سانتی متر و میلی متر، یا میلی متر است.
- ⊙ اندازه ی خط سبز سانتی متر و میلی متر، یا میلی متر است.

۱۱- د ر شکل های زیر ضلع های رنگی را اندازه بگیر و بنویس. آیا می توانی اندازه ی ضلع های دیگر را بدون خط کش به دست آوری؟



۱۲- از عدد صفر خط کش قسمت های کوچک را بشمار و پاسخ بده



- Ⓒ هشتمین قسمت یعنی میلی متر.
- Ⓒ ۱۲ میلی متر یعنی سانتی متر و میلی متر.
- Ⓒ سیزدهمین قسمت یعنی میلی متر.
- Ⓒ ۱۶ میلی متر یعنی سانتی متر و میلی متر.
- Ⓒ بیستمین قسمت یعنی میلی متر.
- Ⓒ ۲۳ میلی متر یعنی سانتی متر و میلی متر.
- Ⓒ سی و دومین قسمت یعنی میلی متر.
- Ⓒ ۱۴ میلی متر یعنی سانتی متر و میلی متر.
- Ⓒ ۱ سانتی متر یعنی میلی متر.
- Ⓒ ۴۳ میلی متر یعنی سانتی متر و میلی متر.
- Ⓒ ۲ سانتی متر یعنی میلی متر.
- Ⓒ ۵۱ میلی متر یعنی سانتی متر و میلی متر.
- Ⓒ ۳ سانتی متر یعنی میلی متر.
- Ⓒ ۱۰ سانتی متر یعنی میلی متر.

CS Licensed with Goodnotes

۱۴- قد پدر مریم ۱۸۰ سانتی متر و قد مریم ۱۰۰ سانتی متر است. پدر مریم چه قدر بلند تر است؟

۱۵- مادر فاطمه ۸۰ سانتی متر پارچه آبی و ۷۰ سانتی متر پارچه سبز خریده است. او چند سانتی متر پارچه خریده است؟

۱۶- درخت توت حاجی رضا ۳۵۰ سانتی متر و درخت انار ۳۰۰ سانتی متر است. کدام درخت بلند تر است. چه قدر؟