

بسمه تعالی

تاریخ امتحان: / /

اداره کل آموزش و پرورش شهرستان مرند

نام: .....

دبستان خلیج فارس مرند

درس: ریاضی چهارم

نام خانوادگی: .....

« سوالات »

س.ق.

۱ الف) الگوی زیر را با کشیدن شکل مناسب کامل کنید.



شکل (۱)      شکل (۲)      شکل (۳)      شکل (۴)      شکل (۵)

ب) با کامل کردن جدول زیر، تعیین کنید شکل پنجم، از چند دایره درست شده است؟

شماره شکل	۱	۲	۳	۴	۵
تعداد دایره ها					

۲ اعداد زیر را به حروف بنویسید.

۸۰۱۴۰۵۳۲۱ .....

۴۲۵۰۳۲۶ .....

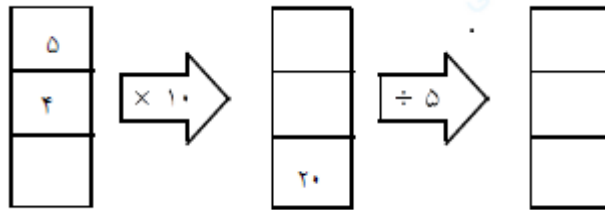
$34587 \square 3458$

$2565730 \square 2565831$

$413178 \square 413256$

۳ اعداد زیر را با هم مقایسه کنید.

۴ ماشین ورودی و خروجی زیر را کامل کنید.



۵ الف) عدد ۳۵۰۹۶۴۲ چند رقمی است؟

ب) ارزش مکانی کدام عدد کمتر است؟

۶ الگو و رابطه بین عدد ها را پیدا کنید.

۵۰، ۱۰۰، ۱۵۰، ..... ، ..... ، .....

۱۰۰۰، ۲۰۰۰، ۳۰۰۰، ..... ، ..... ، .....

پیروز و سربلند باشید.

رضائی

ارزیابی آموزگار:

بسمه تعالی

تاریخ امتحان: / /

اداره کل آموزش و پرورش شهرستان مرند

نام: .....

دبستان خلیج فارس مرند


درس: ریاضی چهارم

نام خانوادگی: .....

« سوالات »

س.ق.

۱ الف) الگوی زیر را با کشیدن شکل مناسب کامل کنید.



شکل (۱)      شکل (۲)      شکل (۳)      شکل (۴)      شکل (۵)

ب) با کامل کردن جدول زیر، تعیین کنید شکل پنجم، از چند دایره درست شده است؟

شماره شکل	۱	۲	۳	۴	۵
تعداد دایره ها	۲	۴	۶	۸	۱۰

۲ اعداد زیر را به حروف بنویسید.

۸۰۱۴۰۵۳۲۱      هشتصد و یک میلیون و چهارصد و پنج هزار و سیصد و بیست و یک.

۴۲۵۰۳۲۶      چهار میلیون و دویست و پنجاه هزار و سیصد و بیست و شش

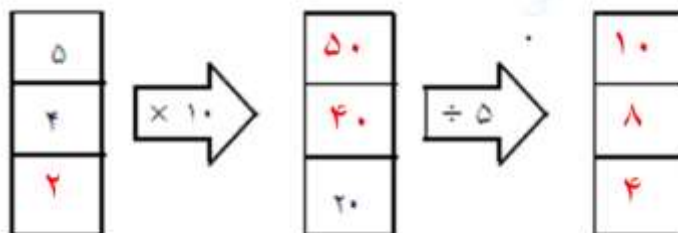
۳ اعداد زیر را با هم مقایسه کنید.

۳۴۵۸۷ > ۳۴۵۸

۲۵۶۵۷۳۰ < ۲۵۶۵۸۳۱

۴۱۳۱۷۸ < ۴۱۳۲۵۶

۴ ماشین ورودی و خروجی زیر را کامل کنید.



۵ الف) عدد ۳۵۰۹۶۴۲ چند رقمی است؟ ۷

ب) ارزش مکانی کدام عدد کمتر است؟ ۲

۶ الگو و رابطه بین عدد ها را پیدا کنید.

۵۰، ۱۰۰، ۱۵۰، ..... ۲۰۰، ..... ۲۵۰، ..... ۳۰۰، .....

۱۰۰۰، ۲۰۰۰، ۳۰۰۰، ..... ۴۰۰۰، ..... ۵۰۰۰، ..... ۶۰۰۰، .....

پیروز و سربلند باشید.

رضائی

ارزیابی آموزگار: