

تم ۹



در این تم یاد می‌گیریم:

★ مفاهیم چپ، راست، ردیف، ستون و ...

★ نمایش حاصل جمع با نماد عددی

★ نوشتن نماد عدد ۵ و ۰

★ تقارن

★ درک نمایش تصویری عمل تفریق

★ ترتیب اعداد ۰ تا ۵



دانش آموز

فرزندم؛ به تصویر تم ۹ با دقت نگاه کن و هر چیزی را که در تصویر می‌بینی، بگو.

داخل گلدان چند گل می‌بینی؟

نقشه‌ی ایران در کدام سمت دیوار است؟



والدین

از فرزندتان چند سوال در رابطه با مفاهیم راست، چپ، ترتیب اعداد ۰ تا ۵ و ... پرسید.






۱- به تعداد دانش آموزان ردیف اول، چینه‌ی سبز و به تعداد دانش آموزان ردیف دوم، چینه‌ی آبی بگذار.

- روی هم چند چینه گذاشته‌ای؟

۲- روی نیمکت هر دانش آموز، چند کتاب می‌بینی؟



ارجاع به کتاب




فرزندم، به یک دست خود نگاه کن و تعداد انگشتانت را بگو.

- حالا به تعداد انگشتان یک دست، چینه بگذار.

- تعداد بادکنک‌های دست این کودک را بشمار و بگو.



- حالا به تعداد بادکنک‌ها، چوب‌خط بکش.






فرزندم، عدد پنج را به صورت روبه‌رو با توجه به جهت فلش می‌نویسیم



داخل گلدان، ۵ شاخه گل بکش.



عزیزم؛ به تعداد عدد نوشته شده از ماهی‌های داخل تنگ رنگ بزن.



ادامه بده.



فرزندم      تمرین‌های

صفحه‌ی      ۵۹ کتاب

ریاضی را انجام بده.





یکی از دوقلوها یک سیب داشت. به مادرش گفت: « این سیب را برای من و خواهرم نصف کن». مادر سیب را از وسط نصف کرد و به دوقلوها داد. آن‌ها هم گفتند: «حالا ما دو نیمه‌ی مثل هم داریم».



دانش آموز

این زنبور هنرمند، نیمه‌ی نقاشی‌ها را رنگ آمیزی کرده است. شما هم مانند او نیمه‌ی دیگر را رنگ آمیزی کنید.



ارجاع به کتاب

فرزندم صفحه‌های ۶۰ و ۶۱ کتاب ریاضی را انجام بده.



خانواده‌ی دوقلوها مشغول خوردن صبحانه بودند.

بعد از خوردن صبحانه، یکی از دوقلوها و برادرش، همراه با پدر بیرون رفتند. حالا چند نفر دور میز هستند؟ عدد آن را بنویس.



دوقلوی دیگر هم برای آب دادن به گل‌ها رفت. حالا چند نفر دور میز می‌بینی؟ عدد آن را بنویس.



مادر هم مشغول کارهای خانه شد. حالا چند نفر دور میز می‌بینی؟ بگو.





نکته



دور میز، هیچ کس نمانده است و در ریاضی هیچ را با عدد صفر نشان می‌دهیم و نماد آن را به صورت روبه‌رو و با توجه به فلش می‌نویسیم:



ادامه بده.



هر کلمه چند نقطه دارد؟ تعداد آن‌ها را بنویس.

آبان



سارا




شیر



بست



اعداد را به ترتیب ادامه بده.



ارجاع به کتاب



فرزندم صفحه‌های ۶۲ و ۶۳ کتاب ریاضی را انجام بده.