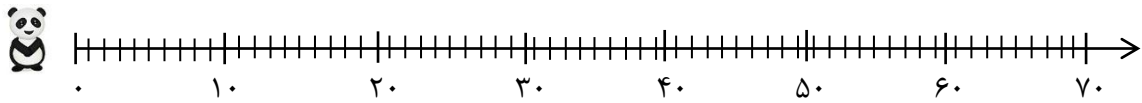


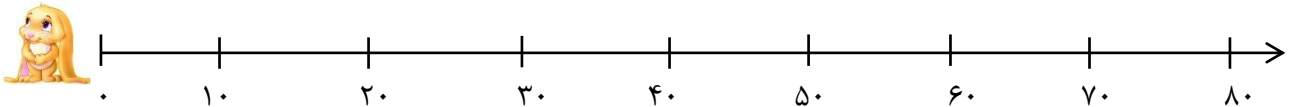
۱- عددهای ۵۲ و ۳۹ و ۶۷ و ۴۲ را روی محور پیدا کن . سپس در جاهای خالی عدد مناسب بنویس .



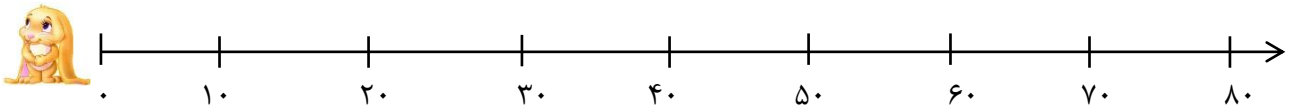
- عدد ۴۲ به عدد نزدیکتر است .
- عدد ۶۷ به عدد نزدیکتر است .
- عدد ۳۹ به عدد نزدیکتر است .
- عدد ۵۲ به عدد نزدیکتر است .

-۲

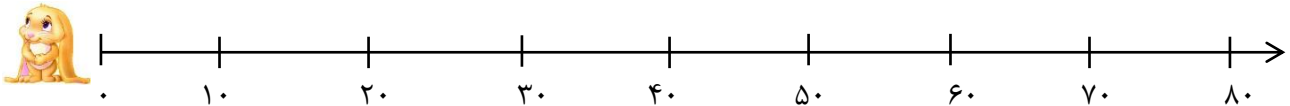
$30 + 10 = \dots\dots\dots$



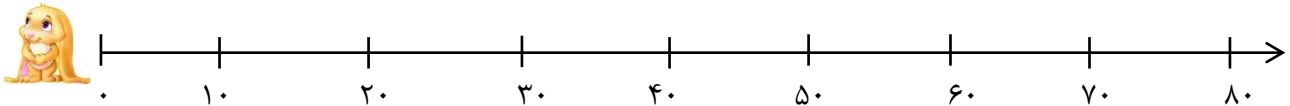
$70 - 40 = \dots\dots\dots$



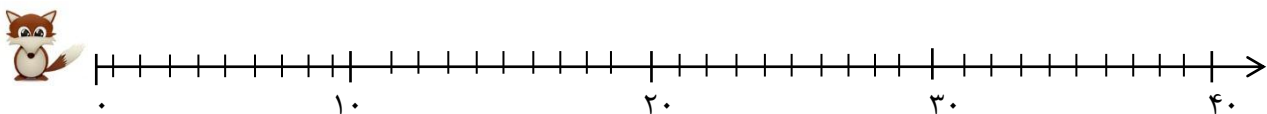
$50 + 10 = \dots\dots\dots$



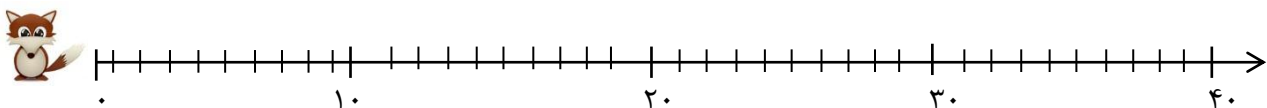
$80 - 20 = \dots\dots\dots$



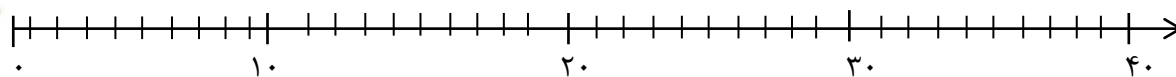
۳- عددهای ۵ ، ۱۵ ، ۲۵ و ۳۵ را با رنگ قرمز روی محور نشان بده .



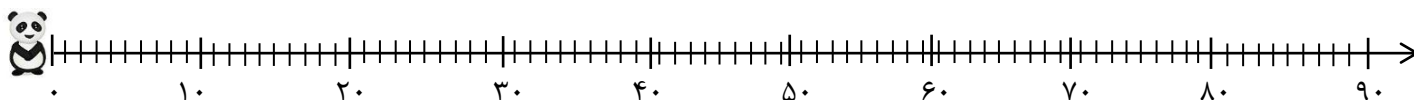
عددهای ۸ ، ۱۶ ، ۲۴ و ۳۲ را با رنگ سبز روی محور نشان بده .



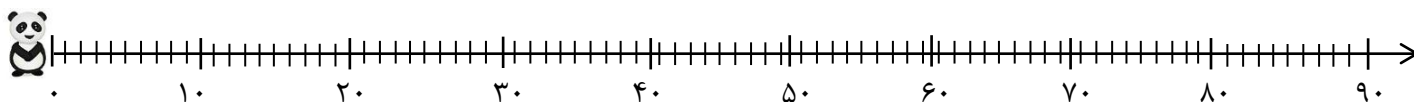
عددهای ۲۱ تا ۲۹ را با رنگ آبی روی محور نشان بده .



۴- عددهای ۱۶، ۳۲، ۲۷، ۴۴، ۵۶، ۶۳، ۷۶، ۸۹ را روی محور نشان دهید .



- عددهایی که یکی های آن ها ۵ است را روی محور نشان دهید .



❖ عدد ۲۷ به ۲۰ نزدیک تر است یا به ۳۰ ؟

❖ عدد ۳۲ به ۳۰ نزدیک تر است یا به ۴۰ ؟

❖ عدد ۴۶ به ۴۰ نزدیک تر است یا به ۵۰ ؟

❖ عدد ۱۴ به ۲۰ نزدیک تر است یا به ۱۰ ؟

❖ عدد ۳۶ به ۳۰ نزدیک تر است یا به ؟

❖ عدد ۵۷ به نزدیک تر است یا به ۶۰ ؟

❖ عدد ۶۴ به نزدیک تر است یا به ؟

❖ عدد ۸۳ به نزدیک تر است یا به ؟