

(۱) جاهای خالی را کامل کنید .

- مثلثی که ..... ضلع آن برابرند، متساوی‌الضلاع نام دارد .
- اندازه‌ی دور هر شکل را ..... می‌نامند.
- ..... سانتی‌متر یعنی ۱ متر و ۳۷ سانتی متر .
- ۶۴۰۰ گرم یعنی ..... کیلوگرم و ..... گرم
- خط‌های ..... هیچ وقت یکدیگر را قطع نمی‌کنند .

(۲) الگوهای زیر را ادامه دهید .



..... - ..... - ..... - ..... - ..... - ۶۰ - ۵۴

(۳) عدد ۸۰۶۳ را در جدول ارزش مکانی قرار بده و به سوالات پاسخ بده .

• عدد را با حروف بنویس .

• رقم صفر در چه مرتبه‌ای قرار دارد؟

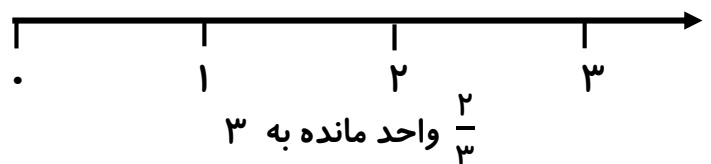
• بزرگترین عدد در چه مرتبه‌ای قرار دارد؟

یکان	دهگان	صدگان	هزارگان


(۴) برنامه‌ی تلویزیونی عموپورنگ ساعت ۱۹:۳۰ پخش می‌شود. زمان پخش این برنامه ساعت چند بعد از ظهر است؟

(۵) کسر  $\frac{۴}{۶}$  را روی شکل نشان بدهید .

(۵) کسر زیر را روی محور نشان بدهید .



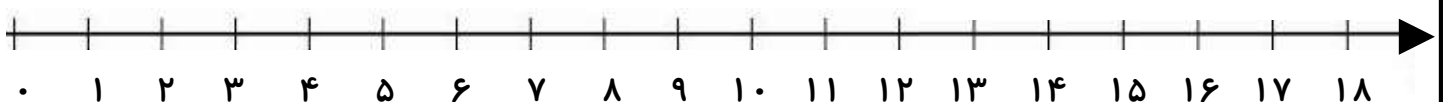
(۶) برای شکلهای روبه‌رو عملیات‌های خواسته شده را بنویسید .



..... + ..... + ..... + ..... + ..... + ..... = .....

..... × ..... = .....

..... ÷ ..... = .....



۷) مقایسه کنید و علامت ( $< = >$ ) بگذارید.

$$\frac{2}{5} \bigcirc \frac{4}{5}$$



$$2000 + 2500 \bigcirc 1500 + 3000$$



$$\frac{1}{6} \bigcirc \frac{1}{4}$$

$$4 \times 1 \bigcirc 8 \times 0$$



$$\text{نیم} \bigcirc \text{نصف}$$



$$24 \div 4 \bigcirc 15 \div 3$$



$$30 \times 30 \bigcirc 60 \times 10$$

۸) باغچه ای به شکل مستطیل به طول ۸ و عرض ۴ داریم. می خواهیم دورتادور آن را نرده بکشیم. برای دور تا دور آن به چند متر نرده نیاز داریم؟ مساحت این باغچه را به دست آورید.

۹) حاصل جمع و تفریق زیر را به دست آورید.

$$\begin{array}{r} 4652 \\ + 3247 \\ \hline \end{array}$$

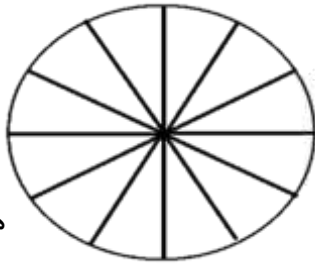


$$\begin{array}{r} 5802 \\ - 2369 \\ \hline \end{array}$$



۱۰) در باغ مشهدی یحیی درختان زیر کاشته شده است. با توجه به جدول نمودارها را کامل کنید.

درخت	زردآلو	سیب	گیلاس	هلو	گلابی
تعداد	۱۵	۲۰	۵	۱۰	۱۰



هر قسمت = ۵ درخت



۱۱) حاصل ضرب و تقسیم زیر را به دست بیاورید.

$$\begin{array}{r} 236 \\ \times 4 \\ \hline \end{array}$$

$$\begin{array}{r} 32 \overline{) 6} \\ \hline \end{array}$$

۱۲) نام شکل های زیر را بنویسید.

