

نام و نام خانوادگی: آموزگار:

تاریخ: کلاس:

کاربرگ ۹- ضرب دو عدد دو رقمی

۱- تمام ضرب‌هایی که جواب آن‌ها ۳۶ می‌شود را در جدول زیر بنویسید.

×	۱	۲	۳	۴	۶					

۲- تمام عددهای یک رقمی را که می‌توان به جای قرار داد بنویسید.

$$32 > \square \times 8$$

۳- چه عددی را در قرار دهیم تا حاصل آن نزدیک‌ترین عدد به جواب باشد؟

$$\square \times 5 < 31$$

$$\square \times 7 < 24$$

$$\square \times 9 < 80$$

۴- در جاهای خالی فقط عددهای یک‌رقمی قرار داده و حاصل را به دست آورید.

$$\begin{array}{r}
 2\square \\
 + \square 7 \\
 \hline
 83
 \end{array}$$

$$\begin{array}{r}
 7\square \\
 - \square 3 \\
 \hline
 56
 \end{array}$$

$$\begin{array}{r}
 4\square\square \\
 + \square 6\square \\
 \hline
 821
 \end{array}$$

۵- با توجه به شکل‌ها، حاصل ضرب‌ها را به دست آورده و جاهای خالی را کامل کنید.

$$\begin{array}{r}
 43 \\
 \times 3 \\
 \hline
 + \\
 \hline
 \hline
 \end{array}$$

$$\begin{array}{r}
 25 \\
 \times 4 \\
 \hline
 + \\
 \hline
 \hline
 \end{array}$$

$$\begin{array}{r}
 144 \\
 \times 2 \\
 \hline
 + \\
 \hline
 + \\
 \hline
 \hline
 \end{array}$$

۶- حاصل ضرب‌های زیر را به دست آورید.

×	ص	د	ی
	۱	۲	۷
			۴

×	ه	ص	د	ی
		۶	۵	۸
				۵

×	ه	ص	د	ی
		۷	۹	۶
				۸

ریاضی چهارم ابتدایی

کاربرگ ۹- ضرب دو عدد دو رقمی

۷- مانند نمونه حاصل ضرب‌های زیر را حساب کنید.

$$\begin{array}{r} 59 \\ \times 3 \\ \hline 177 \end{array}$$

$$\begin{array}{r} 78 \\ \times 9 \\ \hline \end{array}$$

$$\begin{array}{r} 254 \\ \times 9 \\ \hline \end{array}$$

$$\begin{array}{r} 954 \\ \times 6 \\ \hline \end{array}$$

۸- مانند نمونه، با توجه به شکل، ضرب مربوطه را نوشته و حاصل آن‌ها را از دو روش به دست آورید.

$\begin{array}{r} 20 \quad 7 \\ 10 \quad \times \quad 14 \\ \hline 4 \quad \times \quad 14 \\ \hline \end{array}$	$\begin{array}{r} 27 \\ \times 14 \\ \hline + 200 \\ + 70 \\ \hline 80 \\ + 28 \\ \hline 378 \end{array}$	<p>روش اول:</p> $\left. \begin{array}{l} 10 \times 20 \\ 10 \times 7 \end{array} \right\} 10 \times 27$ $\left. \begin{array}{l} 4 \times 20 \\ 4 \times 7 \end{array} \right\} 4 \times 27$	<p>روش دوم:</p> $\begin{array}{r} 27 \\ \times 14 \\ \hline 270 \\ + 108 \\ \hline 378 \end{array}$
---	---	--	---

$\begin{array}{r} 30 \quad 6 \\ 20 \quad \times \quad 25 \\ \hline 5 \quad \times \quad 25 \\ \hline \end{array}$	$\begin{array}{r} 36 \\ \times 25 \\ \hline \end{array}$	<p>روش اول:</p>	<p>روش دوم:</p>
---	--	-----------------	-----------------

۹- مانند نمونه حاصل ضرب‌های زیر را حساب کنید.

$$\begin{array}{r} 75 \\ \times 26 \\ \hline 450 \\ + 1500 \\ \hline 1950 \end{array}$$

$$\begin{array}{r} 39 \\ \times 54 \\ \hline \end{array}$$

$$\begin{array}{r} 56 \\ \times 48 \\ \hline \end{array}$$

$$\begin{array}{r} 35 \\ \times 28 \\ \hline \end{array}$$

۱۰- مسئله‌های زیر را حل کنید.

- یک کامیون ۸۵ کیسه برنج ۵۰ کیلویی را حمل می‌کند. وزن کل کیسه‌های برنج این کامیون چند کیلوگرم است؟



- در یک مدرسه ۳ کلاس چهارم ۳۲ نفره، ۲ کلاس پنجم ۳۴ نفره و ۴ کلاس ششم ۲۸ نفره هست. تعداد کل دانش‌آموزان این مدرسه چند نفر است؟

نام و نام خانوادگی: آموزگار:

کلاس: تاریخ:

کاربرگ ۱۰ - محاسبه ی حاصل ضرب

۱- حاصل ضربهای زیر را به دست آورید و راه حل خود را توضیح دهید.

$50 \times 30 = \text{-----}$

$20 \times 40 = \text{-----}$

$600 \times 800 = \text{-----}$

توضیح: -----

۲- توضیح دهید که حاصل ضربهای زیر را چگونه بدست می آورید.

$20 \times 30 \times 5 = \text{-----}$

$10 \times 40 \times 17 = \text{-----}$

توضیح: -----

۳- حاصل ضربهای زیر را به دست آورید.

$$\begin{array}{r} 250 \\ \times 160 \\ \hline \end{array}$$

$$\begin{array}{r} 3400 \\ \times 200 \\ \hline \end{array}$$

$$\begin{array}{r} 510 \\ \times 330 \\ \hline \end{array}$$

۴- با توجه به اینکه $352 = 300 + 50 + 2$ است. توضیح دهید حاصل ضربهای زیر را چگونه به دست می آورید، سپس

جاهای خالی را پر کنید.

			۶	۵	۹
		×	۳	۵	۲

← 2×659

← 50×659

← 300×659

			۸	۶	۵
		×	۳	۵	۲

۵- حاصل ضربهای زیر را بدست آورید.

$$\begin{array}{r} 308 \\ \times 59 \\ \hline \end{array}$$

$$\begin{array}{r} 485 \\ \times 302 \\ \hline \end{array}$$

$$\begin{array}{r} 502 \\ \times 308 \\ \hline \end{array}$$

$$\begin{array}{r} 927 \\ \times 340 \\ \hline \end{array}$$

ریاضی چهارم ابتدایی

کاربرگ ۱۰ - محاسبه ی حاصل ضرب

۶- مانند نمونه حاصل ضربها را به صورت تقریبی به دست آورید.

$$\begin{array}{r} 359 \longrightarrow 400 \\ \times 225 \longrightarrow 200 \\ \hline 80000 \end{array}$$

$$\begin{array}{r} 585 \longrightarrow \\ \times 296 \longrightarrow \end{array} \quad \begin{array}{r} 429 \longrightarrow \\ \times 380 \longrightarrow \end{array}$$

۷- قلب یک کودک در هر دقیقه ۱۱۵ بار میزند.

- قلب او در هر ساعت چندبار میزند؟

- در یک شبانهروز چندبار میزند؟

- در یک سال چندبار میزند؟

۸- حاصل ضربهای زیر را بنویسید.

$5 \times 10 = \text{[]}$

$25 \times 100 = \text{[]}$

$1000 \times 10 = \text{[]}$

$95 \times 10 = \text{[]}$

$956 \times 1000 = \text{[]}$

$1000 \times 100 = \text{[]}$

$7535 \times 100 = \text{[]}$

$6 \times 1000 = \text{[]}$

$1000 \times 1000 = \text{[]}$

۹- مانند نمونه ضربهای زیر را به صورت ذهنی حساب کنید.

$14 \times 8 = (10 + 4) \times 8 = 80 + 32 = 112$

$35 \times 6 = \text{-----}$

$19 \times 5 = \text{-----}$

$42 \times 3 = \text{-----}$

۱۰- مسئلههای زیر را حل کنید.

- علی در هر ساعت ۶۸ جین جوراب و محمد در هر ساعت ۵۹ جین جوراب را بستهبندی می کنند. اگر آنها روزی

۸ ساعت کار کنند، در یک روز چند جین جوراب را بستهبندی می کنند؟



- یک باغدار ۲۵۰ کیلوگرم از محصول پرتقال خود را کیلویی ۲۸۰۰ تومان و ۳۰۰ کیلوگرم از محصول سیب خود را کیلویی ۳۲۰۰ تومان فروخته است. این باغدار از فروش این محصولات در مجموع چقدر به دست آورده است؟



نام و نام خانوادگی: آموزگار:

کلاس: تاریخ:

کاربرگ ۱۱- محاسبه ی تقریبی

۱- عددهای زیر با تقریب رقم دهگان در نظر گرفته شده است. ابتدا در جاهای خالی عددهای مناسب بنویسید و با رنگ کردن مشخص کنید، هر عدد به کدام طرف نزدیک تر است؟

$30 \leftarrow 38 \rightarrow 40$	$\bigcirc \leftarrow 53 \rightarrow \bigcirc$	$330 \leftarrow 338 \rightarrow \bigcirc$
$\bigcirc \leftarrow 1596 \rightarrow 1600$	$\bigcirc \leftarrow 465 \rightarrow \bigcirc$	$\bigcirc \leftarrow 2129 \rightarrow \bigcirc$

۲- عددهای زیر با تقریب رقم صدگان در نظر گرفته شده است. ابتدا جاهای خالی را پر کنید و با رنگ کردن مشخص کنید، هر عدد به کدام طرف نزدیک است؟

$500 \leftarrow 534 \rightarrow 600$	$\bigcirc \leftarrow 893 \rightarrow \bigcirc$	$\bigcirc \leftarrow 435 \rightarrow \bigcirc$
$\bigcirc \leftarrow 1481 \rightarrow \bigcirc$	$\bigcirc \leftarrow 2345 \rightarrow \bigcirc$	$\bigcirc \leftarrow 8769 \rightarrow \bigcirc$

۳- عبارتهای زیر را با تقریب در رقم خواسته شده بنویسید.

<table border="1"><tr><td>۸۹</td></tr><tr><td>۱۵۶</td></tr><tr><td>۲۷۸</td></tr><tr><td>۱۳۵۲</td></tr></table> <p>تقریب در رقم دهگان</p> <table border="1"><tr><td></td></tr><tr><td></td></tr><tr><td></td></tr><tr><td></td></tr></table>	۸۹	۱۵۶	۲۷۸	۱۳۵۲					<table border="1"><tr><td>۶۵۳</td></tr><tr><td>۹۳۴</td></tr><tr><td>۱۴۹۵</td></tr><tr><td>۳۸۱۵</td></tr></table> <p>تقریب در رقم صدگان</p> <table border="1"><tr><td></td></tr><tr><td></td></tr><tr><td></td></tr><tr><td></td></tr></table>	۶۵۳	۹۳۴	۱۴۹۵	۳۸۱۵					<table border="1"><tr><td>۸۶۵۲</td></tr><tr><td>۹۷۸۵</td></tr><tr><td>۶۵۱۶</td></tr><tr><td>۲۱۴۵</td></tr></table> <p>تقریب در رقم هزارگان</p> <table border="1"><tr><td></td></tr><tr><td></td></tr><tr><td></td></tr><tr><td></td></tr></table>	۸۶۵۲	۹۷۸۵	۶۵۱۶	۲۱۴۵				
۸۹																										
۱۵۶																										
۲۷۸																										
۱۳۵۲																										
۶۵۳																										
۹۳۴																										
۱۴۹۵																										
۳۸۱۵																										
۸۶۵۲																										
۹۷۸۵																										
۶۵۱۶																										
۲۱۴۵																										

۴- عددهای زیر را به طور تقریبی روی محور نشان دهید.

۳۸۵۰، ۳۵۲، ۱۲۵۶، ۴۶۵۱



۵- مانند نمونه، مقدار تقریبی عبارتها را با تقریب در دهگان به دست آورید.

$$38 \times 23 \rightarrow 40 \times 20 = 800$$

$$93 - 16 \rightarrow \text{-----}$$

$$19 \times 84 \rightarrow \text{-----}$$

$$48 \times 74 \rightarrow \text{-----}$$

$$63 + 59 \rightarrow \text{-----}$$

$$85 \times 36 \rightarrow \text{-----}$$

$$35 + 28 \rightarrow \text{-----}$$

$$74 - 16 \rightarrow \text{-----}$$

ریاضی چهارم ابتدایی

کاربرگ ۱۱ - محاسبه ی تقریبی

۶- حاصل تقسیم‌های زیر را حساب کنید.

$8 \div 2 = \text{---}$

$6 \div 2 = \text{---}$

$9 \div 3 = \text{----}$

$800 \div 4 = \text{----}$

$80 \div 2 = \text{----}$

$60 \div 2 = \text{----}$

$90 \div 3 = \text{----}$

$600 \div 3 = \text{----}$

$800 \div 2 = \text{---}$

$600 \div 2 = \text{---}$

$900 \div 3 = \text{----}$

$400 \div 2 = \text{----}$

۷- مانند نمونه، حاصل تقریبی تقسیم‌ها را به دست آورید.

$615 \overline{) 2} \longrightarrow 600 \div 2 = 300$

$185 \overline{) 5} \longrightarrow$

$835 \overline{) 4} \longrightarrow$

$465 \overline{) 5} \longrightarrow$

$785 \overline{) 20} \longrightarrow$

$916 \overline{) 30} \longrightarrow$

الف) مانند نمونه، ابتدا حاصل هر عبارت را پیدا کنید و سپس جواب را به صورت تقریبی بنویسید.

$38 + 25 = 63 \xrightarrow{\text{تقریبی}} 60$

$49 + 52 = \text{---} \longrightarrow$

$79 - 36 = \text{---} \longrightarrow$

$56 - 32 = \text{---} \longrightarrow$

$65 \times 27 = \text{---} \longrightarrow$

$38 \times 27 = \text{---} \longrightarrow$

ب) مانند نمونه، ابتدا عددها را به صورت تقریبی بنویسید و سپس حاصل را به دست آورید.

$38 + 29 - 16 \xrightarrow{\text{تقریبی}} 40 + 30 - 20 = 50$

$24 \times 19 \longrightarrow$

$38 + 29 - 16 =$

$53 + 16 - 29 \longrightarrow$

$39 \times 28 \longrightarrow$

۹- با توجه به اینکه هر هزار کیلوگرم برابر با یک تن است. هر یک از جرم‌های زیر به‌طور تقریبی چند تن است؟
 $5840 \rightarrow$ کیلوگرم $8325 \rightarrow$ کیلوگرم $9413 \rightarrow$ کیلوگرم

۱۰- مسئله‌های زیر را حل کنید.

- در حیاط مدرسه‌ی صادقین دانش‌آموزان در ۱۸ صف ۳۴ نفری ایستاده‌اند. این مدرسه به‌طور تقریبی چند دانش‌آموز دارد؟



- یک کارفرما می‌خواهد ۸۹۵۰۰۰ تومان پول را به‌عنوان پاداش بین ۳ نفر از کارگزارانش به‌طور مساوی تقسیم کند. به هر کدام از کارگران به‌طور تقریبی چند تومان می‌رسد؟

نام و نام خانوادگی: آموزگار:

کلاس: تاریخ:

کاربرگ ۱۲- تقسیم و بخش پذیری

۱- حاصل تقسیم‌های زیر را حساب کرده و رابطه‌ی درستی آن‌ها را بنویسید.

$$\begin{array}{r} 37 \overline{) 6} \\ - \end{array}$$

$$\begin{array}{r} 78 \overline{) 9} \\ - \end{array}$$

$$\begin{array}{r} 63 \overline{) 8} \\ - \end{array}$$

---- > ----

---- > ----

---- > ----

(---- × ----) + ---- = ----

(---- × ----) + ---- = ----

(---- × ----) + ---- = ----

۲- تقسیم‌های زیر را انجام دهید و با توجه به باقی‌مانده، جمله‌ی زیر هر کدام را کامل کنید.

$$\begin{array}{r} 36 \overline{) 6} \\ - \end{array}$$

$$\begin{array}{r} 49 \overline{) 8} \\ - \end{array}$$

$$\begin{array}{r} 65 \overline{) 9} \\ - \end{array}$$

----- ۳۶ بر ۶ بخش پذیر

----- ۴۹ بر ۸ بخش پذیر

----- ۶۵ بر ۹ بخش پذیر

۳- به کمک شکل‌های داده شده، پاسخ تقسیم‌های زیر را بنویسید.



۶۰۰ ÷ ۳ = ----



۹۰۰ ÷ ۳ = ----



۴۰ ÷ ۲ = ----



۱۰ ÷ ۵ = ----

۴- برای هر یک از تقسیم‌های زیر یک شکل ساده بکشید و حاصل تقسیم را پیدا کنید.

۸۰۰ ÷ ۴ =

۶۰ ÷ ۲ =

۳۰۰۰ ÷ ۳ =

۵- تقسیم‌های زیر را مانند نمونه انجام دهید.

$$\begin{array}{r} 800 \overline{) 3} \\ - 600 \quad 200 \\ \hline 200 \end{array}$$

$$\begin{array}{r} 900 \overline{) 7} \\ - \end{array}$$

$$\begin{array}{r} 180 \overline{) 2} \\ - \end{array}$$

$$\begin{array}{r} 60 \overline{) 4} \\ - \end{array}$$

ریاضی چهارم ابتدایی

کاربرگ ۱۲- تقسیم و بخش پذیری

۶- تقسیم‌های زیر را انجام دهید و جاهای خالی را کامل کنید.

$$\begin{array}{r} 150 \overline{) 5} \\ \underline{\quad} \\ \end{array}$$

$$\begin{array}{r} 700 \overline{) 7} \\ \underline{\quad} \\ \end{array}$$

$$\begin{array}{r} 800 \overline{) 4} \\ \underline{\quad} \\ \end{array}$$

$$\begin{array}{r} 120 \overline{) 7} \\ \underline{\quad} \\ \end{array}$$

۱۲۰ بر ۷ بخش پذیر ----- | ۸۰۰ بر ۴ بخش پذیر ----- | ۷۰۰ بر ۷ بخش پذیر ----- | ۱۵۰ بر ۵ بخش پذیر -----

۷- دور عددهایی که بر ۳ بخش پذیرند خط بکشید.

۲۷ ۳۰ ۲۵ ۱۴ ۱۸

۸- دور عددهایی که بر ۴ بخش پذیرند خط بکشید.

۱۰ ۲۰ ۲۳ ۳۶ ۴۰ ۱۹

۹- دور عددهایی که بر ۵ بخش پذیرند خط بکشید.

۱۵ ۲۷ ۳۵ ۵۰ ۴۰

۱۰- فروشنده‌ای یک بسته‌ی ۶ تایی سوزن چرخ‌خیاطی را ۳۰۰ تومان می‌فروشد. برای خرید ۳۶ عدد سوزن چند

تومان باید بپردازد؟



نام و نام خانوادگی: آموزگار:

کلاس: تاریخ:

کاربرگ ۱۳- تقسیم بر عددهای یک رقمی

۱- مانند نمونه تقسیم‌های زیر را انجام دهید و رابطه‌های هر تقسیم را بنویسید.

$$\begin{array}{r} 65 \overline{) 4} \\ - 40 \quad 10 \\ \hline 25 \quad + 6 \\ - 24 \quad 16 \\ \hline 1 \end{array}$$

$$75 \overline{) 6}$$

$$58 \overline{) 3}$$

$$1 < 4$$

$$\text{---} < \text{---}$$

$$\text{---} < \text{---}$$

$$(16 \times 4) + 1 = 65$$

$$(\text{---} \times \text{---}) + \text{---} = \text{---}$$

$$(\text{---} \times \text{---}) + \text{---} = \text{---}$$

$$98 \overline{) 2}$$

$$83 \overline{) 5}$$

$$39 \overline{) 4}$$

$$\text{---} < \text{---}$$

$$\text{---} < \text{---}$$

$$\text{---} < \text{---}$$

$$(\text{---} \times \text{---}) + \text{---} = \text{---}$$

$$(\text{---} \times \text{---}) + \text{---} = \text{---}$$

$$(\text{---} \times \text{---}) + \text{---} = \text{---}$$

۲- مانند نمونه تقسیم‌های زیر را انجام دهید و رابطه‌های هر تقسیم را بنویسید.

$$\begin{array}{r} 965 \overline{) 3} \\ - 900 \quad 300 \\ \hline 65 \quad + 20 \\ - 60 \quad 1 \\ \hline 5 \quad 321 \\ - 3 \quad 2 \\ \hline 2 \end{array}$$

$$786 \overline{) 4}$$

$$652 \overline{) 7}$$

$$2 < 3$$

$$\text{---} < \text{---}$$

$$\text{---} < \text{---}$$

$$(321 \times 3) + 2 = 965$$

$$(\text{---} \times \text{---}) + \text{---} = \text{---}$$

$$(\text{---} \times \text{---}) + \text{---} = \text{---}$$

$$437 \overline{) 8}$$

$$3208 \overline{) 2}$$

$$8156 \overline{) 6}$$

$$\text{---} < \text{---}$$

$$\text{---} < \text{---}$$

$$\text{---} < \text{---}$$

$$(\text{---} \times \text{---}) + \text{---} = \text{---}$$

$$(\text{---} \times \text{---}) + \text{---} = \text{---}$$

$$(\text{---} \times \text{---}) + \text{---} = \text{---}$$

ریاضی چهارم ابتدایی

کاربرگ ۱۳- تقسیم بر عددهای یک رقمی

۳- سپیده ۳ عدد شکلات خرید و ۹۳۰ تومان پرداخت کرد. قیمت هر شکلات چند تومان است؟



۴- یک نانویی در هر ساعت ۱۵۰ قرص نان می‌پزد. این نانویی در ۸ ساعت چند قرص نان می‌پزد؟ اگر در هر




بسته ۹ قرص نان قرار دهد، کل این نان‌ها چند بسته می‌شوند؟

۵- می‌خواهیم ۸ بسته شکلات ۲۸ تایی را بین ۴ نفر تقسیم کنیم. به هر نفر چند شکلات می‌رسد؟



۶- اتومبیلی با سرعت ثابت، ۴۸۰ کیلومتر را در ۵ ساعت طی کرده است. این اتومبیل در هر ساعت چند کیلومتر

راه پیموده است؟



۷- یک مسئله بنویسید که پاسخ آن حاصل ضرب ۵۳۱×۲۵ باشد و آن را حل کنید.

۸- یک مسئله بنویسید که پاسخ آن حاصل تقسیم $۳۷۵ \div ۶$ باشد و آن را حل کنید.


نام و نام خانوادگی: آموزگار:

کلاس: تاریخ:

کاربرگ ۱۴- تقسیم بر عدد دو رقمی

۱- در هر قسمت با توجه به تقسیم داده شده، شکل را دسته‌بندی کنید سپس تقسیم را کامل کنید. (به نمونه


توجه کنید)



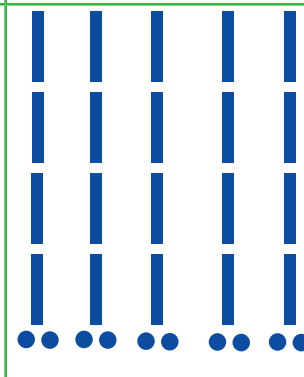
$$\begin{array}{r} 88 \quad | \quad 22 \\ - 88 \\ \hline 00 \end{array}$$



$$\begin{array}{r} 44 \quad | \quad 11 \\ \hline \end{array}$$



$$\begin{array}{r} 156 \quad | \quad 31 \\ \hline \end{array}$$



$$\begin{array}{r} 210 \quad | \quad 42 \\ \hline \end{array}$$

۲- مانند نمونه، در هر تقسیم، ابتدا عددها را به صورت تقریبی بنویسید سپس خارج قسمت تقریبی را بدست آورید.

$$\begin{array}{r} 67 \quad | \quad 31 \\ \hline \end{array} \rightarrow \begin{array}{r} 70 \quad | \quad 30 \\ - 60 \\ \hline 10 \end{array}$$

$$\begin{array}{r} 79 \quad | \quad 24 \\ \hline \end{array} \rightarrow$$

$$\begin{array}{r} 38 \quad | \quad 12 \\ \hline \end{array} \rightarrow$$

$$\begin{array}{r} 94 \quad | \quad 22 \\ \hline \end{array} \rightarrow$$

$$\begin{array}{r} 85 \quad | \quad 34 \\ \hline \end{array} \rightarrow$$

$$\begin{array}{r} 53 \quad | \quad 19 \\ \hline \end{array} \rightarrow$$

۳- مانند نمونه تقسیم‌های زیر را انجام دهید و دور تقسیم‌هایی که مقسوم بر مقسوم‌علیه بخش پذیر است، خط

بکشید.

$$\begin{array}{r} 86 \quad | \quad 23 \\ - 69 \\ \hline 17 \end{array}$$

$$\begin{array}{r} 76 \quad | \quad 14 \\ \hline \end{array}$$

$$\begin{array}{r} 96 \quad | \quad 21 \\ \hline \end{array}$$

$$\begin{array}{r} 48 \quad | \quad 22 \\ \hline \end{array}$$

ریاضی چهارم ابتدایی

کاربرگ ۱۴ - تقسیم بر عدد دو رقمی

۴- مانند نمونه، حاصل تقسیم‌های زیر را انجام دهید.

$$\begin{array}{r} 586 \overline{) 24} \\ - 480 \\ \hline 106 \\ - 96 \\ \hline 10 \end{array}$$

$$695 \overline{) 43}$$

$$754 \overline{) 31}$$

$$965 \overline{) 14}$$

۵- مانند نمونه حاصل تقسیم‌های زیر را انجام دهید.

$$\begin{array}{r} 385 \overline{) 31} \\ - 310 \\ \hline 75 \\ - 62 \\ \hline 13 \end{array}$$

$$785 \overline{) 45}$$

$$4735 \overline{) 39}$$

۶- ۴۸۵۳ کیلوگرم برنج را در کیسه‌های ۱۵ کیلوگرمی بسته‌بندی کردیم. چند کیسه‌ی کامل درست شده است؟



۷- دبستان حکمت ۶۸۵ دانش‌آموز دارد. در این مدرسه ۱۸ کلاس وجود دارد. به‌طور متوسط در هر کلاس چند دانش‌آموز قرار دارند؟

۸- در ماه مبارک رمضان مسجد قمر بنی‌هاشم (ع) ۱۲۵۹ کیلوگرم گوشت را بین ۹۰ خانواده نیازمند تقسیم می‌کند. به هر خانواده چند کیلوگرم گوشت می‌رسد؟