

۱- حاصل جمع و تفریق های زیر را بنویسید و برای آن شکل و محور رسم کنید.

$$1/4 + 2/6 =$$



$$1/3 - 0/8 =$$

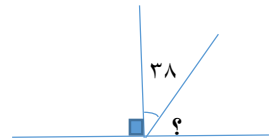
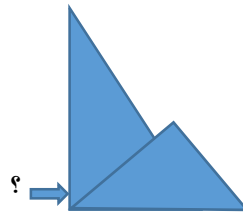


۲- حاصل جمع زیر را به صورت اعشاری به دست آورید.

$$2 + 0/6 =$$

۵

۳- اندازه ی زاویه های خواسته شده را بنویسید.



۴- در یک کیسه ۲۵ مهره وجود دارد


(الف) خمس این مهره ها زرد هستند یعنی چند تا ؟

(ب) از باقی مانده ی مهره ها ربع آن ها سبز هستند و مهره های باقی مانده سفید هستند . تعداد مهره های سفید چند تا است ؟

۵- دانش آموزان یک مدرسه برای گردش علمی ، ساعت ۱۰:۱۰ از مدرسه خارج شدند و گردش آن ها ۱ ساعت و ۲۰ دقیقه طول کشید. آن ها چه زمانی به مدرسه رسیدند؟

۶- ارتفاع یک استخر ۴ متر است . قد علی $\frac{1}{5}$ و قد محمد $\frac{2}{2}$ است. اگر قد علی و محمد را روی هم بگذاریم ،ارتفاع استخر از مجموع قد آن ها بیشتر می شود یا کمتر؟ با راه حل توضیح دهید.

۷- کشاورزی می خواهد دور تا دور باغ خود را نرده بزند. باغ او به شکل مستطیل است ، اگر طول یک ضلع $\frac{49}{5}$ و طول ضلع دیگر $\frac{23}{2}$ باشد ، این کشاورز به طور تقریبی به چه میزان نرده نیاز دارد؟(محیط)



ملاک و شواهد	تسلط کامل	تسلط خوب	تسلط متوسط	تسلط کم	تسلط خیلی کم
۱- با اعداد اعشاری و مخلوط آشنایی دارد .					
۲- انواع گونا و زاویه های آن را می شناسد.					
۳- اندازه گیری زاویه و محاسبات آن را یاد گرفته است.					
۴- توانایی حل مسائل را دارد.					
۵- مفهوم زمان را به خوبی آموخته است.					
۶- با اندازه گیری طول آشنا است.					
۷- توانایی رسم محور و شکل را دارد.					

