


۱- با استفاده از حدس و آزمایش، به جای عدد مناسبی قرار دهید.


$20 + \square = 57$ $20 + \square = \dots$ ← حدس اول $20 + \square = \dots$ ← حدس دوم	$\square + 35 = 62$ $\square + 35 = \dots$ ← حدس اول $\square + 35 = \dots$ ← حدس دوم	$16 + \square = 64$ $16 + \square = \dots$ ← حدس اول $16 + \square = \dots$ ← حدس دوم
---	---	---

۲- طول مداد بین گیره و گیره است.
 یعنی از گیره بیشتر است ولی به گیره نمی رسد.



۳- با سه کارت که روی آن ها رقم های ۳ و ۴ و ۷ نوشته شده، تمام عدد های سه رقمی را که می توان ساخت، بنویسید.

 از بین اعدادی که نوشته اید، عددی بنویسید که: الف) بزرگترین عدد باشد.
 ب) جمع رقم های دهگان و صدگان آن برابر یکان باشد.
 ج) رقم صدگان کمتر از رقم یکان باشد.



۴- اندازه ی طول نی و است.

۵- الگوهای عددی زیر را ادامه دهید.

۶۹۶ - ۶۹۷ - - - - - - - - -
 ۷۵۱ - ۷۶۱ - - - - - - - - -
 ۱۷ - ۱۱۷ - - - - - - - - -
 ۸۰۷ - ۸۰۶ - - - - - - - - -
 ۳۵۸ - ۳۴۸ - - - - - - - - -
 ۹۲۵ - ۸۲۵ - - - - - - - - -

۶- حاصل جمع و تفریق های زیر را به دست آورید.

$20 + 80 = \dots$	$100 - 60 = \dots$	$\begin{array}{r} 99 \\ + 9 \\ \hline \end{array}$
$300 + 500 = \dots$	$600 - 300 = \dots$	$\begin{array}{r} 103 \\ - 8 \\ \hline \end{array}$
$400 + 200 = \dots$	$900 - 700 = \dots$	$\begin{array}{r} \dots \\ \hline \end{array}$

۷- احمد در یک مسابقه علمی ۱۰۵ امتیاز کسب کرده بود.
او با پاسخ اشتباه به یک سوال ۸ امتیاز از دست داد. سپس
با یک جواب درست ۹ امتیاز به دست آورد. او حالا چند امتیاز دارد؟

۸- عددهای زیر را به صورت باز شده (گسترده) بنویسید.

۴۸۷ = ۹۰۲ = ۵۴۰ =

۹- جاهای خالی را با عدد مناسب پر کنید.

عدد ۲۶۴ به ۲۶۰ نزدیکتر است یا به ۲۷۰؟

عدد ۶۸۷ به ۶۸۰ نزدیکتر است یا به؟

عدد ۵۳۵ به نزدیکتر است یا به؟


عدد ۲۰۳ به نزدیکتر است یا به؟

۱۰- اندازه ی طول کتاب قسمت

کوچک است.

- اندازه ی طول کتاب قسمت

بزرگ و قسمت کوچک است.



- ۱۱



اندازه ی خط قسمت بزرگ و قسمت کوچک است.

۱۲- زمان ساعت را مشخص کنید و به سوال های زیر پاسخ دهید.

به دو روش بنویسید که ۱۰ دقیقه بعد چه ساعتی است. : -

نیم ساعت بعد، چه ساعتی است؟

ربع ساعت بعد، چه ساعتی است؟

نیم ساعت بعد از ساعت ۶:۳۰ چه ساعتی است؟

یک ربع بعد از ساعت ۷:۴۵ چه ساعتی است؟



..... :

۱۳- در یک کارگاه خیاطی ۴۶ لباس پسرانه و ۳۷ لباس دخترانه

دوخته شده است. چند لباس در این کارگاه دوخته شده است؟

یک خریدار ۶۵ لباس را برای فروشگاه خود خریده است.

چند لباس به فروش نرفته است؟

۱۴- مجید، رضا و علی در یک مسابقه ی گروهی شرکت کرده اند.

مجید ۲۴ امتیاز و رضا ۲۸ امتیاز گرفته اند. امتیاز این دو نفر را با هم

حساب کنید.

علی توانست ۳۲ امتیاز بگیرد. حالا امتیاز این گروه چند شده است؟