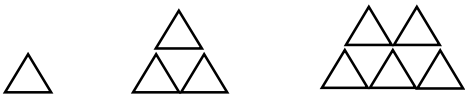


(۱) جاهای خالی را کامل کنید .

- $۶۰۳۲$  به حروف می شود .....
- بهترین وسیله برای کشیدن دایره ..... است .
- $۲۸۰۰$  ریال همان ..... تومان است .
- مکعب از ..... مربع درست شده است .
- $۴۵۰۰$  گرم یعنی ..... کیلوگرم و ..... گرم

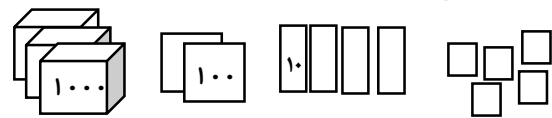
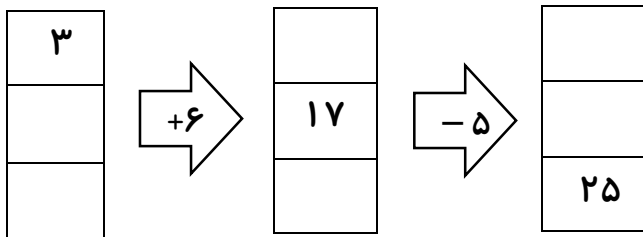
(۲) الگوهای زیر را ادامه دهید .



۸ - ۱۲ - ۱۶ - ۲۰ - ..... - ..... - ..... - .....

۲۰۰۰ - ۲۲۰۰ - ۲۴۰۰ - ..... - ..... - ..... - .....

(۳) در جاهای خالی عدد مناسب بنویس .



یکان	دهگان	صدگان	هزارگان

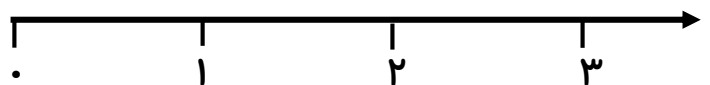
(۴) جدول زیر را کامل کنید .

زمان	۱۶:۰۰		بیست و ربع	
بعد از ظهر		۲:۱۰		۱۰:۵۵

کسر زیر را با شکل نشان بده.

$\frac{۱}{۴}$

(۵) کسر زیر را روی محور نشان بدهید .



$\frac{۲}{۳}$  واحد بعد از ۲

۶) کسرهای زیر را مقایسه کنید. ( $< = >$ )

ربع  نیم 

$\frac{1}{6}$    $\frac{1}{4}$

$\frac{2}{2}$   ۱



$\frac{5}{8}$    $\frac{7}{8}$

۷) عدد داخل دایره به کدام عدد در مربعها نزدیکتر است؟ آن مربع را رنگ کنید.



۸) جدول زیر را کامل کنید.

روش شکل	روش جمع	الگو عددی	ضرب	توضیح عبارت ضرب
				۴ دسته ۳ تایی می شود ....

۹) مریم ۶ بسته شکلات ۳ تایی دارد. او چند شکلات دارد؟

۱۰) در جاهای خالی عدد مناسب بنویسید.

$(4 \times 5) + (5 \times 3) = \dots + \dots = \dots$



$2 \times 6 = \dots$

$15 \div \dots = 5$




$8 \times 4 = (\dots \times 4) + (\dots \times 4) = \dots + \dots = \dots$

$7 \times 2 = \dots$



$24 \div 4 = \dots$

احساست را از حل سوالات با کامل کردن صورتک نشان بده.

خداقوت دانش آموز کوشا و پرتلاشم 



بازخورد آموزگار: