

دبستان: .....	به نام خدا	آموزگار: .....	تاریخ: .....
نام و نام خانوادگی: .....	ارزشیابی ریاضی فصل (۱ - ۲ - ۳)	طراح: حسین تیموری	۱۴..... /..... /.....

۱- الف) با دو کارت  $\boxed{۳}$  و  $\boxed{۶}$  ، هر چقدر می توانید عدد دو رقمی بسازید. ....  
 ب) با رقم های ۱ و ۵ و ۹ ، عددهای دو رقمی بسازید. ....  
 پ) همه ی عدد های دو رقمی را بنویسید که رقم های یکان آن ها ۳ و ۱ و رقم دهگان آن ها ۷ و ۵ باشد.

۲- الف) کوچکترین عدد یک رقمی ..... است و کوچکترین عدد دو رقمی ..... می باشد.  
 ب) رقم یکان عددی ۳ و رقم دهگان ۵ می باشد. آن عدد چیست؟ .....  
 پ) رقم یکان عددی ۸ و رقم دهگان ۴ تا کمتر از رقم یکان می باشد. آن عدد چیست؟ .....  
 ت) ۹ دسته ی ده تایی منهای ..... دسته ی ده تایی می شود، ۲ دسته ی ده تایی.  
 ث) ۵ دسته ی ده تایی به اضافه ی ..... دسته ی ده تایی می شود، ۸ دسته ی ده تایی.  
 ..... - ..... = .....  
 ..... + ..... = .....



۳- حاصل جمع و تفریق های زیر را به دست آورید.  
 $۱۰ + ۵ + ۲۰ + ۱۰ + ۶ + ۵ + ۳۰ = \dots\dots\dots$        $۷۰ - ۶۰ = \dots\dots\dots$        $۲۰ + ۴۰ = \dots\dots\dots$   
 $۵ + ۲۰ + ۲۰ + ۲ + ۱۰ + ۵ + ۱۰ = \dots\dots\dots$        $۵۰ - ۲۰ = \dots\dots\dots$        $۶۰ + ۳۰ = \dots\dots\dots$

۴- حاصل عبارت مقابل را با استفاده از محور به دست آورید.  
 $۱۶ - ۹ + ۴ = \dots\dots\dots$

۵- الگوهای عددی را ادامه دهید.  
 $۱ - ۵ - ۹ - ۱۳ - \dots\dots\dots - \dots\dots\dots - \dots\dots\dots$        $۴ - ۹ - ۱۴ - ۱۹ - \dots\dots\dots - \dots\dots\dots - \dots\dots\dots$   
 $۱ - ۲ - ۴ - ۷ - \dots\dots\dots - \dots\dots\dots - \dots\dots\dots$        $۷ - ۱۴ - ۲۱ - ۲۸ - \dots\dots\dots - \dots\dots\dots - \dots\dots\dots$

۶- جدول های جمع و تفریق را کامل کنید.

	۷	۸	۹		۷	۸	۹
۱۹				۵			
۱۳				۸			

۰	۱	+	+	+	+	+	= ۴
+	+	۲					

۷- شباهت دو شکل: .....  
 تفاوت دو شکل: .....

۸- جواب جمع و تفریق را به صورت تقریبی به دست آورید.

$۲۰ \rightarrow \dots\dots\dots$	$۶۹ \rightarrow \dots\dots\dots$
$+ ۴۲ \rightarrow + \dots\dots\dots$	$- ۲۵ \rightarrow - \dots\dots\dots$
.....	.....

۹- حاصل جمع و تفریق های زیر را به

صورت فرآیندی به دست آورید.

$$\begin{array}{r} 43 \\ + 25 \\ \hline \end{array}$$

$$\begin{array}{r} 26 \\ + 57 \\ \hline \end{array}$$

$$\begin{array}{r} 58 \\ - 37 \\ \hline \end{array}$$

$$\begin{array}{r} 82 \\ - 45 \\ \hline \end{array}$$



۱۰- الف) آزاده ۴۵ صدف از ساحل دریا جمع کرد و به برادرش امین


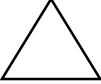



که ۲۷ صدف جمع کرده بود، داد. حالا امین چند صدف دارد؟ .....

ب) امین با ۳۶ تا از صدف ها یک کاردستی درست کرد. حالا برای

امین چند صدف باقی مانده است؟ .....



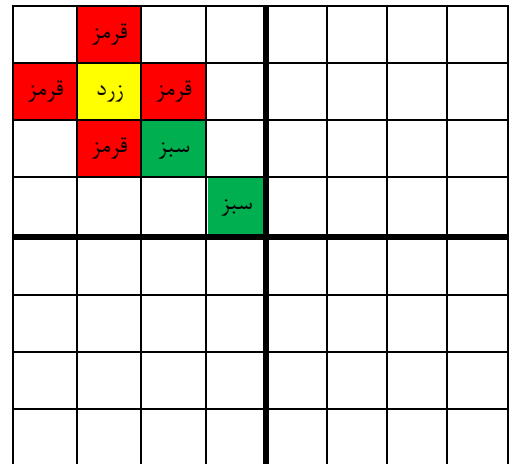
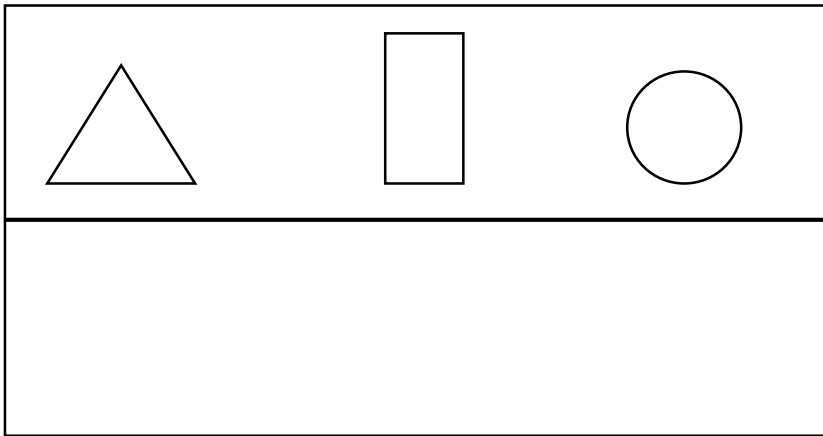
۱۱- کامل کن.

				
.....	.....	.....	.....	.....
.....	.....	.....	.....	.....
.....	.....	.....	.....	.....

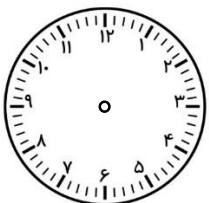
نام:  
گوشه:  
ضلع:



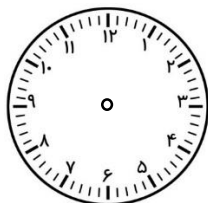
۱۲- با توجه به خط تقارن، قسمت های دیگر تقارن را کامل کنید.



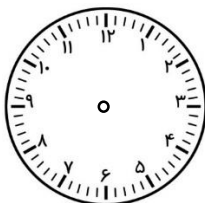
۱۳- با توجه به زمان های خواسته شده، عقربه های ساعت ها را رسم کنید.



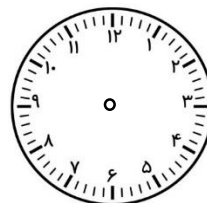
۹ : ۳۵



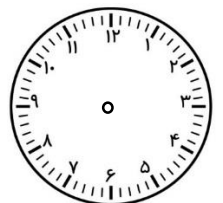
نیم ساعت بعد از ۲



یک ربع مانده به ۷



چهار و نیم



یازده و ربع

۱۴- الف) ساعت ۸ است. دو ساعت و ربع بعد ساعت چند است؟ .....

ب) ساعت یک و نیم است. سه ساعت بعد ساعت چند است؟ .....

