

نام و نام خانوادگی:

نام آموزگار:


تاریخ:

۱ عددها را ادامه بده.



۱۰	۱۱	۱۲							
۵۰	۵۵	۶۰							
۱۰	۲۰	۳۰							
۹۱	۹۲	۹۳							

۲ شکل را با استفاده از خط کش کامل کن.



تعداد مربع ها ..... تا یکی است.

تعداد مربع ها ..... تا دسته ده تایی است.

تعداد مربع ها ..... دسته ی صدتایی است.

۳ با رقم های ۴ و ۳ و ۰ عدد سه رقمی بساز و آن ها را به حروف بنویس.

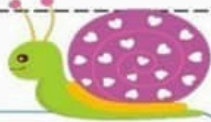


کار برگ فصل چهارم ریاضی

نام و نام خانوادگی:

نام آموزگار:

تاریخ:



۱ ارزش سکه های هر قسمت را بنویس.

۱



ریال .....



ریال .....



ریال .....



ریال .....

2



ریال .....



ریال .....



ریال .....



کاربرک فصل چهارم ریاضی

تاریخ:

نام آموزگار:

نام و نام خانوادگی:

1 جاهای خالی را پر کن.

اگر ۱۰ سکه ۱ ریالی به بانک بدهید بانک به شما یک سکه ۱۰۰ ریالی می دهد.  
اگر ۱۰ سکه ۱۰ ریالی به بانک بدهید بانک به شما یک سکه ۱۰۰ ریالی می دهد.  
حسین ۱۰۰ سکه ۱ ریالی به بانک داد و ۱ سکه ۱۰۰ ریالی گرفت.

2




2 الگوهای عددی را ادامه بده

۱ - ۳ - ۶ - ..... - ..... - ..... - ..... - .....

۴ - ۸ - ..... - ..... - ..... - ..... - ..... - .....

3 در مستطیل زیر یکی از پول های کاغذی کشورمان را خیلی ساده نقاشی کن.



کار برگ فصل چهارم ریاضی

تاریخ:

نام آموزگار:

نام و نام خانوادگی:

۱ برای پول های بچه ها سکه بکش.



پارسا ۶۰ ریال

محمد ۱۲۰ ریال

سینا ۸۰ ریال

۲ الگوهای عددی را ادامه بده.



۳ به حروف و عدد بنویس.

۶۵۰		۸۷۵		۳۲۸		۷۰۰
	ششصد و سی		پانصد و نه		سیصد و هفتاد	

۳ اعداد روی ساعت را به صورت دیجیتال بنویس.



۳۰ دقیقه بعد از ساعت ۲:۰۰ چه ساعتی است؟

۱۵ دقیقه بعد از ساعت ۳:۰۰ چه ساعتی است؟



کار برگ فصل چهارم ریاضی

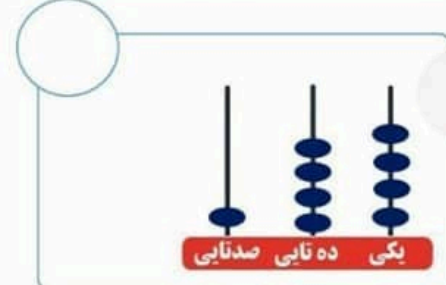
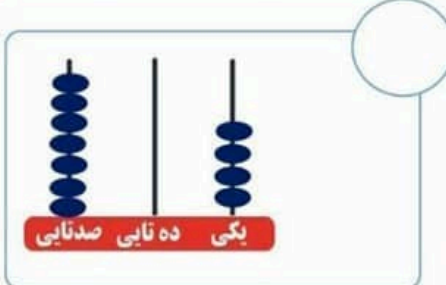
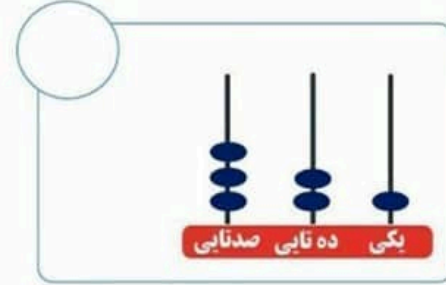
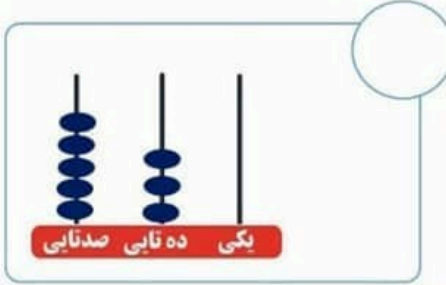
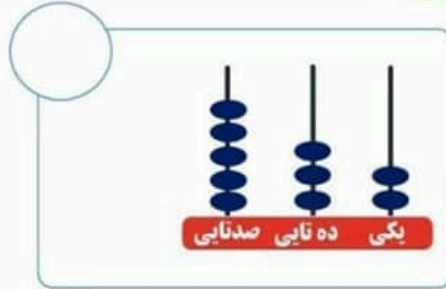
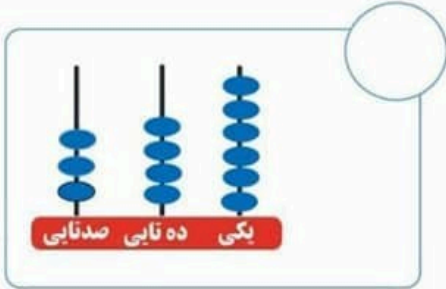
تاریخ:

نام آموزگار:

نام و نام خانوادگی:

هر چرتکه چه عددی را نشان می دهد؟

۱



3





کاربرگ فصل چهارم ریاضی

تاریخ:

نام آموزگار:

نام و نام خانوادگی:



۱ جدول زیر را کامل کن.

۹۱	۹۲	۹۳					۱۰۰
				۱۰۵			
		۱۱۴					
							۱۲۹

۲

با توجه به جدول بالا، جمع و تفریق‌ها را پاسخ بده

$$\begin{array}{r} ۹۳ \\ + ۷ \\ \hline \end{array}$$

$$\begin{array}{r} ۱۰۵ \\ - ۸ \\ \hline \end{array}$$

$$\begin{array}{r} ۱۱۴ \\ + ۹ \\ \hline \end{array}$$

$$\begin{array}{r} ۱۲۹ \\ - ۵ \\ \hline \end{array}$$

$$\begin{array}{r} ۹۲ \\ + ۶ \\ \hline \end{array}$$


۳

محمد ۱۱۵ صفحه از یک کتاب داستان را خوانده است. ۵ صفحه دیگر باقی مانده تا کتاب تمام شود. کتاب چند صفحه دارد؟



۴ برای تفریق زیر یک مسئله بنویس.

$$\begin{array}{r} ۴۵۲ \\ - ۸ \\ \hline \end{array}$$



کاربرک فصل چهارم ریاضی

تاریخ:

نام آموزگار:

نام و نام خانوادگی:

۱ محور را کامل کن.



۲ یکان عدد ها را حذف کن و به جای آن صفر بگذار. (تقریب زدن)

۷۸۲ →

۵۳۹ →

۴۴۵ →

۳ برای مقدار پول ها سکه بکش.



۳ از ۲۳۰ تا ۳۳۰ را ده تا ده تا بنویس.

۲۳۰-۲۴۰-۲۵۰

۳ از عدد ۴۳۰ تا ۵۳۰ را ده تا ده تا بنویس.

۴۳۰-۴۴۰-۴۵۰-

