

به نام خدا

نام و نام خانوادگی:

تاریخ:

تم ۲۲

جواب جمع و تفریق ها را به صورت ذهنی پیدا کن و بنویس.

$$\boxed{50} + \boxed{30} = \boxed{\quad}$$

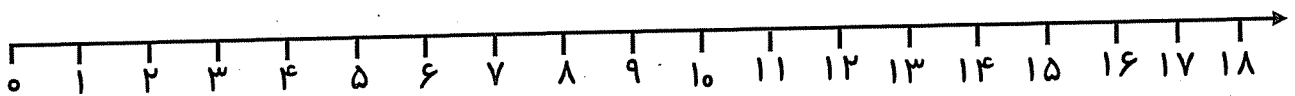
$$\boxed{60} - \boxed{40} = \boxed{\quad}$$

$$\boxed{45} - \boxed{5} = \boxed{\quad}$$

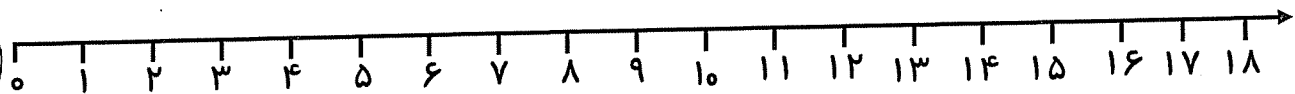
$$\boxed{70} + \boxed{20} = \boxed{\quad}$$

مسئله ها را با استفاده از محور حل کن.

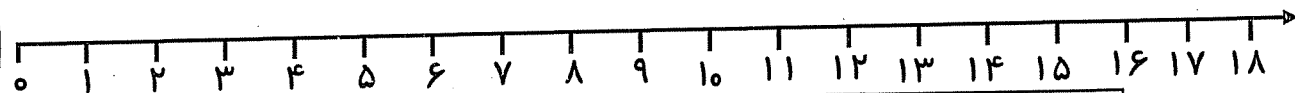
سامان ۸ تیله داشت. مادرش ۶ تیله ی دیگر برایش خرید. دوستش هم ۳ تیله به او داد.
حالا سامان چند تیله دارد؟ سامان تیله دارد.



در یک سبد ۱۲ سیب بود. مادر ۶ سیب دیگر در سبد گذاشت. علی ۳ تا از سیب ها را خورد.
چند سیب در سبد مانده است؟ سیب در سبد مانده است.




۱۱ پرنده روی درختی نشسته بودند. ۵ پرنده ی دیگر هم آمدند. بعد از چند دقیقه ۷ تا از پرنده ها پرواز کردند و رفتند. حالا چند پرنده مانده است؟ پرنده مانده است.



نظر آموزگار:






به نام خدا

تاریخ:


تم ۲۲

نام و نام خانوادگی:


عددها را بخوان و با حروف بنویس.




Blank writing box for the number 10.




Blank writing box for the number 20.




Blank writing box for the number 30.




Blank writing box for the number 40.




Blank writing box for the number 50.




Blank writing box for the number 60.



Blank writing box for the number 70.



Blank writing box for the number 80.




Blank writing box for the number 90.


۷ تا ۷ تا بشمار و خانه ها را رنگ بزن.

۱	۲	۳	۴	۵	۶	۷	۸	۹	۱۰
۱۱	۱۲	۱۳	۱۴	۱۵	۱۶	۱۷	۱۸	۱۹	۲۰
۲۱	۲۲	۲۳	۲۴	۲۵	۲۶	۲۷	۲۸	۲۹	۳۰
۳۱	۳۲	۳۳	۳۴	۳۵	۳۶	۳۷	۳۸	۳۹	۴۰
۴۱	۴۲	۴۳	۴۴	۴۵	۴۶	۴۷	۴۸	۴۹	۵۰

عددهایی که رنگ شده را با رقم و با حروف بنویس.



Blank writing box for the number 10.




Blank writing box for the number 20.




Blank writing box for the number 30.




Blank writing box for the number 40.



Blank writing box for the number 50.




Blank writing box for the number 60.



Blank writing box for the number 70.





به نام خدا

نام و نام خانوادگی:

تاریخ:

تم ۲۲

با توجه به الگو، نوشتن عددها را ادامه بده.

۰ - ۲ - ۴

۴۵ - ۵۰ - ۵۵ - ۶۰

۱۰ - ۲۰ - ۳۰

۱۷ - ۲۷ - ۳۷

مسئله ها را با رسم شکل حل کن.

در یک فروشگاه، ۵ بسته ی ده تایی دفتر نقاشی بود.
آقای فروشنده ۳ بسته ی ده تایی از دفترها را در جشن نیکوکاری هدیه داد.
چند دفتر باقی مانده است؟

مدرسه ای ۳۰ دانش آموز کلاس اولی دارد.
۵ نفر از آن ها عینک می زنند.
چند نفر بدون عینک هستند؟

فاطمه ۱۷ گردو داشت. ۷ تا از آن ها را شکست و خورد.
چند گردو برایش مانده است؟

نظر آموزگار:

