

پایه اول

دبستان.....

به نام خدای رنگین کمان

تکلیف ریاضی تم 13




تاریخ.....

نام قسنگم.....






از ۰ تا ۱۰ را به ترتیب بنویس

فرزندم عدد مربوط به هر شکل را زیر آن بنویس. سپس هر دو شکل روی هم چند تایی شود. حاصل را بنویس و با چوب خط نشان بده

				
<input type="text"/>	+	<input type="text"/>	=	<input type="text"/>




				
<input type="text"/>	+	<input type="text"/>	=	<input type="text"/>



در هر ردیف، جمع هایی را بنویس که جوابشان مانند خانه ی اول شود

۷	۰+۷					
۸						
۹						
۱۰						

به تعداد عدد سمت چپ، از مربع های آبی کن و به تعداد عدد سمت راست از مربع ها قرمز کن، چندان مربع رنگ شده است؟ حاصل جمع را بنویس



□□□□□	□□□□□
$۵+۳=$	

□□□□□	□□□□□
$۶+۴=$	

□□□□□	□□□□□
$۷+۲=$	

□□□□□	□□□□□
$۴+۳=$	

□□□□□	□□□□□
$۵+۵=$	

□□□□□	□□□□□
$۸+۲=$	

□□□□□	□□□□□
$۳+۷=$	

□□□□□	□□□□□
$۱+۶=$	

به تعداد عدد نوشته شده شکل بکش

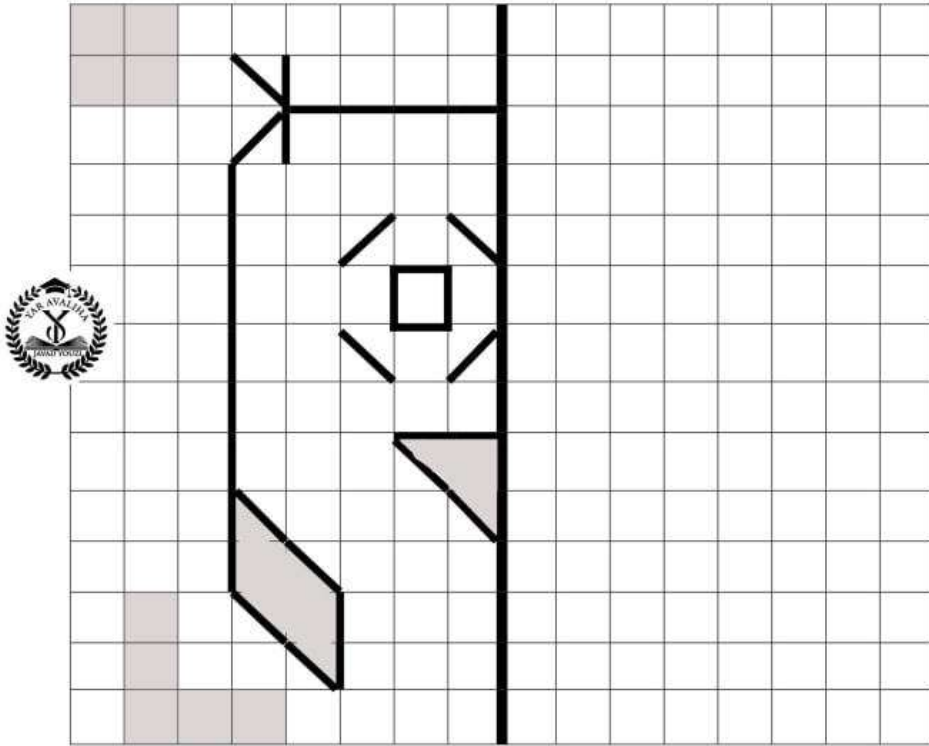
۱۰

۷

۳



نیمہ ی سمت راستہ شکل را مثل نیمہ ی سمت چپ بکش و رنگ کن



جدول را کامل کن

۸	۵	۷	۴	۳			۲	۹
۳		۱	۹	۵	۲	۴	۷	۸
	۴	۲	۶		۸	۳	۱	۵
۴	۱	۵	۲	۶	۷	۹	۸	۳
۲	۹	۶	۵	۸	۳	۷	۴	۱
۷	۳			۹	۴		۵	۶
۱	۲			۴	۶	۵	۳	۷
۵	۸	۳	۷	۲	۹	۱	۶	۴
۶	۷	۴	۳	۱			۹	۲

