



درس هشتم

«پرسش‌های چهارگزینه‌ای»

پرسش‌های چهارگزینه‌ای

۱- در کدام گزینه شاخص‌های سنجش موفقیت در عرصه اقتصادی آورده شده است؟

- (۱) رشد اقتصادی، پیشرفت اقتصادی و یا توزیع عادلانه ثروت  
 (۲) رشد اقتصادی، پیشرفت اقتصادی و افزایش نرخ ارز  
 (۳) رشد اقتصادی، افزایش نرخ ارز و کاهش سرانه مصرف  
 (۴) پیشرفت اقتصادی، کاهش سرانه مصرف و افزایش نرخ ارز

۲- در کدام گزینه به دلایل از دست دادن شغل به درستی اشاره نشده است؟

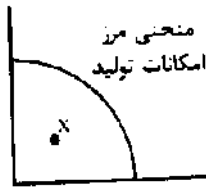
- (۱) تغییرات در فناوری‌های صنعتی، دگرگونی در رویه‌های تولید، تحریم‌های اقتصادی و قاچاق کالا  
 (۲) ضعیف بودن ساختار اقتصادی، قاچاق کالا، واردات بی‌رویه کالا و تحریم‌های اقتصادی  
 (۳) قاچاق کالا، قاچاق ارز، کاهش موانع صادرات، تغییرات در فناوری‌های صنعتی و خدماتی  
 (۴) ضعیف بودن ساختار اقتصادی، تغییرات در فناوری‌های صنعتی.

۳- پیامد کاهش تولید و پدید آمدن رکود کدام می‌باشد؟

- (۱) افزایش نرخ اشتغال، کاهش میزان سرمایه‌گذاری و شکل‌گیری منابع بیکار در اقتصاد  
 (۲) کاهش میزان سرمایه‌گذاری؛ اخراج کارگران و شکل‌گیری منابع بیکار در اقتصاد  
 (۳) کاهش نرخ بیکاری، افزایش نرخ اشتغال و گسترش حجم سرمایه‌گذاری  
 (۴) شکل‌گیری منابع بیکار در اقتصاد، حرکت به سمت بالای منحنی مرز امکانات تولید، گسترش سرمایه‌گذاری

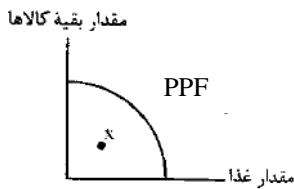
۴- کدام گزینه در رابطه با شکل مقابل درست است؟

- (۱) محل قرار گرفتن X نشان‌دهنده بهترین شرایط برای تولید است.  
 (۲) محل قرار گرفتن X نشان‌دهنده شرایط اشتغال کامل منابع و سرمایه است.  
 (۳) محل قرار گرفتن X نشان‌دهنده وجود منابع بیکار و کاهش سطح تولید است.  
 (۴) در رابطه با محل قرار گرفتن X می‌توان گفت، این اقتصاد منابع غیرفعال دارد و برای رسیدن به شرایط مطلوب باید از برخی تولیدات کاست.



۵- کدام گزینه در رابطه با شکل مقابل درست است؟

- (۱) وقتی یک اقتصاد منابع غیرفعال دارد، به راحتی می‌تواند با استفاده از آن منابع غیرفعال، کالا و خدمات زیادی تولید کند.  
 (۲) وقتی یک اقتصاد منابع غیرفعال دارد، به راحتی می‌تواند با استفاده از آن منابع غیرفعال، کالا تولید کند ولی خدمات خیر.  
 (۳) وقتی یک اقتصاد منابع فعال دارد، به راحتی می‌تواند با استفاده از آن منابع، کالا و خدمات بیش تری تولید کند.  
 (۴) وقتی یک اقتصاد منابع فعال دارد، یعنی شرایط در زیر منحنی (PPF) می‌باشد.



۶- درستی و نادرستی عبارتهای زیر در کدام گزینه آورده شده است؟

- (الف) وقتی یک اقتصاد منابع غیرفعال دارد، هیچ احتیاجی به انتقال منابع از تولید یک کالا به تولید کالای دیگری نیست.  
 (ب) کسانی که در ازای کاری که انجام می‌دهند دستمزد یا حقوق می‌گیرند، شاغل محسوب می‌شوند.  
 (پ) همه کسانی که شغلی ندارند، بیکار محسوب می‌شوند.  
 (ت) دانشجویان، دانش‌آموزان و بازنشسته‌ها جامعه بیکاران را تشکیل می‌دهند.

- (۱) درست - نادرست - درست - نادرست  
 (۲) درست - نادرست - نادرست - درست  
 (۳) نادرست - نادرست - درست - درست  
 (۴) درست - درست - نادرست - نادرست

۷- چه برداشتی از نقطه X در نمودار مقابل می‌توان داشت؟

- (۱) این جامعه در ماه اخیر به منابع طبیعی فراوانی دست یافته است.  
 (۲) کارآفرینان جدیدی برای بهبود وضع اقتصاد وارد بازار شدند.  
 (۳) اقتصاد این جامعه منابع غیرفعال دارد.  
 (۴) تولید داخلی اشباع شده و تولیدکنندگان ملزم به صادراتند.



۸- باتوجه به نمودار مقابل چند عبارت می‌تواند دلیل رخ دادن نقطه A باشد؟

- (الف) برخی از کارخانه‌ها بسته شدند.  
 (ب) قیمت تولید غذا بسیار بالا رفته است.  
 (پ) بعضی از کارگرها بیکار شدند.  
 (ت) کشور دچار رکود اقتصادی شده است.  
 (ث) میزان صادرات افزایش یافته است.  
 (ج) تعرفه‌های گمرکی افزایش یافته است.



- (۱) چهار (۲) سه (۳) دو (۴) پنج

۹- کدام گزینه در رابطه با جمعیت فعال صحیح می‌باشد؟

- (۱) تمام افرادی که در سن کار قرار دارند، یعنی بالاتر از ۱۵ سال و پایین‌تر از ۶۵ سال، جمعیت فعال گفته می‌شود.

۱۰- کدام یک از عبارات زیر در رابطه با بیکاری درست است؟

- ۱) دانش‌آموزی که به سن کار و تولید رسیده است ولی کاری ندارد.
- ۲) تمام کسانی را شامل می‌شود که سن آن‌ها بالاتر از ۱۵ سال است ولی کار ندارند.
- ۳) بیکار کسی است که بالاتر از ۱۵ سال دارد و در جست‌وجوی کار است؛ اما کاری برای خود پیدا نمی‌کند.
- ۴) اگر جمعیت فعال جامعه را از کل جمعیت کم کنیم، تعداد بیکاران به دست می‌آید.

۱۱- کدام گزینه در رابطه با جمعیت فعال صحیح می‌باشد؟

- ۱) تمام افرادی که شغل دارند و حقوق دریافت می‌کنند در جمعیت فعال قرار می‌گیرند.
- ۲) جمعیت فعال شامل تمام کسانی است که سن آن‌ها بالاتر از ۱۵ سال است و دارای شغل هستند.
- ۳) تمام افراد شاغل و بیکار که سن آن‌ها ۱۵ سال و بالاتر باشد در جمعیت فعال قرار می‌گیرند.
- ۴) با کم کردن جمعیت غیرفعال از جمعیت کل، جمعیت فعال به دست می‌آید.

۱۲- با توجه به اطلاعات داده شده در جدول، پاسخ درست سؤالات زیر در کدام گزینه آمده است؟

جمعیت کل	۶۸,۰۰۰,۰۰۰ نفر
پایین‌تر از ۱۵ سال	۲۰,۰۰۰,۰۰۰ نفر
۱۵ سال و بالاتر	۴۸,۰۰۰,۰۰۰ نفر
جمعیت غیرفعال	۱۸,۰۰۰,۰۰۰ نفر
جمعیت بیکار	۴,۰۰۰,۰۰۰ نفر

الف) جمعیت فعال در این جامعه چقدر است.

ب) تعداد شاغلین در کدام گزینه به درستی بیان شده است.

- ۱) الف) ۵۰ میلیون نفر ب) ۳۰ میلیون نفر
- ۲) الف) ۴۸ میلیون نفر ب) ۳۰ میلیون نفر
- ۳) الف) ۴۸ میلیون نفر ب) ۲۶ میلیون نفر
- ۴) الف) ۳۰ میلیون نفر ب) ۲۶ میلیون نفر

۱۳- جمعیت یک کشور ۶۳ میلیون نفر است، جمعیت غیرفعال ۲۰ میلیون نفر، جمعیت شاغل ۱۵ میلیون نفر و جمعیت بیکار ۳ میلیون نفر است.

الف) چند میلیون از جمعیت این کشور کم‌تر از ۱۵ سال سن دارند؟

ب) جمعیت فعال این کشور چند میلیون نفر است؟

- ۱) الف) ۲۵ میلیون ب) ۱۸ میلیون
- ۲) الف) ۴۳ میلیون ب) ۱۸ میلیون
- ۳) الف) ۲۵ میلیون ب) ۱۵ میلیون
- ۴) الف) ۴۳ میلیون ب) ۱۵ میلیون

۱۴- در کدام گزینه، فرمول محاسبه نرخ بیکاری به درستی آورده شده است؟

$$(1) 100 \times \frac{\text{جمعیت بیکار}}{\text{جمعیت شاغل}} = \text{نرخ بیکاری}$$

$$(2) 100 \times \frac{\text{جمعیت بیکار ۱۵ ساله و تر بیش}}{\text{جمعیت فعال ۱۵ ساله و تر بیش}} = \text{نرخ بیکاری}$$

$$(3) 100 \times \frac{\text{جمعیت بیکار}}{\text{کل جمعیت}} = \text{نرخ بیکاری}$$

$$(4) 100 \times \frac{\text{جمعیت فعال} - \text{جمعیت شاغل}}{\text{کل جمعیت}} = \text{نرخ بیکاری}$$

۱۵- با توجه به اطلاعات داده شده در جدول مقابل، نرخ بیکاری چقدر است.

جمعیت کل	۵۹,۰۰۰,۰۰۰ نفر
جمعیت کم‌تر از ۱۵ سال	۳۰,۰۰۰,۰۰۰ نفر
جمعیت غیرفعال	۹,۰۰۰,۰۰۰ نفر
جمعیت بیکار	۳,۰۰۰,۰۰۰ نفر

- ۱) ۳۰ درصد
- ۲) ۱۵ درصد
- ۳) ۱۰ درصد
- ۴) ۳ درصد

۱۶- جمعیت کل یک کشور ۸۰ میلیون نفر است و جمعیت غیرفعال ۲۵ میلیون نفر، جمعیت فعال ۳۰ میلیون نفر و نرخ بیکاری ۲۵ درصد.

تعداد بیکاران در این کشور چقدر است.

- ۱) ۷/۵ میلیون نفر
- ۲) ۵ میلیون نفر
- ۳) ۲۰ میلیون نفر
- ۴) ۱۵ میلیون نفر

۱۷- اگر جمعیت کل یک کشور x باشد و جمعیت غیرفعال آن برابر ۱۹ میلیون نفر باشد و نرخ بیکاری در این جامعه ۲۰ درصد باشد که

معادل ۸ میلیون نفر است، تعداد شاغلین را محاسبه کنید.

- ۱) ۴۰ میلیون نفر
- ۲) ۴۸ میلیون نفر
- ۳) ۳۲ میلیون نفر
- ۴) ۲۷ میلیون نفر

۱۸- جدول زیر آمار کشوری فرضی است. جمعیت فعال و غیرفعال آن به ترتیب از راست به چپ چه عددی را نشان می‌دهد؟

- ۱) ۱۸ میلیون نفر و ۲۰ میلیون نفر
- ۲) ۴۹ میلیون نفر و ۱۰ میلیون نفر
- ۳) ۳۰ میلیون نفر و ۱۸ میلیون نفر

کل جمعیت ۵۸,۰۰۰,۰۰۰ نفر  
پایین‌تر از ۱۵ سال ۱۰,۰۰۰,۰۰۰ نفر

۱۹- در کشوری فرضی با ۵۸ میلیون نفر جمعیت طبق آمار رسمی در این کشور ۶۳ میلیون نفر بالای ۱۵ سال سن دارند و ۴۲ میلیون نفر از آن جزء جمعیت فعال هستند و ۱۲ میلیون نفر متأسفانه بیکارند. باتوجه به این شرایط:

- (الف) چند نفر از جمعیت کم تر از ۱۵ سال سن دارند؟  
 (۱ الف) ۴۲ میلیون نفر (ب) ۹ میلیون نفر (پ) ۳۹ میلیون نفر  
 (۲ الف) ۱۲ میلیون نفر (ب) ۲۲ میلیون نفر (پ) ۹ میلیون نفر  
 (۳ الف) ۴۲ میلیون نفر (ب) ۳۰ میلیون نفر (پ) ۳۹ میلیون نفر  
 (۴ الف) ۲۲ میلیون نفر (ب) ۳۰ میلیون نفر (پ) ۲۱ میلیون نفر
- ۲۰- در کشوری فرضی با ۱۰۰ میلیون نفر جمعیت که ۳۰ میلیون نفر آن کم تر از ۱۵ سال دارند و ۱۰ میلیون نفر جمعیت غیرفعال آن هستند و ۲۰ میلیون نفر جمعیت بیکار هستند. چند درصد از جمعیت این کشور شاغل هستند؟  
 (۱) ۶۰ درصد (۲) ۷۰ درصد (۳) ۴۰ درصد (۴) ۶۶ درصد

۲۱- چند مورد از جملات زیر صحیح است؟

- اساسی ترین شاخص ارزیابی و وضعیت اشتغال کشور نرخ اشتغال است.
- همه کسانی که شغلی ندارند، بیکارند.
- کسانی که دانش آموز و دانشجو هستند و یا بازنشسته و خانه دارند و دنبال کار نمی گردند، بیکار محسوب نمی شوند.
- وقتی یک اقتصاد منابع غیرفعال دارد، هیچ احتیاجی به انتقال منابع از تولید یک کالا به تولید کالای دیگری نیست.
- در شرایط تحریم، بسته شدن راه صادرات و واردات کالای ارزان که مشابه داخلی اش هست تابآوری تولیدکننده داخلی را دشوار می کند.
- داستان از بین رفتن برخی شغلها و به وجود آمدن برخی دیگر، از مواردی است که دائم در اقتصاد در حال تکرار است.

- (۱) یک (۲) چهار (۳) دو (۴) سه

۲۲- باتوجه به جدول مقابل نرخ بیکاری چه قدر است؟

- (۱) ۲/۷٪  
 (۲) ۱۱٪  
 (۳) ۹٪  
 (۴) ۵٪

کل جمعیت ۱۸۰,۰۰۰,۰۰۰ نفر	
پایین تر از ۱۵ سال ۸۰,۰۰۰,۰۰۰ نفر	
غیرفعال ۴۵,۰۰۰,۰۰۰	۱۵ سال و بالاتر ۱۰۰,۰۰۰,۰۰۰ نفر
شاغل ۵۰,۰۰۰,۰۰۰ نفر	فعال ۵۵,۰۰۰,۰۰۰
بیکار ۵,۰۰۰,۰۰۰ نفر	

۲۳- آن چه در سنجش تعداد بیکاران اتفاق می افتد، گاهی با احساس عمومی جامعه از بیکاری سازگار نیست، کدام گزینه در راستای این مطلب نیست؟

- (۱) طبق تعریف، کسانی را که از جستوجوی شغل دلسرد شده اند، بیکار محسوب نمی کنند.  
 (۲) همه کسانی را که غیر از زمینه تخصصی شان مشغول به کار و فعالیت باشند، شاغل محسوب می کنند.  
 (۳) برخی از افراد در بخش خدمات فعالیت می کنند و این گروه جزء جامعه فعال نمی باشند.  
 (۴) همه کسانی را که به صورت پاره وقت مشغول به کارند، شاغل به حساب می آورند؛ در حالی که آن ها در جستوجوی شغل تمام وقت هستند و خود را شاغل به حساب نمی آورند.

۲۴- مقدار عرضه یا تقاضای نیروی کار با کدام عامل در ارتباط است؟

- (۱) تولید (کالا و خدمات)  
 (۲) صنعت (تولید)  
 (۳) قوانین کار و شرایط اقتصادی  
 (۴) قیمت (دستمزد)

۲۵- در کدام گزینه پاسخ سوالات زیر به درستی آمده است؟

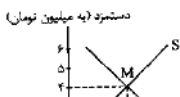
- (الف) چگونه نیروی کار، کالا و خدمات تولید می کند.  
 (ب) در اقتصاد صاحبان شرکتها و کارخانهها یا سرمایه گذاران را چه می نامند؟

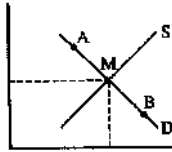
(پ) به قیمت نیروی کار چه می گویند؟

- (۱ الف) به وسیله نیروی بدنی یا فکری (ب) عامل تولید (پ) سود  
 (۲ الف) به وسیله نیروی بدنی یا فکری (ب) کارفرما (پ) دستمزد  
 (۳ الف) به وسیله سرمایه (ب) عامل تولید (پ) دستمزد  
 (۴ الف) به وسیله سرمایه (ب) کارفرما (پ) سود

۲۶- کدام گزینه در رابطه با نمودار مقابل درست است؟

- (۱) در قیمت ۴ میلیون تومان، میزان عرضه و تقاضای نیروی کار به تعادل رسیده است و بازار نیروی کار با ۳۰ عرضه نیروی کار و ۳۰ تقاضای نیروی کار روبهرو بوده است.





۲۷- کدام گزینه شرایط نیروی کار را در نقطه A و B به درستی بیان کرده است.

- (۱) در نقطه A چون دستمزد بالاتر از قیمت تعادلی است، عرضه نیروی انسانی زیاد ولی تقاضا برای آن کم است.
- (۲) در نقطه A چون دستمزد پایین است، تقاضای نیروی کار بالا ولی عرضه آن کم است.
- (۳) در نقطه B چون قیمت از سطح قیمت تعادلی پایین تر است، تقاضای نیروی کار کم ولی عرضه نیروی کار زیاد است.
- (۴) در نقطه B چون قیمت از سطح قیمت تعادلی بالاتر است، عرضه نیروی کار زیاد ولی تقاضا برای آن کم است.

۲۸- تعریف زیر در رابطه با کدام یک از اشکال بیکاری است؟

« این نوع بیکاری شامل کسانی می شود که شغل قبلی خود را به دلایلی رها کرده و به امید یافتن شغلی بهتر در جست و جو هستند»

- |             |             |
|-------------|-------------|
| (۱) فصلی    | (۲) دوره‌ای |
| (۳) ساختاری | (۴) اصطلاحی |
- ۲۹- این ویژگی در رابطه با کدام نوع بیماری است؟ «این نوع بیکاری کوتاه مدت است و در همه کشورهای وجود دارد».

- |             |             |
|-------------|-------------|
| (۱) فصلی    | (۲) دوره‌ای |
| (۳) ساختاری | (۴) اصطلاحی |
- ۳۰- این بیکاری شامل کسانی است که به تازگی در حال ورود به بازار کار هستند؟

- |             |             |
|-------------|-------------|
| (۱) دوره‌ای | (۲) اصطلاحی |
| (۳) ساختاری | (۴) فصلی    |
- ۳۱- هریک از توضیحات زیر در رابطه با کدام یک از انواع بیکاری است؟

الف) بیکاری کارگران ساختمانی

ب) در جامعه‌ای که نیروی کار ساده در اقتصاد وجود دارد؛ ولی نیروی کار متخصص لازم است.

پ) این بیکاری هنگام رکود اقتصادی رخ می دهد.

ت) این نوع بیکاری که ناشی از عدم تطبیق بین افراد جویای کار و انواع شغل‌های موجود به دلایلی از جمله عدم تطابق مهارت‌هاست.

- |   |
|---|
| (۱) فصلی - دوره‌ای - ساختاری - استهلاکی   |
| (۲) دوره ای - ساختاری - دوره ای - ساختاری |
| (۳) فصلی - ساختاری - دوره‌ای - ساختاری    |
| (۴) دوره‌ای - ساختاری - ساختاری - فصلی    |

۳۲- کدام گزینه دلالت بر پیامدهای بیکاری ندارد؟

- (۱) بیکاران بیمه خدمات درمانی خود را از دست می دهند- خانواده‌هایی که هیچ دستمزد دیگری ندارند، مجبورند از پس انداز خود برای غذا، پوشاک و مسکن استفاده کنند یا از دیگران برای تأمین این نیازها قرض بگیرند.
- (۲) بیکاران، برای پرداخت هزینه‌های غیرمترقبه مانند درمان و خرابی لوازم خانگی و... ناتوان می شوند. همچنین بیکاری می تواند موجب بروز اختلافات خانوادگی شود و حتی جرم و جنایات را در جامعه بیفزاید.
- (۳) بیکاری تأثیر منفی بر بودجه دولت دارد و باعث شکل گیری رکود اقتصادی می شود.
- (۴) بیکاری مشکلات زیادی برای بیکاران و خانواده‌های آن‌ها به وجود می آورد. خانوارها علاوه بر از دست دادن درآمد، مشکلات اجتماعی نیز پیدا می کنند.

۳۳- کدام گزینه در رابطه با تأثیر منفی بیکاری بر دولت نادرست است؟

- (۱) باعث کاهش سرمایه گذاری‌های اجتماعی و افزایش سرمایه گذاری‌های زیربنایی می شود.
- (۲) میزان بالای بیکاری، دولت را مجبور می کند تا پول بیش تری را صرف برنامه‌های اجتماعی خود کند.
- (۳) باعث می شود تا درآمدهای مالیاتی دولت کاهش یابد، چون کارگران و شرکت‌ها، مالیات کم تری می پردازند.
- (۴) باعث می شود تا هزینه‌های بیمه بیکاری و کمک به تغذیه خانواده‌های نیازمند بالا برود.

۳۴- پاسخ درست سؤالات زیر در کدام گزینه آمده است؟

الف) از پیامدهای غم انگیز بیکاری و رکود است؟

ب) روش کلی در تعیین میزان فقر است؟

پ) در شاخص فقر مطلق، ارزش دلار به کدام روش محاسبه می شود؟

- (۱) الف) تورم ب) تمام کسانی که درآمد آن‌ها از ۱/۹ دلار در روز کم تر باشد را در جامعه مشخص می کنیم. پ) در شاخص فقر مطلق، ارزش دلار، از طریق روش برابر قدرت خرید (PPP) محاسبه می شود.
- (۲) الف) تورم ب) نیازمندی‌های افراد یا خانوار را با توانمندی‌های آنان برای دستیابی به آن نیازها مقایسه می کنیم. پ) در شاخص فقر مطلق، دلار را با روش سرانه محاسبه می کنیم.
- (۳) الف) فقر ب) تمام کسانی که درآمد آن‌ها از ۱/۹ دلار در روز کم تر باشد را در جامعه مشخص می کنیم. پ) در شاخص فقر مطلق، دلار را با روش سرانه محاسبه می کنیم.



درس هشتم

«پرسش‌های چهارگزینه‌ای»

۳۵- کدام یک از گزاره‌های زیر به ترتیب درست، نادرست، درست و نادرست می‌باشد؟  
 الف) در فقر نسبی همیشه تعریف فقر نسبت به وضعیتی که ما در آن هستیم، تعریف می‌شود.  
 ب) شورای امنیت سازمان ملل، افرادی را که درآمد آن‌ها در روز کم‌تر از ۳ یورو می‌باشد را فقر مطلق می‌داند.  
 پ) می‌توان تولید ناخالص داخلی یا درآمد سرانه کشورها را معیاری برای رتبه‌بندی آن‌ها از نظر فقر در نظر گرفت.  
 ت) با توجه به مفهوم فقر مطلق، می‌توان گفت که محاسبه تعداد افراد فقیر بسیار پیچیده، سخت و شاید ناممکن است. از این رو مفهوم فقر نسبی استفاده می‌شود.

۱) الف-ب-ت-پ      ۲) الف-ب-پ-ت      ۳) ب-ت-ب-الف      ۴) ب-الف-پ-ت

۳۶- کدام یک از گزینه‌های زیر در رابطه با عوامل ایجاد بیکاری و فقر نادرست است؟

۱) قاچاق کالا به داخل کشور  
 ۲) واردات بی‌رویه کالاهای خارجی  
 ۳) تورم و قوانین روان صادرات کالا  
 ۴) مشکل بازپرداخت اصل وام‌ها و بهره آن‌ها به بانک‌ها

۳۷- در کدام گزینه به عوامل شکل‌گیری فضای نامناسب کسب و کار اشاره شده است؟

۱) قوانین دست و پا گیر اداری- مشکل دریافت مجوزهای دولتی- قوانین متعدد و بعضاً متناقض- بی‌ثباتی فضای کسب و کار- واردات بی‌رویه  
 ۲) قوانین دست و پا گیر اداری- افزایش ساعت کار کارگران- واردات بی‌رویه کالاها- قوانین متعدد و بعضاً متناقض- صادرات انبوه کالاها  
 ۳) مشکل دریافت مجوزهای دولتی- تورم- پرداخت وام‌های تولیدی با بهره کم- بالا بردن تعرفه‌های واردات کالا  
 ۴) بالا بردن تعرفه‌های واردات کالا- افزایش ساعت کار کارگران براساس قانون کار- تغییرات سریع فناوری

۳۸- یکی از وظایف دولت‌ها در هر کشوری، اجرای سیاست‌های فقرزدایی و برقرار کردن عدالت است، دولت ما برای رسیدن به این هدف از چه راهکارهایی استفاده می‌کند؟

۱) پرداخت یارانه به مصرف‌کنندگان- افزایش مالیات بر تولید  
 ۲) حمایت از شرکت‌های تولیدی- مبارزه با فساد  
 ۳) واردات انبوه کالاهای اساسی و سرمایه‌ای به کشور  
 ۴) اجرای سیاست‌های پول و مالی انقباضی در بلندمدت  
 ۳۹- پیامد مثبت ایجاد نهادهای توانمندسازی، خیریه‌ها و کمک‌های مردمی و نیز تأسیس صندوق‌های قرض‌الحسنه و فعالیت‌های جهادی، توسط مردم چیست؟

۱) محافظت مردم از یکدیگر در برابر فقر  
 ۲) افزایش توان تولیدی کشور  
 ۳) افزایش درآمد مالیاتی دولت  
 ۴) اجرای سیاست‌های پولی دولت