

در کانال تیزهوشان ششم تا نهم و استعداد تحلیلی به جدیدترین مطالب آموزشی دسترسی پیدا کنید!

@estedadtahleei

@tizhooshaan6_9

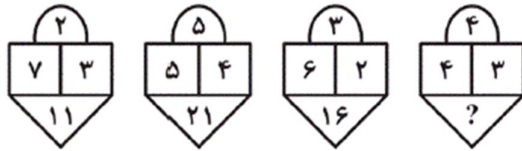
استعداد تحلیلی شماره 36: الگو های عددی (سری دوم)

<https://t.me/estedadtahleei>

تعداد پاسخ درست :
تعداد پاسخ نادرست :
تعداد سوالات بدون پاسخ :

نام و نام خانوادگی:

1) در الگوی زیر کدام عدد به جای علامت سؤال قرار می گیرد؟



۱۲ (۲)

۱۱ (۱)

۱۴ (۴)

۱۳ (۳)

2) به جای ؟ کدام عدد می تواند قرار بگیرد؟

۱۲	۷	۱۴
۴۳	۲۷	۶۹
۳۷	۳۰	۵۴
۳۶	۳۱	؟

۳۶ (۱)

۱۳ (۲)

۴۹ (۳)

۲۲ (۴)

3) به جای ؟ در الگوی زیر کدام عدد قرار می گیرد؟

۶۸, ۷۹, ۸۱۰, ۹۲۱, ?

۹۴۳ (۴)

۱۰۴۳ (۳)

۱۰۳۲ (۲)

۸۳۲ (۱)

۱, ۶, ۱۶, ۳۶, ?

4) عدد بعدی دنباله روبه رو کدام است؟

۱۰۶ (۲)

۱۰۸ (۱)

۷۶ (۴)

۹۶ (۳)

5) به جای علامت سؤال، چه عددی قرار می گیرد؟

۳۲۳ ۸۶ ۱۴۴۸ ۱۷۳۲ ?

۱۴۲۰ (۲)

۱۳۶ (۱)

۴۵ (۴)

۱۴۵ (۳)

6) در شکل زیر به جای علامت سؤال کدام عدد قرار می گیرد؟

۹	۶	۴	۱۰
۷	۱۲	۳	۷
۱۴	؟	۶	۱
۹	۱۶	۳	۱

۲ (۱)

۸ (۲)

۷ (۳)

۱۱ (۴)

7) عدد مناسب برای جای گذاری به جای علامت سؤال کدام است؟



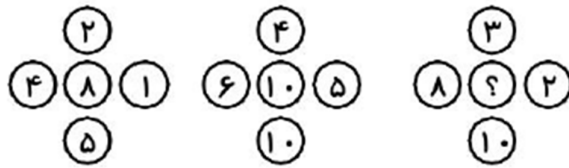
۷ (۲)

۱۶ (۱)

۸ (۴)

۳ (۳)

8) در شکل زیر به جای ؟ چه عددی قرار می گیرد؟



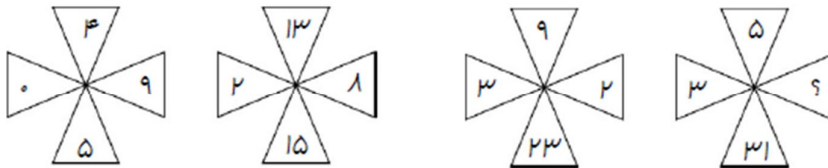
۴۰ (۱)

۳۵ (۲)

۱۸ (۳)

۲۲ (۴)

9) بین اعداد داخل هر شکل، ارتباط خاصی برقرار است. به جای علامت سؤال، کدام عدد باید قرار داده شود؟



۱ (۱)

۹ (۲)

۷ (۳)

۶ (۴)

10) در تساوی های زیر که تلفیقی از اشکال و اعداد می باشد، ارتباط خاصی برقرار است. کدام عدد را می توان به جای علامت سؤال در شکل چهارم قرار داد تا این ارتباط در این شکل نیز، با همان استدلال سه تساوی قبل، برقرار بماند؟

$$\left(\begin{array}{c} \triangle \\ \square \end{array} \right) = 15$$

$$\left(\begin{array}{c} \square \\ \triangle \end{array} \right) = 65$$

۱۶۰ (۱)

۱ (۲)

$$\left(\begin{array}{c} \square \\ \triangle \end{array} \right) = 34$$

$$\left(\begin{array}{c} \square \\ \triangle \end{array} \right) = ?$$

۱۱ (۳)

۷۹ (۴)

11 بین اعداد زیر، از چپ به راست، ارتباط خاصی برقرار است. به جای علامت سؤال، کدام عدد قرار می‌گیرد؟

۲ ۱۲ ۶۰ ۲۴۰ ۷۲۰ ؟

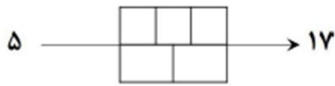
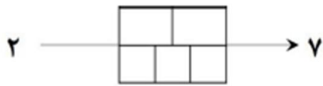
۱۹۲۰ (۴)

۱۴۴۰ (۳)

۱۴۰۰ (۲)

۹۶۰ (۱)

12 بین اشکال و اعداد زیر، ارتباط خاصی برقرار است. به جای علامت سؤال، کدام عدد باید قرار بگیرد؟



۲۲ (۴)

۱۸ (۳)

۱۴ (۲)

۲۴ (۱)

13 در شکل زیر، به جای علامت سؤال، کدام عدد باید قرار گیرد؟

۲۵	۱۲۵	۹	۴۵
۶	۳۰	؟	۶۵

۴۹ (۴)

۳۹ (۳)

۳۳ (۲)

۱۳ (۱)

14 به جای علامت سؤال، کدام عدد مناسب است؟

۶	۸
۱۱	۱۶
۲۴	۳۷
۵۸	؟

۷۴ (۲)

۹۲ (۱)

۸۴ (۴)

۹۴ (۳)

15 در شکل زیر، بین اعداد ارتباطی خاصی برقرار است. به جای علامت سؤال، کدام عدد باید قرار بگیرد؟



۲۱ (۲)

۱۵ (۱)

۲۷ (۴)

۲۴ (۳)

Saeed aramedeh