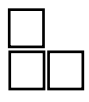
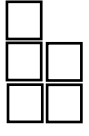


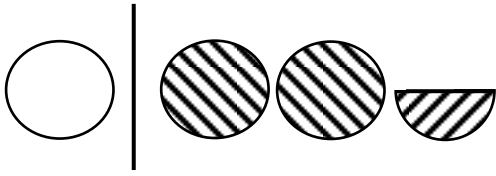


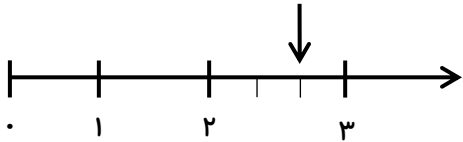


۱	<p>عدد ۹۳۲۰۸۷۶۵ را با حروف بنویسید.</p> <p>- بزرگ ترین رقم در ارزش مکانی ----- و کوچک ترین رقم در ارزش مکانی ----- قرار دارد.</p> <p>- رقم ۸ در چه ارزش مکانی قرار دارد؟</p> <p>- رقم های طبقه ی هزار را بنویسید.</p>
۲	<p>شکل (۴) و (۳۵) الگوی هندسی زیر شامل چند مربع است؟</p> <div style="display: flex; justify-content: space-around; align-items: center;"> <div style="text-align: center;">  <p>(۱)</p> </div> <div style="text-align: center;">  <p>(۲)</p> </div> <div style="text-align: center;">  <p>(۳)</p> </div> <div style="text-align: center;"> <p>?</p> <p>(۴)</p> </div> <div style="text-align: center;"> <p>?</p> <p>(۵)</p> </div> </div>
۳	<p>برای شکل روبه رو سه کسر مساوی بنویسید.</p> 
۴	<p>کسری بنویسید که صورت آن ۶ و مخرج آن ۹ برابر صورت باشد، سپس آن را ساده کنید.</p>
۵	<p>مقایسه کنید.</p> <div style="display: flex; justify-content: space-around;"> <div style="text-align: center;"> $\frac{6}{7} \square \frac{20}{35}$ </div> <div style="text-align: center;"> $\frac{4}{7} \square \frac{4}{9}$ </div> <div style="text-align: center;"> $\frac{5}{8} \square \frac{3}{8}$ </div> </div> <div style="display: flex; justify-content: space-around; margin-top: 10px;"> <div style="text-align: center;"> $\frac{0}{300} \square \frac{9}{9}$ </div> <div style="text-align: center;"> $34591 \square 59134$ </div> <div style="text-align: center;"> <p>خمس ۴۵ \square ثلث ۳۰</p> </div> </div>
۶	<p>در جاهای خالی عدد مناسب بگذارید.</p> <div style="display: flex; justify-content: space-around; align-items: center;"> <div style="text-align: center;"> $\frac{2}{5} = \frac{18}{\square}$ </div> <div style="text-align: center;"> $\frac{\square}{9} = \frac{15}{27}$ </div> </div>
۷	<p>حاصل عبارت های زیر را بدست آورید و تا جای امکان ساده کنید.</p> <div style="display: flex; justify-content: space-around; margin-top: 10px;"> <div style="text-align: center;"> $\frac{13}{18} - \frac{5}{18} =$ </div> <div style="text-align: center;"> $\frac{2}{36} + \frac{3}{9} =$ </div> </div>
۸	<p>$\frac{7}{24}$ مزرعه ای را گندم و $\frac{3}{8}$ آن را جو کاشته اند. در چه کسری از این زمین گندم و جو کاشته شده است؟ چه کسری باقی مانده است؟</p>

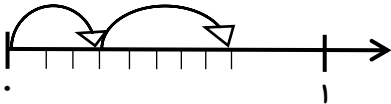
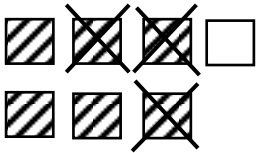
عدد مخلوط به هر قسمت را بنویسید.



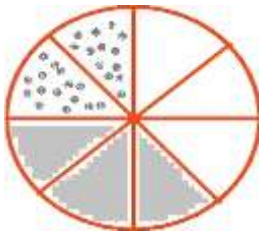
۹



برای هر شکل جمع یا تفریق بنویسید.



۱۰



در یک کارخانه شکلات سازی در هر روز ۲ بسته صد هزار تایی و ۵ بسته ده هزار تایی و ۱۴ بسته هزار تایی شکلات تولید می شود. تولید یک روز کارخانه چند شکلات است؟

۱۱

به ۵ برابر عددی ۱۱ واحد اضافه کردیم حاصل ۴۶ شد. آن عدد را بدست آورید.

۱۲