




به نام خدا

آزمون مدادی کاغذی ریاضی دوم ابتدایی - فصل سوم

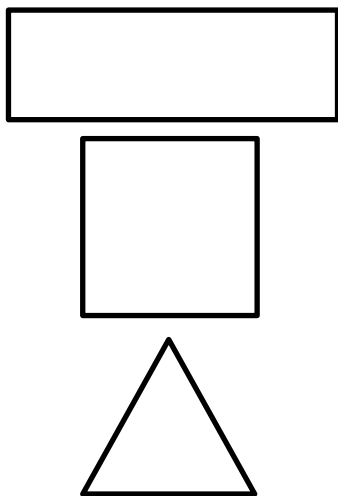
Ebtedayi.blogspot.com

نام و نام خانوادگی: نام آموزشگاه:

۱- با وصل کردن نقطه ها به هم شکل خواسته شده را رسم کن و نام شکل را در جای خالی بنویس.

۴ ضلع و ۴ گوشه دارد. ۲ ضلع آن مساوی است.	۳ گوشه دارد	۴ ضلع و ۴ گوشه دارد. ۴ ضلع آن مساوی است.
		
.....

۲- هر جمله را به شکل خودش وصل کن.

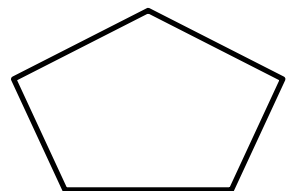
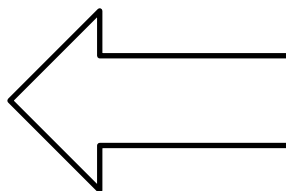
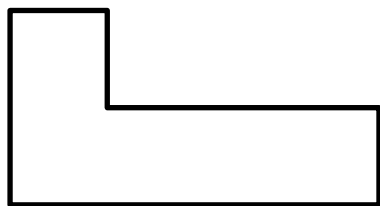



سه ضلع دارد

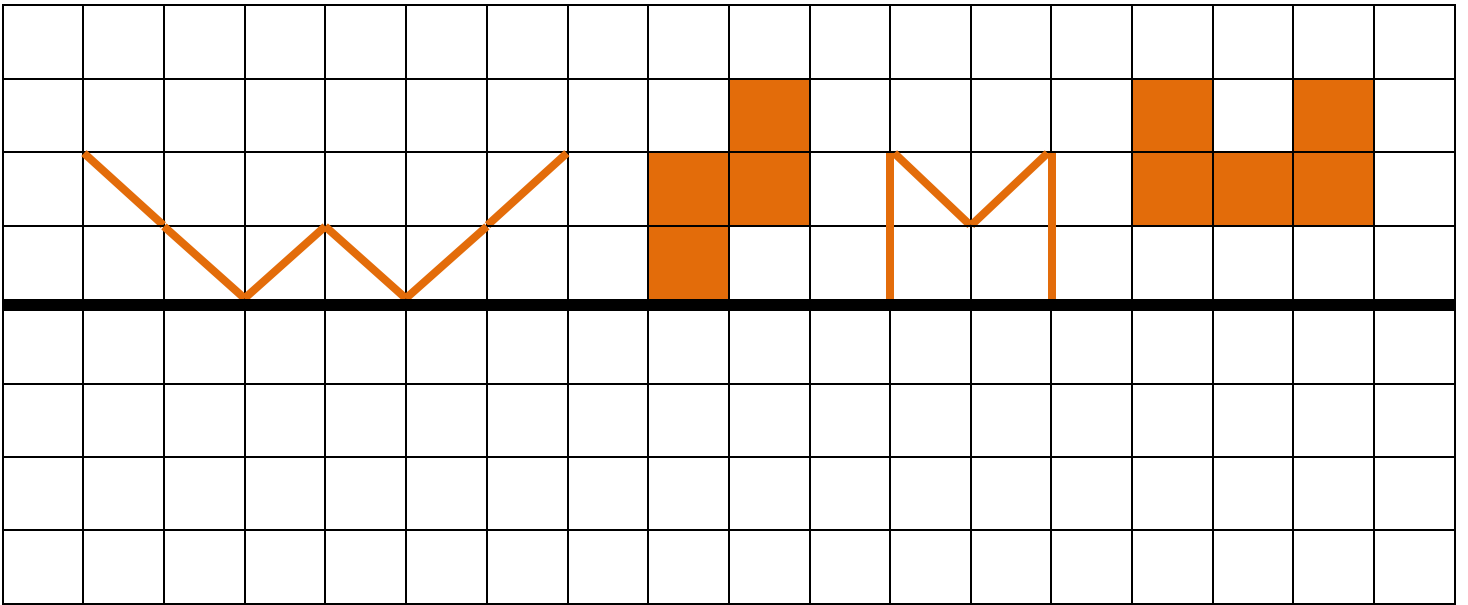
۴ ضلع و ۴ گوشه دارد.

هر ۴ ضلع آن با هم برابرند

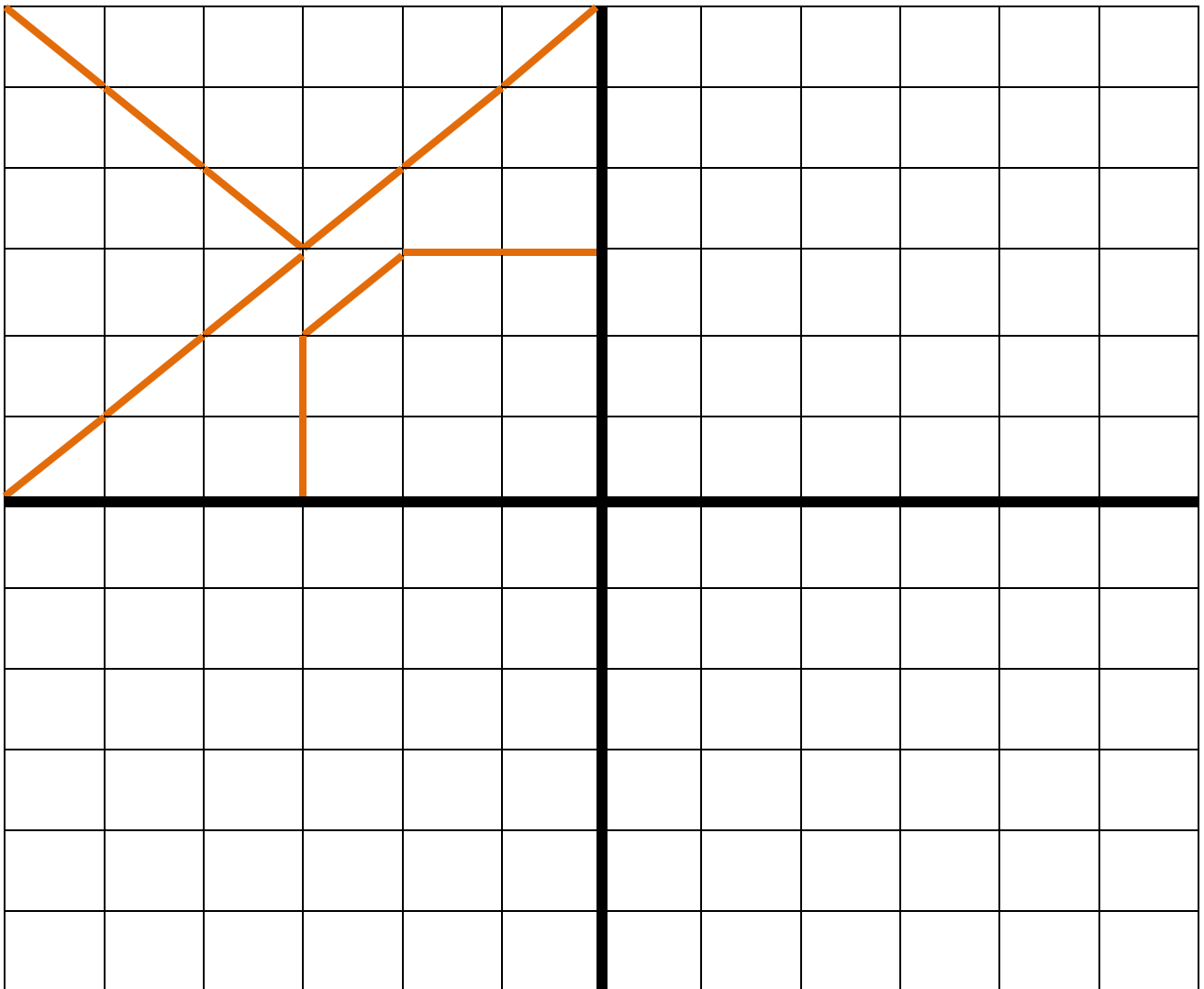
۳- خط تقارن شکل های زیر را بکش. هر شکلی که خط تقارن ندارد را رنگ کن.





۴- با توجه به خط تقارن نیمه دیگر شکل را بکش.




۵- ابتدا نیمه سمت راست و بعد نیمه پایین را طوری کامل کن که ۴ قسمت مثل هم باشند.



۶- عقربه های ساعت را بکش.




۷- ساعت ها را بخوان و به دو صورت بنویس.



..... : ۳۰

ساعت و



۷ : ۱۵

ساعت و

۸- الگو را ادامه بده.

۱۰ , ۲۰ , ۳۰ , , , , , ,

۲ , ۵ , ۸ , , , , , ,

۳ , ۷ , ۱۱ , ۱۵ , , , , ,

۱ , ۲ , ۴ , ۷ , ۱۱ , , , ,

