



(تفریق روی محور)

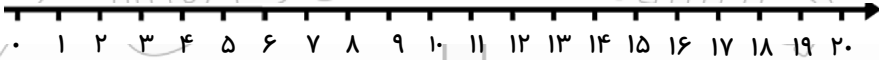
کاربرد شماره ۹

هر گونه کپی برداری و استفاده با نام خود شرعا حرام است. طراح: مجید مهدی خانی


@BaaAvaliha

کانال آموزشی «با اولی ها»

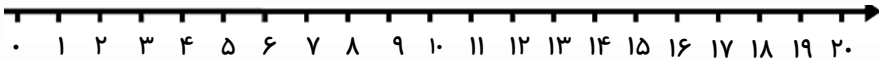
فرزندم، با کمک محور، جواب هر یک از جمع ها را بدست بیاور.



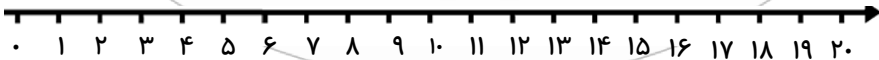
۱۹ - ۵ =



۱۵ - ۹ =



۲۰ - ۴ - ۶ =



۱۷ - ۹ - ۲ =



بازخورد آموزگار:

