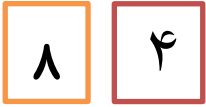





- با دو کارت عدد دو رقمی بساز.



با عددهای ۸ و ۶ و ۲ عدد دورقمی بساز ؟

۲- بزرگ ترین عدد دورقمی است .



یکان عددی ۷ و دهگان آن ۳ می باشد آن عدد چیست ؟.....

یکان عددی ۹ و دهگان آن ۵ تا کمتر می باشد آن عدد چیست؟.....

۶ دسته ده تایی منهای دسته ده تایی می شود ۲ دسته ده تایی

۲ دسته ده تایی به اضافه ی دسته ده تایی می شود ۸ دسته ده تایی

۳- حاصل را به دست آورید

$$10 + 20 + 10 + 5 = \dots$$

$$90 - 60 = \dots$$

۳۰+

$$40 + 10 + 10 + 10 + 5 = \dots$$

$$70 - 30 = \dots$$

$$30 + 20 + 4 + 10 + 5 = \dots$$

$$60 - 20 = \dots$$

۴- الگوها را ادامه دهید

$$10 - 20 - 30 - \dots - \dots - \dots - \dots$$

$$5 - 10 - \dots - \dots - 25 - \dots - \dots$$

$$8 - 16 - \dots - \dots - \dots - \dots$$

$$83 - 85 - 87 - \dots - \dots - \dots$$

۵- با حروف بنویس.

-	۵	۳	۲
۷			
۱۳			

+	۳	۴	۵	۶
۵				
۸				

۸۶	_____
۳۹	_____

۶- جواب را به صورت تقریبی به دست آورید.

$$63 \rightarrow \dots$$

$$77 \rightarrow \dots$$

$$+ \\ 25 \rightarrow \dots$$

$$- \\ 44 \rightarrow \dots$$

۷- جمع و تفریق ها را با استفاده به صورت فرایندی حل کنید .


۶۸

۴۳

۷۴

۲۳

۸- نام اشکال را بنویس





نام :

گوشه :


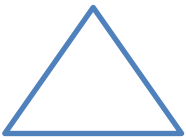
ضلع :

۹- تقارن شکل هارا با شابلون بکش

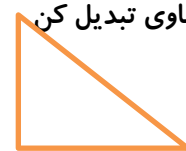


۱۰- شباهت :

تفاوت :



۱۱- به قسمت های مساوی تبدیل کن



۳

۶

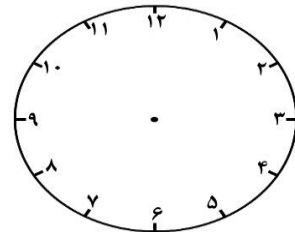
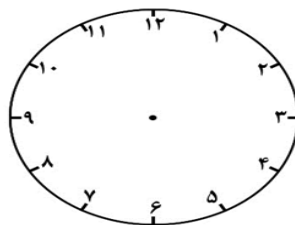
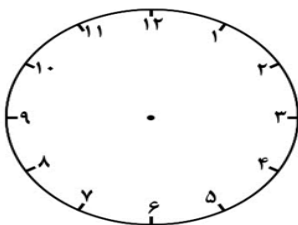
۸

۴

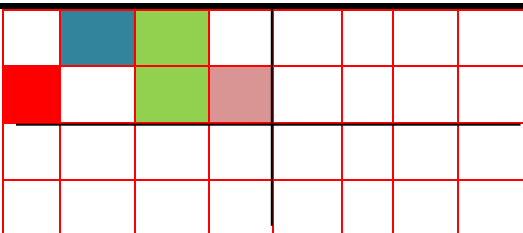
۸:۲۰

۱۲:۴۵

۱۲- ساعت ها را نشان بده (سه ونیم)



۱۳- تقارن دیگر را زنگ کن



خسته نباشید خانم دهقانی