

سوالات درس ۲۳ «مطالعات اجتماعی»

۱. هنگامی که از منزل خارج می شویم چه نکات ایمنی را باید رعایت کنیم؟ (الف) با یاد خدا از خانه بیرون می آییم (ب) هرگز با افراد غریبه حرف ننزیم و با آنها جایی نرویم و از آنها چیزی نگیریم (ج) هنگام عبور از عرض خیابان از قسمت خط کشی عبور کنیم (د) به چراغ عابر پیاده توجه کنیم (ه) در پیاده رو راه برویم و در طول خیابان قدم ننزیم و موقع راه رفتن جلوی خود را نگاه کنیم و مشغول کاری دیگر نباشیم.

۲. هنگامی که با سرویس به مدرسه می رویم چه نکات ایمنی را باید رعایت کنیم؟ (الف) با راننده حرف ننزیم و حواس او را پرت نکنیم (ب) تا وقتی اتومبیل کاملاً توقف نکرده درب را باز نکنیم و پیاده نشویم (ج) هیچگاه از سمت چپ (درب طرف راننده) سوار یا پیاده نشویم (د) دست و یا سر خود را از پنجره بیرون نیاوریم.

۳. اگر لازم باشد که هنگام شب از خانه خارج شوید چه نکات ایمنی را باید رعایت کنید؟ (الف) برای عبور از کوچه و خیابان لباس روشن بپوشیم یا از شبرنگ و کاغذ سفید استفاده کنیم.

۴. تابلوهای راهنمایی رانندگی به چه منظوری نصب شده اند؟ برای وسایل نقلیه و نیز عابران پیاده نصب شده اند تا با توجه به آنها به طور صحیح در خیابان رفت و آمد انجام گیرد و یا در جاده ها رانندگی کنیم.

۵. هر یک از تابلوهای زیر چه نشانه ای هستند و چه پیامی برای ما دارند؟



بوق زدن ممنوع



ایست



عبور عابر پیاده ممنوع



عبور دوچرخه ممنوع



ورود ممنوع



ایستگاه اتوبوس



خطر



محل عبور دانش آموزان



محل عبور عابر پیاده

سوالات درس ۲۳ «مطالعات اجتماعی»

۶. چراغ راهنمای عابرین پیاده چند رنگ دارد؟ روشن شدن هر رنگ نشانه ی چیست؟ دو رنگ دارد. رنگ قرمز به نشانه ی ایستادن و عبور نکردن است. رنگ سبز هم نشان دهنده این است که عابر پیاده می تواند عبور کند.

۷. چراغ راهنمایی مخصوص وسایل نقلیه چند رنگ دارد و هر رنگ نشان دهنده ی چیست؟ سه رنگ دارد. رنگ قرمز که نشان می دهد وسایل نقلیه باید پشت خط عابر پیاده توقف کنند و اجازه بدهند تا عابرین پیاده عبور کنند. رنگ زرد که به معنی احتیاط کامل برای ماشین ها و موتور سیکلت ها است وسایل نقلیه ای که از چراغ رد شده اند باید با احتیاط بقیه ی خیابان را طی کنند ولی وسایل نقلیه ای که قبل از چراغ راهنمایی هستند بهتر است بایستند و رنگ سبز به این معنی است که وسایل نقلیه حق عبور دارند. ۸. چگونه باید از خیابان عبور کنیم؟ بهتر است در جاهایی از خیابان عبور کنیم که تابلو، محل عبور عابر پیاده و یا خط کشی داشتن باشد. برای عبور از خیابان باید ابتدا پشت جدول خیابان بایستیم و به سمت چپ نگاه کنیم وقتی مطمئن شدیم که اتومبیلی نمی آید تا وسط خیابان رفته و روی خط وسط بایستیم سپس به سمت راست نگاه کرده و اگر اتومبیل نمی آمد با احتیاط به طرف دیگر خیابان برویم.

۹. در خیابان های پر عرض و شلوغ شهرهای بزرگ بهترین راه عبور از خیابان چه راهی است؟ عبور از روی پل عابر پیاده

۱۰. پلیس راهنمایی و رانندگی چه کمکی به مردم می کند؟ پلیس به همه ی مردم کمک می کند تا قوانین راهنمایی و رانندگی را رعایت کنند و به آن احترام بگذارند.

۱۱. برای تماس با پلیس با چه شماره ای باید تماس بگیریم؟ ۱۱۰

۱۲. اگر در خانه یا بیرون از خانه با مشکلی برخورد کردیم از چه کسی می توانیم کمک بگیریم؟ از پلیس

ایمنی در کوچه و خیابان

درس ۳۳

شما در شهر زندگی می‌کنید یا روستا؟ مدرسه‌ی شما به خانه‌تان نزدیک است یا دور؟

با چه وسیله‌ای به مدرسه می‌روید؟ پیاده، با اتوبوس یا با سرویس مدرسه؟
از محل‌های مخصوص حرکت کنیم و به مقررات هم توجه کنیم.
 ما هر روز در کوچه و خیابان رفت و آمد می‌کنیم. برای رفت و آمد در کوچه و خیابان به چه چیزهایی باید توجه کنیم؟

اکنون نکات جدول زیر را بخوانید و تصویر هر کدام را در صفحه‌ی ۷۲ و ۷۳ پیدا کنید و شماره‌ی آن را در جدول

بنویسید یا برای هر شماره توضیحی بنویسید.

هم فکری کنید و بنویسید



۱	همیشه با نام و یاد خدای مهربان از خانه خارج شویم.
۱۰	از مسیری که در آنجا ساختمانی را خراب می‌کنند یا می‌سازند با احتیاط عبور کنیم.
۲	هرگز با افراد غریبه صحبت نکنیم و از آن‌ها چیزی نگیریم یا همراه آن‌ها نرویم.
۳	برای رفت و آمد یا بازی روی ریل قطار راه نرویم
۹	هرگز سربه‌خا در خیابان و پیاده‌رو راه نرویم
۴	پشت وسایل نقلیه در حال حرکت نپریم.
۶	با راننده صحبت نکنیم و حواس او را پرت نکنیم.
۸	دست و صورت و بدن خود را از اتومبیل بیرون نبریم
۴ و ۵	خیابان جای توپ بازی، دوچرخه‌سواری یا دویدن نیست
۷	تا زمانی که اتوبوس یا اتومبیل کاملاً نایستاده از آن پیاده نشویم
۱۱	همیشه از در سمت راست پیاده شویم و از در سمت راننده پیاده نشویم.

کدامیک از این نکات را شما رعایت می‌کنید؟ کدام را تصمیم دارید از این به بعد انجام دهید؟

پاسخ درس به درس مطالعات اجتماعی پایه سوم؛ آموزگار: آریاس پیروتی



در جاده‌ها، ماشین‌ها با سرعت زیاد حرکت می‌کنند. اگر مسیر شما از کنار جاده می‌گذرد یک‌باره به میان جاده ندوید. هنگامی که در حاشیه‌ی جاده راه می‌روید، رانندگان باید به خوبی شما را ببینند.



در هنگام شب، برای عبور از کوچه و خیابان لباس روشن بپوشید یا از شبرنگ و کاغذ سفید استفاده کنید. وقتی هوا تاریک است، بهتر است تنها از خانه خارج نشوید.



بچه‌ها، بگویید اگر به هریک از نکات اینی که در صفحه‌ی قبل دیدید، توجه نکنیم، چه اتفاق ناگواری پیش می‌آید؟
 اکنون به تابلوهای راهنمایی توجه کنید.
 تابلوهای راهنمایی برای عابران پیاده یا وسایل نقلیه نصب می‌شوند تا با توجه به آن‌ها به طور صحیح از خیابان عبور کنند. در این تصویرها، شما بعضی از تابلوهای راهنمایی را مشاهده می‌کنید. آن‌ها را به خاطر بسپارید.



عبور عابر پیاده ممنوع



عبور دوچرخه‌سوار ممنوع



ورود ممنوع



خطر



محل عبور عابر پیاده



محل عبور دانش‌آموزان



عبور یکطرفه



ایست
STOP




ایستگاه آتوبوس
خط




بوق زدن ممنوع

مهم



پاسخ درس به درس مطالعات اجتماعی پایه سوم؛ آموزگار: آریاس پیروتی



سه رنگ دارد. رنگ قرمز که نشان می دهد وسایل نقلیه باید پشت خط عابر پیاده توقف کنند و اجازه بدهند تا عابرین پیاده عبور کنند. رنگ زرد که به معنی احتیاط کامل برای ماشین ها و موتور سیکلت ها است وسایل نقلیه ای که از چراغ رد شده اند باید با احتیاط بقیه ی خیابان را طی کنند ولی وسایل نقلیه ای که قبل از چراغ راهنمایی هستند بهتر است بایستند و رنگ سبز به این معنی است که وسایل نقلیه حق عبور دارند.

♦ چراغ راهنمایی

در بعضی چهارراه ها، چراغ راهنمایی مخصوص وسایل نقلیه و عابرین پیاده وجود دارد. آیا می توانید بگویید چراغ وسایل نقلیه چند رنگ دارد؟ و روشن شدن هر رنگ نشانه ی چیست؟
چراغ عابرین پیاده چند رنگ دارد؟ هر رنگ به چه معناست؟

رنگ قرمز به نشانه ی ایستادن و عبور نکردن است. رنگ سبز هم نشان دهنده این است که عابر پیاده می تواند عبور کند.



چراغ راهنمایی مخصوص وسایل نقلیه و عابر پیاده

توقف وسایل نقلیه پشت چراغ راهنمایی

♦ چگونه از خیابان عبور کنیم؟

در خیابان، بهتر است از جایی عبور کنیم که تابلوی «عبور عابر پیاده» یا خط کشی وجود دارد.

برای این کار، کنار خیابان می ایستیم و به سمت چپ نگاه می کنیم تا مطمئن شویم وسیله ی نقلیه ای نمی آید. سپس تا وسط خیابان می رویم و روی خط وسط می ایستیم. حالا به راست نگاه می کنیم و اگر وسیله ی نقلیه ای نیامد، با احتیاط به آن طرف خیابان می رویم. یادمان باشد هرگز نباید به سمت وسط خیابان بدویم.



تمرین کنید

با کمک معلم یا پدر و مادر، عبور کردن صحیح از خیابان را تمرین کنید.



در خیابان‌های بسیار بزرگ که اتومبیل‌ها با سرعت زیاد حرکت می‌کنند، عبور از خیابان کار خطرناکی است و حتماً باید از پل‌های هوایی استفاده کنیم.



♦ پلیس

همان‌طور که مدرسه و خانه، مقرراتی دارد، رفت و آمد در کوچه و خیابان هم قوانین و مقرراتی دارد. پلیس به همه‌ی مردم کمک می‌کند تا قوانین راهنمایی و رانندگی را رعایت کنند و به آن احترام بگذارند.



آیا می‌دانید اگر در داخل یا بیرون خانه به مشکلی برخورد کردید، می‌توانید از پلیس کمک بگیرید؟
برای تماس با پلیس، شماره‌ی ۱۱۰ را می‌گیریم.

مهم

هم فکری کنید



- ۱- در چه مواقعی می‌توانیم از پلیس کمک بگیریم؟
- ۲- همیار پلیس کیست و چه کاری انجام می‌دهد؟
- ۳- اگر معلم شما، پلیس را به کلاس دعوت کند، چه سؤالاتی از او می‌پرسید؟ هم‌فکری کنید و هر گروه چند سؤال تهیه کنید.
- ۴- کاربرگ‌های شماره‌ی (۱۹) و (۲۰) را انجام دهید.

۱. وقتی در خیابان گم می‌شویم. موقع تصادفات - وقتی احساس خطر کردیم

۲. افرادی که با پلیس همکاری می‌کنند تا نظم در جامعه برقرار شود. آنها قوانین راهنمایی و رانندگی را تذکر می‌دهند.

۳. چگونه می‌توانم مانند شما یک پلیس بشوم؟ چگونه باید درس بخوانم؟ آیا کار سختی است؟



- ۱- یک دفترچه‌ی تلفن درست کنید. نام، نشانی و شماره‌ی تلفن چند نفر از دوستانتان را در آن بنویسید. نام دوستانتان را به ترتیب حروف الفبا مرتب کنید.
- ۲- به نمودار ماه‌های تولد بچه‌های کلاس که در فصل (۱) تهیه کردید، توجه کنید. یک کارت تبریک درست کنید و به نشانی یکی از دوستانتان که در این ماه متولد شده، بفرستید. نشانی و کد پستی را بپرسید و به‌طور صحیح روی پاکت بنویسید.




- ۳- الف - با کمک معلم، به‌طور گروهی مقررات رفت و آمد در خیابان را در کلاس نمایش دهید.



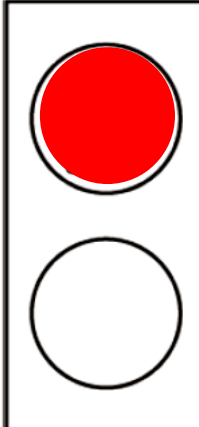
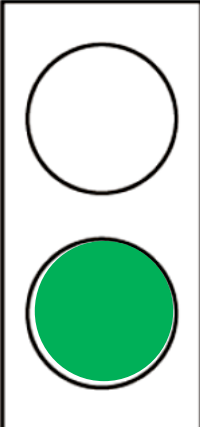


- ب - در مدرسه‌ی شما چه کسانی «پلیس مدرسه» هستند؟ آن‌ها چه کارهایی انجام می‌دهند؟ مشاهده و پرس‌وجو کنید.

کاربرگه‌ی شماره‌ی ۱۹ | تابلوهای راهنمایی

۱- نام تابلوهایی را که نوشته نشده، بنویسید.

		
عبور عابر پیاده ممنوع	دوچرخه سواری ممنوع	بوق زدن... ممنوع
		
خطر...	محل عبور... عابر پیاده	محل عبور... دانش آموزان
		
عبور... یکطرفه		ورود... ممنوع

۲- تابلوهای زیر را رنگ کنید.

			
شما نمی توانید از خیابان عبور کنید و باید منتظر بشوید.	شما می توانید از خیابان عبور کنید.	اتومبیل ها می توانند حرکت کنند.	اتومبیل ها باید بایستند.

کاربرگی شماره‌ی ۲۰ رفت و آمد در خیابان

شماره‌ی هر تصویر را کنار * بنویس.

