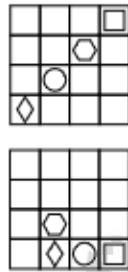
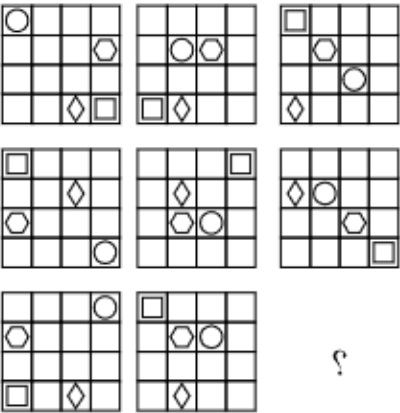
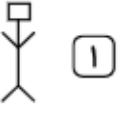
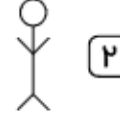


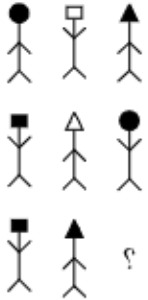


نام و نام خانوادگی:

پایه:

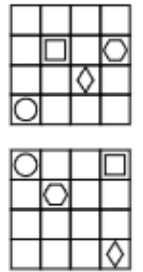
تاریخ: / /

در سوالات زیر به جای علامت سؤال کدام گزینه را انتخاب می کنید؟





۲

۴




۱

۳



۲

۴



۱

۳



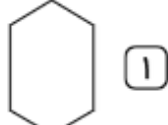
MASOUD BIGDELI

تاریخ: / /

پایه:

نام و نام خانوادگی:

۴. به مثل است به:



۵. اگر بخواهیم زمین مستطیل شکلی را به ابعاد 7×47 با موزائیک‌هایی به شکل زیر فرش کنیم، کدام جمله درست است؟



۱ با هر یک از شکل‌های (الف)، (ب)، (ج) و (د) به تنهایی می‌توان این کار را انجام داد.

۲ با هر یک از شکل‌های (الف)، (ج) و (د) می‌توان به تنهایی این کار را انجام داد.

۳ با کمک شکل‌های (الف) و (د) با هم می‌توان این کار را انجام داد و به تنهایی با هیچ شکلی امکان پذیر نیست.

۴ با شکل‌های (ج) و (ب) با هم می‌توان این کار را انجام داد.

در سوالات زیر جای تصویر خالی شده کدام گزینه قرار می‌گیرد؟

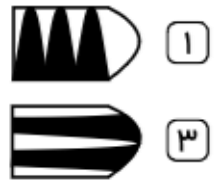
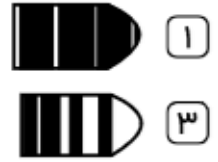
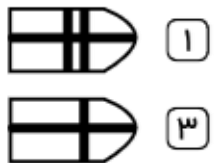
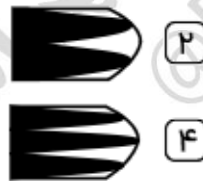
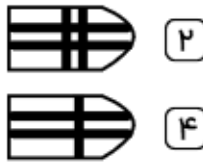
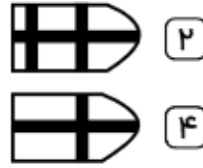

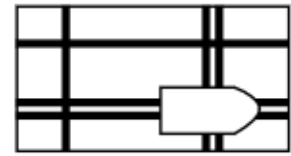
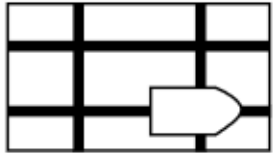
۶.



نام و نام خانوادگی:

پایه:

تاریخ: / /



تاریخ: / /

پایه:

نام و نام خانوادگی:

پاسخنامه کلیدی

۱ . ۲

۳ . ۲

۵ . ۳

۷ . ۴

۹ . ۱

۲ . ۲

۴ . ۳

۶ . ۳

۸ . ۲

۱۰ . ۳

