

سوالات درس ۱۴ مطالعات اجتماعی (سفری به کرمانشاه)

۱. شهر کرمانشاه در کجا واقع شده است؟
۲. شهر کرمانشاه از نظر جغرافیایی چگونه است؟
۳. در شهر کرمانشاه آثار تاریخی چه دوره‌هایی را مشاهده می‌کنید؟
۴. نام دو مکان تاریخی کرمانشاه را بگویید.
۵. چرا طاق بستان گردشگران زیادی را به خود جلب می‌کند؟
۶. در طاق بستان کدام آثار تاریخی دیده می‌شود؟
۷. سه پادشاه دوره‌ی ساسانی را نام ببرید.
۸. ساسانیان پس از به قدرت رسیدند. نوه‌ی ساسان نام داشت.
۹. حکومت ساسانی چگونه به وجود آمد؟
۱۰. شاپور اول که بود و چه کرد؟
۱۱. خسرو انوشیروان که بود و در زمان او چه کارهای در ایران انجام شد؟
۱۲. در ایران باستان، بیشتر مردم پیرو کدام دین بودند؟
۱۳. زرتشتیان چه چیزی را مقدس می‌شمردند و چه چیزی را نیایش می‌کردند؟
۱۴. کتاب مقدس زرتشتیان چه نام داشت؟ سه پایه اصلی دین زرتشت کدامند؟
۱۵. پیامبر اسلام (ص) به کدام پادشاه نامه نوشت و او را به دین اسلام دعوت کرد؟
۱۶. پیام دین اسلام چه بود؟
۱۷. سوغات معروف کرمانشاه چیست؟


۱۴

درس سفری به شهر باستانی کرمانشاه

بچه‌ها و پویا و توماس هنگام غروب به همدان رسیدند. پدر و مادر علیرضا و محسن از پویا و توماس تشکر کردند که بچه‌ها را همراه خود برده بودند. پویا گفت: ما فردا صبح به تهران برمی‌گردیم. آقای امیری گفت: فردا پنجشنبه است و بهتر است دو روز آخر هفته را همگی به کرمانشاه برویم. حالا که تا اینجا آمده‌اید، خوب است کرمانشاه را هم ببینید. از کرمانشاه تا همدان حدود سه ساعت راه است. همه از این پیشنهاد عمو استقبال کردند.

آقای امیری در راه درباره‌ی کرمانشاه به مهمانانش توضیحاتی داد:

شهر کرمانشاه در غرب ایران و مرکز استان کرمانشاه است و در میان رشته‌کوه‌های زاگرس قرار دارد. در کرمانشاه بارندگی نسبتاً خوب است و این شهر چشمه‌ها و رودهای پرآب و مناظر زیبایی دارد. این شهر از شهرهای باستانی ایران است و آثاری از دوره‌های هخامنشیان، اشکانیان و ساسانیان در آن مشاهده می‌شود. به نظر می‌رسد که کرمانشاه مورد توجه پادشاهان همگی این



حکومت‌ها بوده است. آقای امیری در ادامه‌ی توضیحاتش گفت: اول می‌رویم طاق‌بستان و بعد از ظهر هم از بیستون دیدن می‌کنیم.



طاق بستان

در طاق بستان آقای امیری گفت:

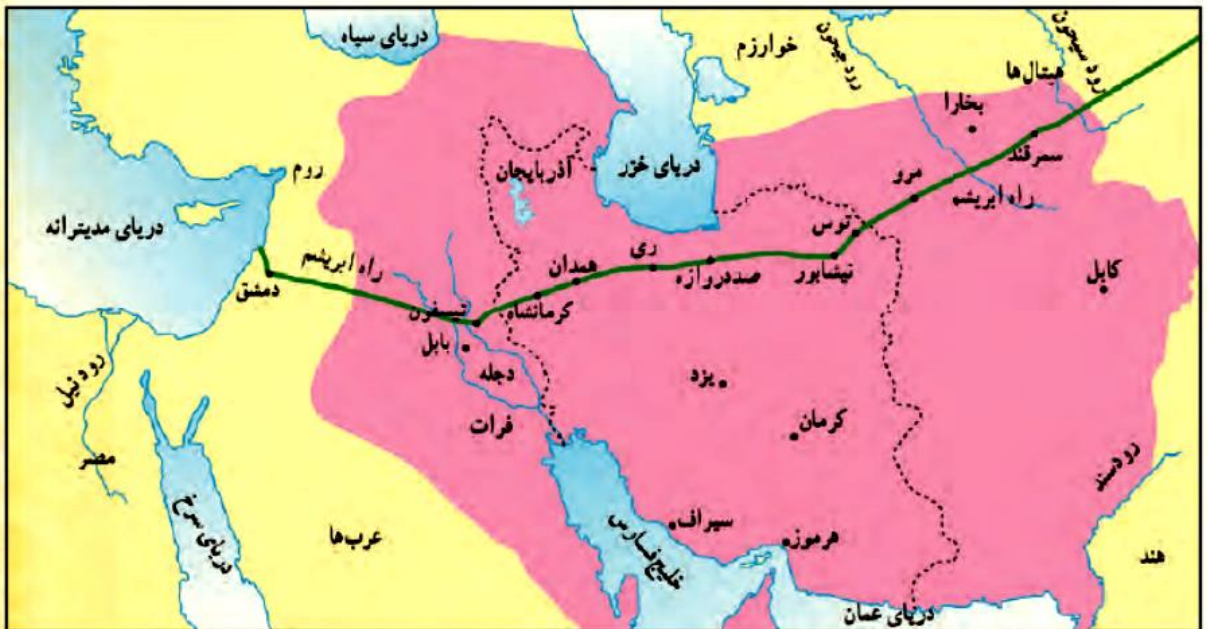
طاق‌بستان، هم آثار تاریخی مهمی دارد و هم در مکانی زیبا و خوش منظره واقع شده است. به همین دلیل، گردشگران زیادی را به خود جلب می‌کند. مجموعه‌ای از سنگ‌نبشته‌ها و سنگ‌نگاره‌های دوره‌ی ساسانیان در این مکان قرار دارد؛ مثلاً سنگ‌نگاره‌ی تاج‌گذاری

نقش برجسته‌ی خسرو پرویز سوار بر اسب در طاق بستان کرمانشاه

خسرو پرویز، اردشیر دوم، شاپور دوم و سوم، که همه از پادشاهان ساسانی بوده‌اند. ساسانیان پس

از اشکانیان به قدرت رسیدند. وقتی حکومت اشکانی ضعیف شد، جنگ میان فرمانروایان محلی،

برای به‌دست گرفتن حکومت، شدت گرفت. یکی از این فرمانروایان، اردشیر، نوه‌ی ساسان بود.



قلمرو ساسانیان
 راه ابریشم
 قلمرو ایران کنونی

اردشیر در جنگ با اشکانیان پیروز شد و خود را شاه خواند. او حکومتی را به وجود آورد که به نام جدش ساسانیان نامیده شد.

در زمان ساسانیان، معماری و سنگ تراشی پیشرفت زیادی کرد. در این دوره نیز چون گذشته، هنرمندان رویدادهای مهم مانند پیروزی‌ها را به یادگار روی سنگ‌های بزرگ کوه‌ها می‌کنند.

یکی از شاهان قدرتمند ساسانی، شاپور اول نام داشت. او توانست بر رومی‌ها پیروز شود و امپراتور روم را اسیر کند. بعد از این پیروزی، شاپور دستور داد صحنه‌ی تسلیم شدن امپراتور روم



را بر بدنه‌ی کوهی در فارس حک (کنده‌کاری) کنند. یکی دیگر از شاهان معروف ساسانی، خسرو انوشیروان بود که در زمان او شهرهای بزرگی در ایران ساخته شد.

خسرو انوشیروان همچنین کاخ‌های باشکوهی برای خود ساخت. به دستور او دانشگاه بزرگی هم در جندی‌شاپور (در استان خوزستان) ساخته شد. به این ترتیب، دانش پزشکی در آن شهر رونق یافت و پزشکان، از ایران و دیگر کشورهای جهان در آنجا گرد آمدند.

خانم امیری گفت: تا آنجا که من می‌دانم، بقایای چند آتشکده‌ی ایران باستان هم در استان کرمانشاه است. بچه‌ها، در ایران باستان بیشتر مردم پیرو دین زرتشت بودند.

ترتیب بسیار مهم است



زرتشتیان آتش را مقدّس می‌شمردند و در آتشکده‌ها اهورامزدا (خدای دانا) را نیایش می‌کردند. کتاب مقدّس زرتشتیان اوستا نام دارد. سه پایه‌ی اصلی دین زرتشت پندار نیک، گفتار نیک و کردار نیک است.

وقتی بازدید از طاق بستان به پایان رسید، آقای امیری گفت: به مهمان‌سرا برویم، نماز بخوانیم، ناهار بخوریم و کمی هم استراحت کنیم. عصر به بیستون می‌رویم. در بیستون سنگ نگاره‌ای وجود دارد که پیروزی داریوش بزرگ را بر مخالفانش نشان می‌دهد.

وقتی سوار اتومبیل شدند، علیرضا پرسید: ساسانیان چگونه از بین رفتند؟

مادر محسن پاسخ داد: وقتی پیامبر بزرگ ما، حضرت محمد (ص)، به پیامبری مبعوث شد،

به خسرو پرویز پادشاه ساسانی نامه نوشت و او را به اسلام دعوت کرد. ما خسرو پرویز این دعوت را

پذیرفت. در اواخر حکومت ساسانی، مردم روز به روز ناراضی‌تر می‌شدند؛ زیرا مجبور بودند مالیات زیادی بپردازند تا هزینه‌های جنگ با رومی‌ها تأمین شود. آنها همچنین از بعضی امتیازاتی که بزرگان داشتند، مانند آموزش و سواد، محروم بودند. از سوی دیگر، پادشاهان به فکر خوش‌گذرانی بودند و به مردم توجهی نداشتند. سپاهیان نیز به دلیل جنگ‌های متعدد ضعیف شده بودند.

پیام دین اسلام برادری و برابری بود. وقتی عرب‌های مسلمان به قلمرو ایران حمله کردند و سپاه ساسانی را شکست دادند، مردم نواحی مختلف ایران به تدریج اسلام را با آغوش باز پذیرفتند.

○ فعالیت

۱- مادر محسن چه دلایلی را برای از بین رفتن ساسانیان و ورود اسلام به ایران، بیان کرد؟

(خلاصه کنید.)

۲- کاربرگ‌های شماره‌ی ۹ (سلسله‌های ایران باستان) را انجام دهید.

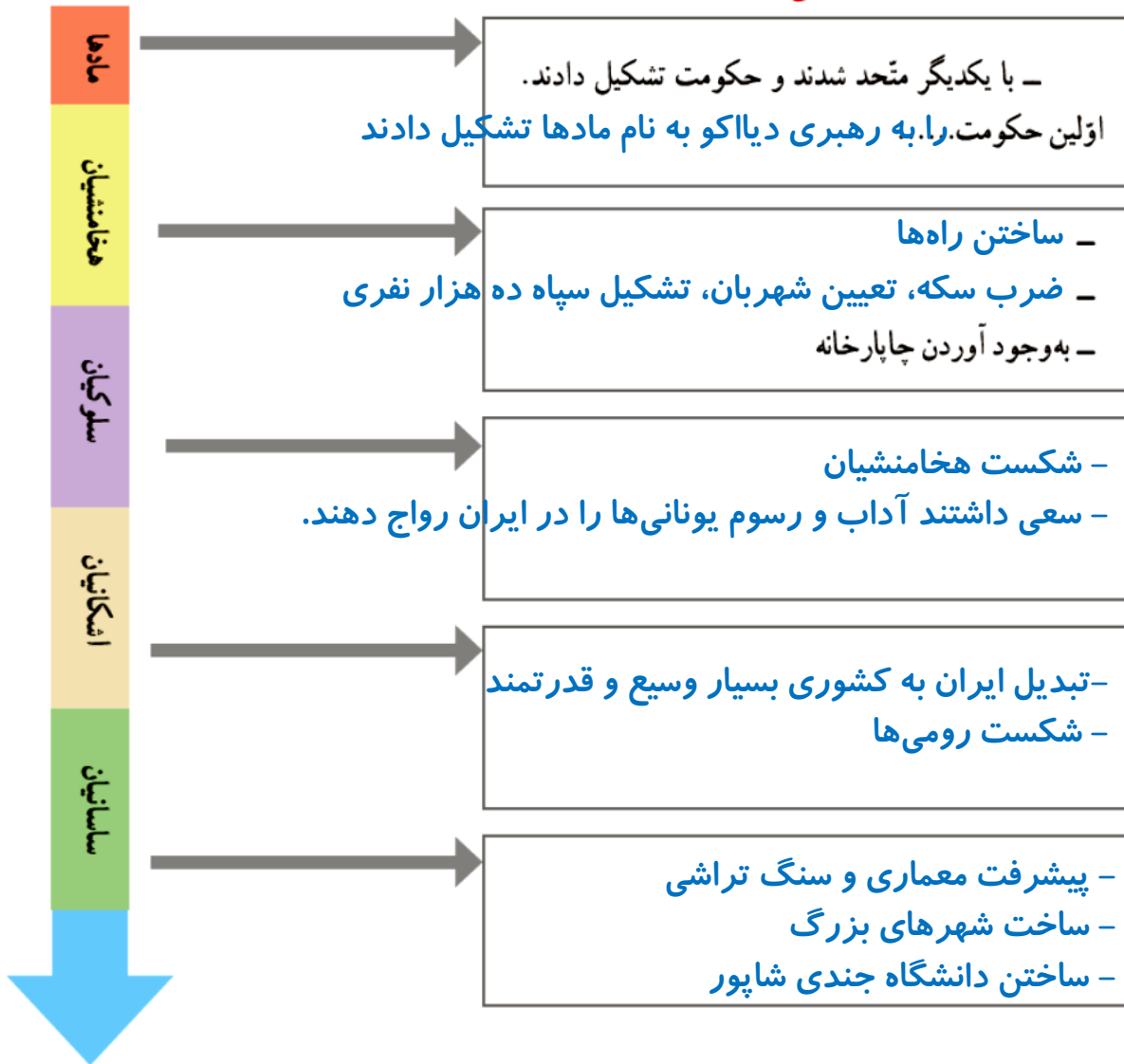
۶۲

جواب فعالیت

۱. خوشگذرانی پادشاهان و بی توجهی به مردم - ناراضی‌تری مردم به خاطر پرداختن مالیات زیاد - ناراضی‌تری مردم به خاطر محروم بودن آنها از آموزش و سواد - ضعیف شدن سپاهیان به خاطر جنگ‌های متعدد

با توجه به آنچه درباره‌ی حکومت‌های ایران باستان خواندید، مهم‌ترین ویژگی‌های هر یک از این سلسله‌ها را در نمودار بنویسید.

ویژگی‌ها





در مهمان سرا مادر علیرضا گفت:
ما دوست داریم غذای محلی کرمانشاه را
بخوریم. آقای امیری گفت: پیشنهاد خوبی
است. پس آش عباسعلی و خورش خلال
سفارش می دهیم.

توماس گفت: من می خواهم صنایع
دستی کرمانشاه را ببینم. خوب است عصر
سری هم به مغازه ها بزنیم.

بچه ها گفتند: ما هم می خواهیم برای
دوستانمان سوغاتی بخریم.

مادر محسن گفت: از همدان ظروف

سفالی و کشمش خریدید. امروز هم به بازار

سنتی کرمانشاه می رویم. نان برنجی، کاک
(یک نوع شیرینی) و گیوهی کرمانشاهی

سوغاتی های معروف کرمانشاه هستند.



تهیه و بخت نان برنجی



کلاش (گیوهی کرمانشاهی)



صنایع چرم



گلیم