

به نام خدا

آزمون مدادی کاغذی ریاضی دوم ابتدایی - چهار فصل اول

نام و نام خانوادگی: ..... نام آموزشگاه: .....

۱- حاصل جمع و تفریق ها را پیدا کنید.

$400 + 200 = \dots$

$600 + 200 = \dots$

$700 - 300 = \dots$

$900 - 500 = \dots$

$600 + 100 = \dots$

$700 + 300 = \dots$

$500 - 200 = \dots$

$600 - 300 = \dots$




۲- جمع و تفریق ها را انجام دهید.

$7 + 7 = \dots$

$9 + 5 = \dots$

$8 + 4 = \dots$



$10 - 6 = \dots$

$18 - 7 = \dots$

$9 + 9 = \dots$

$4 + 9 = \dots$

$8 + 7 = \dots$

$10 - 8 = \dots$

$16 - 4 = \dots$

$5 + 5 = \dots$

$9 + 3 = \dots$

$5 + 8 = \dots$

$10 - 4 = \dots$

$15 - 5 = \dots$

$6 + 6 = \dots$

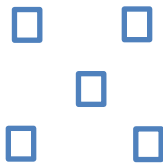
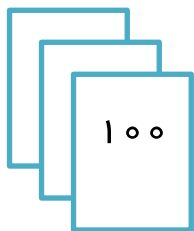
$8 + 6 = \dots$

$8 + 8 = \dots$

$10 - 7 = \dots$

$17 - 3 = \dots$

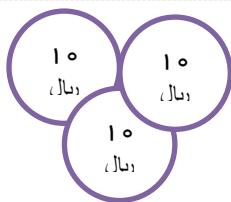
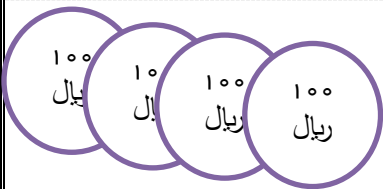
۳- جاهای خالی را کامل کنید.



ص	د	ی
....	....	....

رقم: .....

حروف: .....



ص	د	ی
....	....	....

رقم: .....

حروف: .....

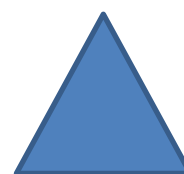

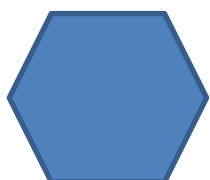
الف) با کارت های ۲ و ۶ و ۹ تمام عددهای سه رقمی را بساز و بنویس: .....

ب) با کارت های ۳ و ۵ و ۰ عدد سه رقمی بساز که یکانش از همه کمتر باشد: .....

ج) عدد ۵۸۷ را با حذف رقم یکان به صورت تقریبی بنویس: .....

د) عدد ۹۸۴ را با حذف رقم یکان و دهگان به صورت تقریبی بنویس: .....

۵- نام شکل های زیر را بنویسید.



.....

.....

.....

.....

.....

