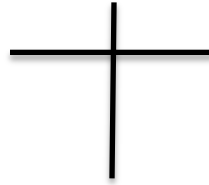



به نام خدا

آزمون مدادی کاغذی ریاضی دوم ابتدایی – فصل اول

نام و نام خانوادگی: نام آموزشگاه:

۱_ فرزندم؛ با درست کردن دسته های ده تایی تعداد ستاره ها را بشمار و سپس جاهای خالی را کامل کن.



به رقم:

به حروف:

۲_ گلم؛ حاصل عبارت ها را با روش خواسته شده دست یار.

$$۱۴ - ۷ = \dots$$


رسم شکل

$$۷ + ۵ + ۴ \dots$$

چوب خط

$$۶ + ۶ + ۶ = \dots$$

رنگ کردن مربع ها



$$۴ + ۸ - ۳ = \dots$$



۳_ حاصل جمع و تفریق ها را بنویس.

$$۱۲ + ۳ = \dots$$

$$۹ + ۶ = \dots$$

$$۱۲ - ۸ \dots$$

$$۷ + ۸ = \dots$$

$$۷ + ۷ = \dots$$

$$۱۰ - ۶ = \dots$$

$$۴ + ۵ = \dots$$

$$۳ + ۹ = \dots$$

$$۸ - ۴ = \dots$$

۴_ ساعت ها را بخوان.



از گذشته است.



به مانده است.



به مانده است.



۵_ عددی دو رقمی هستم که رقم یکانم ۳ و رقم دهگانم ۴ تا بیشتر از رقم یکانم است.

من چه عددی هستم؟

۷_ با رقم های ۷ و ۰ و ۴ هر چقدر می توانید عدد دو رقمی بساز.

مهربانم؛ مسئله ها را با دقت بخوان و آن ها را حل کن. می توانی برای آن شکل بکشی یا از محور و چوب خط استفاده کنی.

۸_ تولد احسان هشتم ماه بود. امروز ۶ روز از تولد او گذشته است. امروز چندم ماه است؟

۹_ سعید ۹ گل دارد. وحید ۵ گل دارد. سعید چند گل از وحید بیشتر دارد؟

۱۰_ در اتوبوس ۷ نفر نشسته بودند. در ایستگاه اول ۴ نفر سوار شدند و در ایستگاه دوم ۶ نفر پیاده شدند.

چند نفر در اتوبوس باقی ماندند؟

۱۱_ دانشمد کوچک؛ الگو را ادامه بده.

۱	۲	۳	۴	۵	۶	۷	۸	۹	۱۰	۱۱	۱۲	۱۳	۱۴	۱۵
۱۶	۱۷	۱۸	۱۹	۲۰	۲۱	۲۲	۲۳	۲۴	۲۵	۲۶	۲۷	۲۸	۲۹	۳۰

۴, ۸, ... , ... , ... , ... , ...