

کاربرگ فصل ۳ تمرین الگو عددی، هندسی و مساله ساعت

۱) پسر با هوشم، الگوهای زیر را ادامه بده. (الگوها را تا همین اندازه مشخص شده ادامه دهید)

..... - ..... - ..... - ۹ - ۶ - ۳

..... - ..... - ۱۹ - ۱۷ - ۱۹ - ۱۷

..... - ..... - ۱۷ - ۱۰ - ۵ - ۲

..... - ..... - ۱۵ - ۱۲ - ۱۰ - ۹

..... - ..... - ۴۹ - ۵۲ - ۵۴ - ۵۵

..... - ..... - ۵۸ - ۶۴ - ۶۸ - ۷۰

۲) پسر به سوالات زیر با دقت پاسخ بده. (میتوانی از ساعت آموزشی کمک بگیری)

اگر ساعت ۷:۴۰ دقیقه باشد، ۲۰ دقیقه بعد ساعت چند می شود؟


اگر ساعت سه و نیم باشد، ۳۰ دقیقه بعد ساعت چند می شود؟


اگر ساعت ۱:۳۰ دقیقه باشد ۱ ساعت و نیم دیگر ساعت چند می شود؟


اگر ساعت ۹:۵۰ دقیقه باشد، ۱۵ دقیقه قبل ساعت چند بوده است؟

اگر ساعت ۵:۴۵ دقیقه باشد، ۱ دو ساعت قب ساعت چند بوده است؟

۲) پسر به مساله های مربوط به ساعت با دقت جواب بده.

الان ساعت ۸:۳۵ دقیقه است. زنگ تفریح محمد ساعت ۹ میخورد. چند دقیقه ی دیگر زنگ تفریح محمد می خورد؟ 

آرمان ساعت ۷ و نیم به مدرسه رسید. نیم ساعت صبح گاه او طول کشید. برنامه ی صبح گاه چه ساعتی تمام شد؟ 

پدر علی ساعت ۷:۳۰ دقیقه از خانه خارج شد و ۱ ساعت و نیم بعد به اداره رسید. او چه ساعتی به اداره رسیده است؟ 

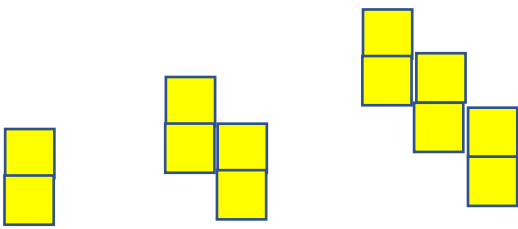
۳) الگو های ساعتی ( زمانی ) زیر را ادامه بده .

۳:۴۰ - ۳:۴۵ - ۳:۵۰ - ..... - ..... - ..... - .....

۶:۳۰ - ۶:۴۰ - ۶:۵۰ - ..... - ..... - ..... - .....

۳:۲۵ - ۴:۲۵ - ۵:۲۵ - ..... - ..... - ..... - .....

۳) الگو های شکلی زیر را ادامه بده. ( تا شکل چهارم و پنجم )



۵) گل پسرم برای شکل های زیر خط تقارن رسم کن.

