

تم شانزده

# رهگذر ریاضی

نام دانش آموز

.....





وبلاگ  
مهربه یادماندنی

[www.aftabemehrban.blogfa.com](http://www.aftabemehrban.blogfa.com)

وبلاگ مهربه به یادماندنی - بزرگی ابراهیمی



با کمک انگشتان جواب جمع را پیدا کن. حالا بگو دو دسته روی هم چند شکل دارند؟ برای آن یک جمع بنویس.





$$\square + \square = \square$$



$$\square + \square = \square$$




$$\square + \square = \square$$



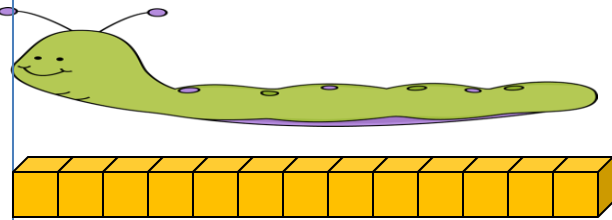
$$\square + \square = \square$$




عددهای ساعت را بنویس.




عدد مناسب بنویس.




اندازه ی کرم کوتاه تر از ..... است. 




اندازه ی بیل کوتاه تر از ..... است. 




تعداد شکل های هر دسته را با چوب خط بشمار و با شکل ها دسته ی ده تایی درست کن و جدول را کامل کن.



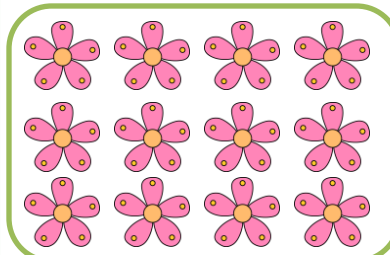
ده تایی	یکی
.....	.....



ده تایی	یکی
.....	.....



ده تایی	یکی
.....	.....



ده تایی	یکی
.....	.....



وبلاگ مهر به یادماندنی - بزرگی ابراهیمی

باتوجه به چوب خط ها شکل بکش و دسته ی ده تایی درست کن. سپس جدول را کامل کن و عدد مربوط به هر دسته را بنویس.

		یکی	
		ده تایی	
		.....	.....

		یکی	
		ده تایی	
		.....	.....

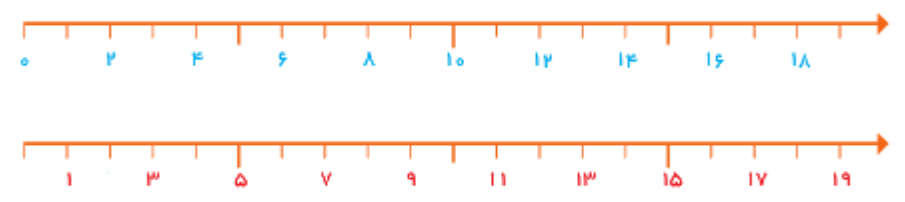
		یکی	
		ده تایی	
		.....	.....

		یکی	
		ده تایی	
		.....	.....



وبلاگ مهر به یادماندنی - بزرگی ابراهیمی

عددهای نوشته نشده ی محورها را بنویس .



در جاهای خالی عددهای نوشته نشده را بنویس .

0				5					9	
11										
		15						17		
					11					

عدد ۰ تا ۱۹ را به ترتیب بنویس .

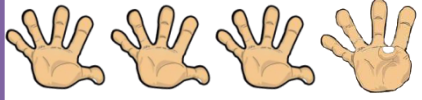
---



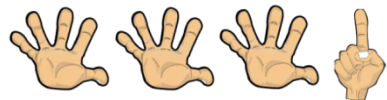
---



دسته ی ده تایی درست کن و دور عدد مناسب خط بکش.



۱۹      ۱۸      ۱۷



۱۴      ۱۵      ۱۶



۱۱      ۱۲      ۱۳



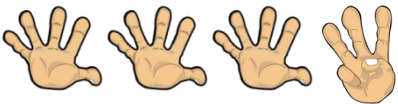
۱۶      ۱۸      ۱۷



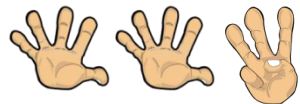
۱۵      ۱۶      ۱۷



۱۲      ۱۴      ۱۰



۱۳      ۱۵      ۱۸



۱۱      ۱۳      ۱۵





۵

تعداد شکل های هر دسته را با توجه به عدد نوشته شده کامل کن.




۱۵



۱۸



۱۲



۱۷



۱۳



۴

وبلاگ مهر به یادماندنی - بزرگی ابراهیمی