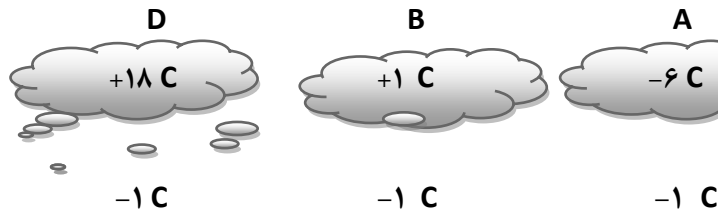


- ۱- جاهای خالی را با کلمات مناسب کامل کنید .  
 الف- به مجموعه ی آب های موجود در اتمسفر و سطح و درون زمین که به صورت جامد مایع و بخار باشد ..... گفته می شود .  
 ب- هنگام وقوع آتشفشانها و زمین لرزه های زیر دریایی امواج بزرگی در دریا ایجاد می شود که به آن ..... گفته می شود .  
 پ- در ایستگاههای هواشناسی برای اندازه گیری و بیان میزان بارندگی از یکای ..... استفاده می شود .  
 ت- وقتی رودخانه در مسیر خود به طور ناگهانی بستر آن دچار ..... شود آبشار تشکیل می شود .

- ۲- در جدول زیر (عوامل موثر بر سرعت آب رودخانه ) پاسخ مناسب هر مورد را با علامت × مشخص کنید .  
 انمره

عوامل موثر بر سرعت آب رودخانه	پوشش گیاهی کم	شیب زمین زیاد	مقدار بارندگی کم	سطح مقطع رود زیاد
سرعت کم				
سرعت زیاد				

- ۳- با توجه به شکل های مقابل به سوالات آن پاسخ دهید .



- الف- در هر یک از شکل های زیر چه نوع بارشی رخ می دهد؟

A (.....) B (.....)

- ب- چرا در شکل D هیچ گونه بارشی رخ نمی دهد؟

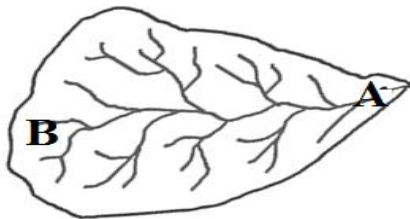
- ج- کدام مورد از بخار آب تشکیل نمی شود؟

(باران - تگرگ - برف)

۲ انمره

- د- بیشترین حجم بارش چه سرنوشتی خواهد داشت؟ (تبخیر می شود - در سطح زمین جاری می شود - در زمین فرو می رود)

- ۴- شکل مقابل کدام پدیده زمین شناسی را نشان می دهد؟



(طرز تشکیل آبشار - حوضه آبریز - ساحل ماسه ای و هموار - دریاچه)

- ب- کدام منطقه از شکل داده شده مناطق پست تر می باشد؟ ( A---B )

انمره

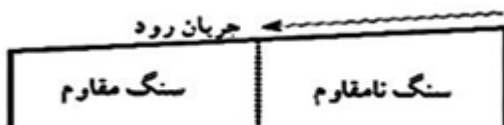
۲ انمره

- ۵- الف- شکل زیر چه پدیده ای را نشان می دهد؟ (جزر - مد)



- ب- علت جذرومد چیست؟

- ج- از جذرومد چه استفاده ای می شود؟ ۲مورد



- د- آیا در شکل زیر امکان تشکیل آبشار وجود دارد؟ .....چرا؟

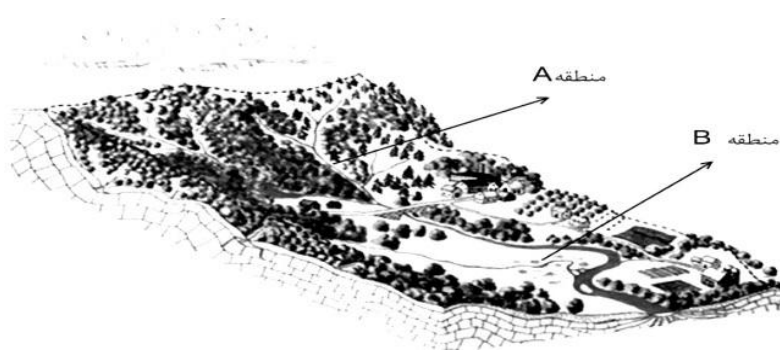
۶- با توجه به شکل زیر به سوالات زیر پاسخ دهید .

الف- مسیر رودخانه در منطقه B چگونه است ؟

ب- سرعت آب رودخانه در کدام منطقه بیشتر است ؟

ج- چگونه می توان از هدر رفتن آب رودخانه ها

جلوگیری کرد ؟ ..... ۱/۵ انمر



۷- جدول زیر را کامل کنید .

نام دریاچه	علت تشکیل
خزر	.....
.....	دهانه آتشفشان
.....	شکستگی قسمتی از سنگ کره

انمره

۸- اگر ظرف های زیر را در باران قرار دهیم :

الف- درون کدام ظرف حجم آب بیشتری جمع می شود ؟

ب- درون کدام ظرف ارتفاع آب بیشتر خواهد بود ؟



انمره ۱

انمره ۲

۹- الف - برای هر یک از دریاچه های زیر دو کاربرد بنویسید .

۱- دریاچه پشت سد امیرکبیر =

۲- دریاچه شهدای خلیج فارس =

ب- شکل هر یک از سواحل زیر را با توجه به نوع سنگهای ساحل تعیین کنید .

۱- جنس سنگ ساحل مقاوم ( ) ۲- جنس سنگ سواحل نرم و نامقاوم ( )

انمره ۱/۵

۱۰- الف- در چه مناطقی یخچال تشکیل می شود ؟

ب- حرکات آب دریا ها به چه صورت هایی می باشد؟ ۱- امواج دریا ۲- ..... ۳- .....

جمع نمرات: ۱۵

موفق باشید - م - تمدن