


۱- گل زیبای من ، عددی را که شکل نشان می دهد در جدول و جاهای خالی بگذار و بخوان و بنویس.



| | |
|-----|---------|
| یکی | ده تایی |
| | |
| | |
| | |

به حروف : به رقم :

۲- با رقم های ۵ و ۷ برای یکان و ۳ و ۴ برای دهگان ، تاجایی که می توانی عدد دورقمی بساز.

$$۵ + ۵ + ۲۰ + ۳۰ = \dots\dots\dots$$

$$۴۰ + ۵ + ۱۰ + ۵ + ۵ = \dots\dots\dots$$

۳- حاصل جمع هارا به دست بیاور.

$$۱۰ + ۵ + ۲۰ + ۵ + ۳ = \dots\dots\dots$$

$$۳ + ۴ + ۱۰ + ۲۰ + ۵ + ۵ = \dots\dots\dots$$

۴- مسئله های زیر را از هراهی که می توانی ، حل کن.

۸ دانش آموز در کلاس بودند. ۶ دانش آموز دیگر به کلاس آمدند ولی ۳ نفر از کلاس رفتند. حالا چند نفر در کلاس هستند؟

۵- علی ۲۳ تا کتاب دارد. ۱۲ تا از آن ها داستان و بقیه علمی است. چند کتاب علمی دارد؟

۵- الگوی عددی زیر را پیدا کن و نوشتن را ادامه بده .
 ۳ ، ۸ ، ۱۳ ، ۱۸ ، ، ،

$$\begin{array}{r} ۲۴ \\ + ۳۳ \\ \hline \end{array}$$

$$\begin{array}{r} ۳۴ \\ - ۲۰ \\ \hline \end{array}$$

۶- جمع و تفریق زیر را با کشیدن شکل حل کن.

۷- ساعت ها چه زمانی را نشان می دهند؟ بنویس.



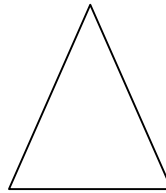


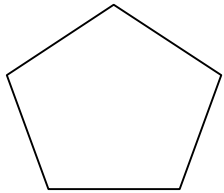
۸- با توجه به زمان نوشته شده ، عقربه های هر ساعت را بکش.



ساعت ۳ و ۴۵ دقیقه است

ساعت ۵ و ۲۳ دقیقه است .

۹- خط تقارن شکل های زیر را رسم کن.




جاهای خالی را هم پر کن.

..... گوشه دارد

..... ضلع دارد


۱۰- حاصل جمع و تفریق های زیر را با استفاده از جدول به دست بیاور.


$$\begin{array}{r} 37 \\ - 14 \\ \hline \end{array}$$

$$\begin{array}{r} 17 \\ + 14 \\ \hline \end{array}$$

***** سوال ویژه *****

مریم ساعت ۳ و ۲۵ دقیقه از خانه خارج شد . ۲۰ دقیقه پیاده روی کرد تا به خانه ی دوستش رسید.



مریم چه ساعتی به خانه ی دوستش رسیده است؟