



## پرسش‌های چهارگزینه‌ای

## ۱- کدام گروه از کشورها در اقتصاد پیشرفته‌ترند؟

- ۱) کشورهایی که درآمد سرانه بالاتری داشته باشند.
- ۲) کشورهایی که از قدرت تولیدی بالاتر و درآمد بیش تری برخوردار باشند.
- ۳) کشورهایی که شاخص رشدیافتگی بالاتری داشته باشند.
- ۴) کشورهایی که درآمد بخش خدمات آن‌ها بیش تر از بخش صنعت و کشاورزی باشد.

## ۲- افزایش قدرت تولیدی در گرو چیست؟

- ۱) در گرو افزایش قدرت تولید شرکت‌های تولیدی و سازوکارهای مناسب برای ایجاد کسب‌وکار و دادوستدهای مناسب
- ۲) ایجاد شرایط همکاری و هم‌افزایش بین بخش‌های مختلف تولیدی و تجاری
- ۳) در گرو افزایش ارزش افزوده و ایجاد زنجیره‌های تولید
- ۴) در ایجاد استفاده از صنایع دانش بنیان و پایه

## ۳- کدام گزینه در رابطه با ویژگی‌های کشورهای پیشرفته نادرست است؟

- ۱) این کشورها معمولاً درآمد و تولید بالایی دارند و درآمد را به صورت عادلانه‌تری توزیع می‌کنند.
- ۲) یک کشور پیشرفته در برابر شوک‌های اقتصادی، قدرت مقاومت دارد، از ثبات نسبی قیمت‌ها و بازارها برخوردار است.
- ۳) این کشورها می‌توانند در شرایط بحرانی نیازهای اولیه خود را تأمین و حتی مازاد آن را صادر کنند.
- ۴) این کشورها از نظر سطح رفاه و بهداشت شرایط مناسبی دارند اما در آن‌ها روحیه اعتماد و همبستگی کم تر به چشم می‌خورد.

## ۴- کدام گزینه به مهم‌ترین مؤلفه‌های پیشرفت اقتصادی اشاره دارد؟

- ۱) تولید ناخالص داخلی، تولید ناخالص ملی و درآمد سرانه
- ۲) تولید ناخالص داخلی، تولید ناخالص ملی و شاخص توزیع عادلانه درآمد
- ۳) رشد اقتصادی، شاخص‌های توسعه انسانی و شاخص توزیع عادلانه درآمد
- ۴) شاخص توزیع عادلانه درآمد، رشد اقتصادی و شاخص تولید ناخالص داخلی

## ۵- باتوجه به مفهوم رشد اقتصادی، پاسخ درست سؤالات زیر در کدام گزینه بیان شده است؟

## الف) معنای رشد (ب) رشد چه نوع مفهومی است؟ (پ) کدام عامل نشان‌دهنده منشأ رشد اقتصادی است؟

- ۱) الف) افزایش کیفیت (ب) مفهومی کمی - کیفی است (پ) افزایش تولید
- ۲) الف) افزایش کیفیت (ب) مفهومی کمی است (پ) افزایش منابع
- ۳) الف) افزایش تولید (ب) مفهومی کمی است (پ) افزایش منابع
- ۴) الف) افزایش تولید (ب) مفهومی کمی - کیفی است (پ) افزایش تولید

## ۶- چگونه می‌توان گفت در جامعه‌ای رشد صورت گرفته است؟

- ۱) اگر در جامعه‌ای میزان تولید در دوره‌ای معین نسبت به دوره قبل افزایش یابد، می‌گوییم در آن جامعه رشد صورت گرفته است.
- ۲) اگر در جامعه‌ای کیفیت محصولات تولیدی نسبت به دوره قبل افزایش یابد، می‌گوییم در آن جامعه رشد صورت گرفته است.
- ۳) چنانچه جامعه‌ای بتواند ظرفیت تولیدی خود را افزایش دهد و درآمد سرانه‌اش نسبت به قبل افزایش یابد، این جامعه رشد کرده است.
- ۴) چنانچه جامعه‌ای بتواند توان‌های بالقوه خود را به تولیدات بالفعل تبدیل کند، می‌گوییم این جامعه رشد کرده است.

## ۷- کدام گزینه دلیل این مطلب است که می‌توان افزایش شاخص رشد یک کشور را با افزایش درآمد آن معادل دانست؟

- ۱) رشد اقتصادی یک مفهوم کمی و کیفی است، پس می‌توان افزایش شاخص رشد را با افزایش درآمد یکسان دانست.
- ۲) کشورها معمولاً با سرمایه‌گذاری بیش تر یا به کارگیری روش‌های بهتر و فناوری مناسب‌تر، ظرفیت تولیدی خود را افزایش می‌دهند و این امر به درآمد بیش تر می‌انجامد.

۳) هر ساله جمعیت کشورها و منابع در دسترس بشر افزایش می‌یابد و این افزایش باعث افزایش ظرفیت تولیدی بنگاه‌های اقتصادی و رشد درآمد سرانه می‌شود.

۴) کشورها معمولاً با سرمایه‌گذاری‌های اجتماعی و زیربنایی باعث افزایش ظرفیت تولیدی خود می‌شوند و به دنبال آن درآمد سرانه نیز رشد می‌کند.

## ۸- افزایش تولید ناشی از افزایش سطح زیرکشت، تأسیس کارخانه‌های جدید و توسعه مراکز تولیدی، مثالی برای «.....» است. زیرا

این واژه صرفاً به معنای افزایش تولید «.....» بنابراین، یک «.....» است. (سراسری ۹۱)

۱) توسعه - نیست - مفهومی کیفی

۲) رشد - نیست - مفهومی کیفی

۳) توسعه - است - مفهومی کمی

۴) رشد - است - مفهومی کمی

## ۹- عبارت زیر در رابطه با کدام گزینه است؟

«اگر جمعیت در طول زمان رشد کند، به طور کلی عرضه نیروی کار هم افزایش می‌یابد. سرمایه‌های فیزیکی کشور می‌تواند با سرمایه‌گذاری در کارخانه‌ها، ساختمان‌ها، ادارات، ماشین‌آلات و مغازه‌ها افزایش یابد. سرمایه انسانی با آموزش افزایش می‌یابد. با منابع در دسترس بیش تر، یک کشور می‌تواند کالا و خدمات بیش تری تولید کند.»



درس یازدهم

«پرسش‌های چهارگزینه‌ای»

۱۰- چه تعداد از موارد زیر، معیاری برای سنجش رشد است؟

الف) گسترش و توسعه مراکز تولیدی

ب) استفاده بهتر از امکانات و منابع

۱) سه ۲) یک ۳) دو ۴) چهار

ب) بهبود توزیع درآمد

ت) دسترسی به ارتباطات و فناوری اطلاعات

۴) چهار

۳) دو

۲) یک

۱) سه

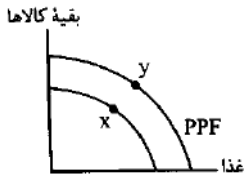
۱۱- کدام گزینه در رابطه با نمودار مقابل درست است؟

۱) در نقطه X بالاترین حد تولید شکل گرفته است.

۲) نقطه Y نشان‌دهنده افزایش غذا و کاهش دیگر کالاهاست.

۳) نقطه Y نشان‌دهنده افزایش دیگر کالاها و کاهش غذا است.

۴) نقطه Y نشان‌دهنده رشد اقتصادی است.



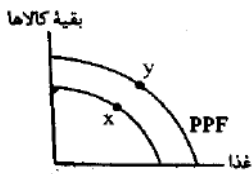
۱۲- با توجه به نمودار مقابل، چگونه نقطه X به نقطه Y حرکت کرده است؟

۱) کشور با استفاده از منابع جدید خود توانسته است مقدار تولید غذا را افزایش دهد ولی در مقدار تولید کالاهای دیگر موفق نبوده است.

۲) با صرفه‌جویی، سرمایه‌گذاری بیش تری انجام شده با گذشت زمان، ظرفیت تولیدی توسعه یافته است و مرز امکانات تولید به سمت راست و بالا منتقل شده.

۳) این حرکت نشان‌دهنده رابطه معکوس بین بهره‌وری و تولید کالاهاست.

۴) این حرکت نشان‌دهنده توسعه کیفی تولید در دو بخش غذا و سایر کالاهاست.



۱۳- در چه صورت منحنی PPF به سمت راست و بالا حرکت می‌کند؟

۱) کاهش تولید در بخش‌های غیر ضروری

۲) افزایش تولید در بخش‌های ضروری و کاهش آن در بخش‌های دیگر

۳) حرکت کشور در جهت رشد اقتصادی

۴) بهبود شرایط انسانی و افزایش شاخص‌های PPP

۱۴- کدام گزینه در رابطه با رشد اقتصادی نادرست است؟

۱) رشد اقتصادی به کشور امکان می‌دهد تا غذا و کالاهای دیگر بیش تر و بیش تری را تولید و مصرف کند.

۲) رشد اقتصادی باعث حرکت منحنی PPF به سمت راست و بالا می‌شود.

۳) رشد اقتصادی یک هدف مشترک است، زیرا کشور را قادر می‌سازد کالاها و خدمات بیش تری تولید کند.

۴) هر کشوری برای این که از مواهب رشد اقتصادی بهره ببرند، باید از افزایش تولید چشم‌پوشی کند.

۱۵- چرا رشد اقتصادی یک مفهوم مشترک است؟

۱) زیرا کشور را قادر می‌سازد کالاها و خدمات بیش تری تولید کند و گام مؤثری برای تأمین نیازها و خواسته‌های شهروندان خود بردارد.

۲) زیرا رشد اقتصادی یک جهش کمی است و این جهش افزایش کیفیت را در بلندمدت به همراه می‌آورد.

۳) چون رشد اقتصادی باعث افزایش شاخص‌های توسعه انسانی (HDI) می‌شود که یک هدف بلندمدت است.

۴) چون رسیدن به رشد اقتصادی یعنی توزیع عدلانه ثروت و فرصت‌های اقتصادی برای تمام آحاد مردم

۱۶- در کدام گزینه رابطه درست رشد اقتصادی و هزینه نشان داده شده است؟

۱) رشد اقتصادی هیچ رابطه‌ای با هزینه فرصت ندارد.

۲) هزینه فرصت با رشد اقتصادی یک رابطه مستقیم دارند.

۳) هزینه فرصت معادل شکل‌گیری رشد اقتصادی است.

۴) برای رسیدن به رشد اقتصادی باید هزینه فرصت را در نظر گرفت.

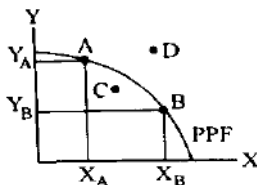
۱۷- در رابطه با نمودار مقابل کدام گزینه درست است؟

۱) نقطه A نشان‌دهنده رسیدن به رشد اقتصادی از موقعیت B است.

۲) نقطه B نشان‌دهنده رسیدن به رشد اقتصادی از موقعیت A است.

۳) نقطه C نشان‌دهنده رسیدن به رشد اقتصادی است.

۴) نقطه D نقطه‌ای است که برای رسیدن به آن باید از ظرفیت‌های تولیدی جدید استفاده کرد.



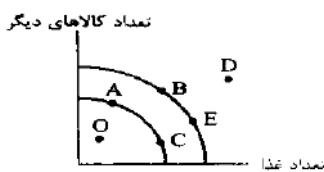
۱۸- با توجه به نمودار مقابل کدام نقطه به ترتیب دستیابی به رشد اقتصادی و کدام نقطه دستیابی به کارایی را نشان می‌دهد؟

۱) حرکت از A به B - حرکت از E به A

۲) حرکت از E به B - حرکت از D به E

۳) حرکت از B به A - حرکت از C به O

۴) حرکت از C به E - حرکت از O به A



۱۹- اقتصاددانان برای اندازه‌گیری رشد، چگونه عمل می‌کنند؟

۱) برای اندازه‌گیری رشد به بهبود شاخص‌های (HDI) توجه می‌شود.

۲) برای اندازه‌گیری رشد، به میزان رشد تولیدات یک کشور در طول سال می‌نگرند.

۳) رشد اقتصادی را با PPP اندازه‌گیری می‌کنند.

۴) رشد اقتصادی را با PPF اندازه‌گیری می‌کنند.

۲۰- کدام گزینه در رابطه با عبارت «ارزش پولی همه کالاها و خدمات نهایی تولید شده در داخل مرزهای یک کشور در طول یک سال است» درست است؟



درس یازدهم

«پرستش‌های چهارگزینه‌ای»

۲۱- کدام گزینه در رابطه با درآمد داخلی و درآمد سرانه درست است؟

- (۱) درآمد داخلی، مجموع درآمدهایی است که در طول سال برای کشور به دست می‌آید. درآمد سرانه، با تقسیم درآمد داخلی به جمعیت کشور به دست می‌آید.
- (۲) درآمد داخلی، مجموع درآمدهایی است که تمام مردم ایران در طول یک سال به دست می‌آورند. درآمد سرانه، با تقسیم تولید ناخالص داخلی به جمعیت کشور به دست می‌آید.
- (۳) درآمد داخلی، مجموع درآمدهایی است که در طول سال برای کشور به دست می‌آید. درآمد سرانه، از ضرب تولید کل در جمعیت به دست می‌آید.
- (۴) درآمد داخلی، مجموع درآمدهایی است که تمام مردم ایران در طول یک سال به دست می‌آورند. درآمد سرانه، از ضرب تولید کل در جمعیت به دست می‌آید.

۲۲- پنج کلید واژه مهم که در تعریف تولید ناخالص داخلی به کار می‌رود، در کدام گزینه آمده است؟

- (۱) ارزش پولی - همه کالاها و خدمات - نهایی - واسطه‌ای - درون مرزهای یک کشور
- (۲) کالاها و خدمات نهایی - تمام مردم یک ملت - درون مرزهای یک کشور - واسطه‌ای
- (۳) کالا و خدمات نهایی - تمام مردم یک ملت - در یک سال - واسطه‌ای - مشروعیت
- (۴) ارزش پولی - همه کالاها و خدمات - نهایی - درون مرزهای کشور - در یک سال

۲۳- کدام گزینه به مفهوم «ارزش پولی» اشاره دارد؟

- (۱) ارزش پولی به برابری نرخ ارزهای خارجی به پول ملی اشاره دارد.
- (۲) برای اندازه‌گیری تولید کشور، نیاز به یک واحد مشترک داریم.
- (۳) به برابری واحد پول کشور به دلار آمریکا، ارزش پولی گفته می‌شود.
- (۴) ارزش پولی یعنی، برابری یک کالا به واحد پول ملی

۲۴- کدام یک از فعالیت‌های زیر در تولید ناخالص داخلی مورد محاسبه و سنجش قرار نمی‌گیرد؟

- (الف) فعالیت تولیدی زنان در مزرعه‌ها
- (ب) تعمیر جاروبرقی منزل توسط تعمیرکار
- (پ) فعالیت زنان خانه‌دار در خانه
- (ث) تولید قطعات خودرو در کارخانه

- (۱) ب، پ و ت (۲) الف، ت و ث (۳) پ، ت و ث (۴) الف، ب و ت

۲۵- چرا ارزش کالاها و خدمات واسطه‌ای، در تولید ناخالص داخلی (GDP) محاسبه نمی‌شود؟

- (۱) چون از میزان ارزش کالاهای واسطه‌ای اطلاع دقیقی در دست نداریم.
- (۲) چون کالاها و خدمات واسطه‌ای همگی در تولیدات نهایی در نظر گرفته می‌شوند.
- (۳) چون اگر ارزش کالاها و خدمات واسطه‌ای را محاسبه کنیم، ارزش نهایی کالاها و خدمات کاهش می‌یابد.
- (۴) چون کالاها و خدمات واسطه‌ای برابر با ارزش کالاها و خدمات نهایی است.

۲۶- در محاسبه تولید ناخالص داخلی، کدام گزینه را محاسبه نمی‌کنیم؟

- (۱) تولید ایرانیانی که در خارج فعالیت می‌کنند.
- (۲) تولید خارجیانی که در ایران فعالیت می‌کنند.
- (۳) تولید مردم ایران که در داخل کشور هستند.
- (۴) تولید کالاها و خدمات نهایی که در داخل کشور هستند.

۲۷- کدام گزینه در محاسبات تولید ناخالص داخلی منظور می‌شود؟

- (۱) تولید شرکت‌های خارجی که در ایران فعالیت می‌کنند.
- (۲) خرید و فروش کالاهای دست دوم از جمله خودرو، مبلمان و ...
- (۳) تولیدات اقتصاد زیرزمینی، غیرقانونی و قاچاق
- (۴) فعالیت اقتصادی سفارتخانه‌های ایران در خارج از کشور

۲۸- در یک جامعه فرضی کالاهای زیر در مدت یک سال تولید شده است. با توجه به رقم این تولیدات، تولید ناخالص داخلی و تولید خالص داخلی به ترتیب از «راست به چپ» کدام است؟

(سراسری ۸۵)

(الف) موادغذایی: ۵۰ تن، از قرار هر تن: ۳,۰۰۰,۰۰۰ ریال

(ج) پوشاک: ۱۵۰۰ عدد از قرار هر عدد: ۵۰,۰۰۰ ریال

(ه) هزینه «استهلاک»:  $\frac{1}{25}$  ارزش ماشین‌آلات

(۱) ۲,۷۲۵ میلیون ریال - ۲,۵۷۵ میلیون ریال

(۳) ۳,۷۶۵ میلیون ریال - ۲,۶۶۵ میلیون ریال

۲۹- در یک جامعه فرضی در مدت یک سال کالاهای زیر تولید شده است. با توجه به ارزش کالاهای مذکور و سایر داده‌ها: (خارج از کشور ۹۰)

A	ارزش ماشین‌آلات	۳۶۰۰,۰۰۰,۰۰۰ ریال
B	ارزش پوشاک	۸۱,۰۰۰,۰۰۰ ریال
C	ارزش موادغذایی	۱۸۰,۰۰۰,۰۰۰ ریال
D	خدمات ارائه شده	$\frac{1}{9}$ ارزش پوشاک

(الف) تولید خالص داخلی  
(ب) تولید ناخالص داخلی، در این کشور به ترتیب (از راست به چپ) چند میلیون ریال است؟

(۱) ۳۶۷۰ - ۳۸۷۰ (۲) ۳۷۶۰ - ۳۸۷۰

(۳) ۳۶۷۰ - ۳۷۸۰ (۴) ۳۷۶۰ - ۳۸۷۰

۳۰- در کشوری کالاهای زیر در مدت یکسال تولید شده است. باتوجه به ارزش کالاهای مذکور و داده‌های دیگر، به ترتیب (از راست به چپ):

A	ارزش ماشین‌آلات	۲,۸۰۰,۰۰۰,۰۰۰
B	ارزش پوشاک	۹۵,۰۰۰,۰۰۰
C	ارزش موادغذایی	۲۵۰,۰۰۰,۰۰۰
D	خدمات ارائه شده	$\frac{1}{5}$ ارزش موادغذایی
E	هزینه استهلاك	$\frac{1}{14}$ ارزش ماشین‌آلات

الف) تولید خالص داخلی  
 ب) تولید ناخالص داخلی این کشور کدام است؟ (ارقام به میلیارد است)  
 (۱) ۲,۵۱۹ - ۲,۹۹۵ (۲) ۳,۱۹۵ - ۲,۹۹۵  
 (۳) ۳,۱۵۱ - ۳,۰۰۵ (۴) ۳,۵۱۱ - ۳,۰۵۰

۳۱- مندرجات جدول زیر مربوط به اطلاعات استخراجی از حساب‌های ملی کشوری در سال جاری است. باتوجه به داده‌های مذکور، سهم تولید خارجی‌ان مقیم کشور کدام است؟ (ارقام به میلیارد ریال است)

۱	تولید ناخالص ملی	۲۵۵
۲	سهم تولید مردم مقیم در خارج	۱۵
۳	تولید ناخالص داخلی	۳۵۰

(۱) ۱۰ (۲) ۱۱ (۳) ۱۲ (۴) ۱۴

۳۲- جدول زیر مبین اقلام مختلف درآمدی است که در طول یکسال نصیب اعضای یک جامعه فرضی شده است و جمعیت کل این جامعه ۷۵ میلیون نفر می‌باشد. در این صورت

الف) کدام ردیف جدول، قیمت خدمات سرمایه و کدام ردیف، اجاره‌بها یا وجوه مربوط به اجاره است؟

ردیف	اقلام درآمدی	ارزش
۱	درآمد حقوق بگیران	$\frac{1}{4}$ سود شرکت‌ها و مؤسسات
۲	درآمد صاحبان املاک و مستغلات	$\frac{2}{5}$ درآمد صاحبان سرمایه
۳	درآمد صاحبان مشاغل آزاد	۲۴۹,۳۹۶,۲۰۰ ریال
۴	دستمزدها	$\frac{1}{3}$ درآمد صاحبان املاک و مستغلات
۵	درآمد صاحبان سرمایه	۶۸۴,۲۲۵,۰۰۰ ریال
۶	سود شرکت‌ها و مؤسسات	۶۹۸,۹۵۸,۰۰۰ ریال

ب) میزان درآمد ملی این جامعه، کدام است؟  
 پ) درآمد سرانه آن چقدر است؟  
 د) معنا و مفهوم سرانه چیست؟

- (۱) الف) ردیف ۲ و ردیف ۵ (ب) ۲,۳۳۹,۱۷۲,۲۰۰ (ج) ۲۸,۱۸۹,۹۶۳ (د) سهم متوسط هر فرد جامعه در میزان درآمد آن جامعه  
 (۲) الف) ردیف ۲ و ردیف ۵ (ب) ۲,۳۳۹,۱۷۲,۲۰۰ (ج) ۲۸,۹۶۳,۱۸۹ (د) سهم متوسط هر فرد جامعه در میزان تولید و درآمد آن جامعه  
 (۳) الف) ردیف ۵ و ردیف ۲ (ب) ۲,۱۷۲,۳۳۹,۲۰۰ (ج) ۲۸,۹۶۳,۱۸۹ (د) سهم متوسط هر فرد جامعه در میزان درآمد و تولید آن جامعه  
 (۴) الف) ردیف ۵ و ردیف ۲ (ب) ۲,۱۷۲,۳۳۹,۲۰۰ (ج) ۲۸,۱۸۹,۹۶۳ (د) سهم متوسط هر فرد جامعه در میزان تولید آن جامعه

۳۳- جدول زیر، مشتمل بر اقلام مختلف درآمدی است که در طول یکسال نصیب یک جامعه فرضی شده است، باتوجه به مندرجات این جدول:

ردیف	اقلام درآمدی	ارزش
۱	درآمد صاحبان املاک و مستغلات	۶۵۶ میلیارد ریال
۲	سود شرکت‌ها و مؤسسات	$\frac{2}{3}$ درآمد صاحبان سرمایه
۳	درآمد حقوق بگیران	$\frac{2}{6}$ مجموع درآمد ردیف‌های ۱ و ۶
۴	درآمد صاحبان سرمایه	۶۹۶ میلیارد ریال
۵	درآمد صاحبان مشاغل آزاد	$\frac{1}{3}$ مجموع درآمد ردیف‌های ۴ و ۶
۶	دستمزدها	۴۶۶ میلیارد ریال
۷	جمعیت کل کشور	۵۰ میلیون نفر

الف) کدام ردیف جدول، قیمت خدمات سرمایه و کدام ردیف، اجاره‌بها یا مال‌الاجاره است؟  
 ب) درآمد ملی این جامعه، چقدر است؟  
 ج) درآمد سرانه آن کدام است؟  
 د) مفهوم و معنای سرانه چیست؟  
 «قابل توجه درآمد کارکنان و کارگران موضوع ردیف‌های ۳ و ۶ به تفکیک منظور شده است.»

- (۱) الف) ردیف ۱ ردیف ۴ (ب) ۳۰۴۳ (ج) ۶۰/۶۸ (د) سهم متوسط هر فرد جامعه در میزان درآمد آن جامعه  
 (۲) الف) ردیف ۱، ردیف ۴ (ب) ۳۰۳۴ (ج) ۶۰/۶۸ (د) سهم متوسط هر فرد جامعه در میزان تولید آن جامعه

۳۴- مهم ترین دلیل برای اندازه گیری تولید ناخالص داخلی چیست؟

- (۱) نظارت بر تغییرات قیمت در طول زمان است.  
 (۲) نظارت بر تغییرات تولید در طول زمان است.  
 (۳) رسیدن به بهره‌وری است.  
 (۴) به دست آوردن شاخص تولید است.
- ۳۵- جدول زیر، بیانگر اقلام درآمدی است که در طول یک سال نصیب یک جامعه فرضی شده است، چنانچه جمعیت کل این جامعه ۵۰ میلیون نفر باشد، در این صورت:
- (الف) درآمد ملی این جامعه، چقدر است؟  
 (ب) درآمد سرانه آن کدام است؟  
 (پ) مفهوم و معنای سرانه چیست؟  
 قابل توجه: درآمد کارکنان و کارگران موضوع ردیف‌های ۴ و ۵ به تفکیک محاسبه شده است؟

ردیف	اقلام درآمدی	ارزش
۱	درآمد صاحبان سرمایه	۹۸۹۷ میلیارد ریال
۲	درآمد صاحبان مشاغل آزاد	$\frac{1}{3}$ مجموع درآمد ردیف‌های ۱ و ۶
۳	سود شرکتها و مؤسسات	$\frac{2}{3}$ درآمد صاحبان سرمایه
۴	دستمزد	۶۴۴۲ میلیارد ریال
۵	درآمد حقوق بگیران	$\frac{1}{8}$ مجموع درآمد ردیف‌های ۴ و ۶
۶	درآمد صاحبان املاک و مستغلات	۸۸۵۶ میلیارد ریال

- (۱) الف) ۶۸۶۴۰ (ب) ۱۳۷۲۸ (پ) سهم متوسط هر فرد جامعه در میزان درآمد یا تولید آن جامعه  
 (۲) الف) ۶۸۶۴۰ (ب) ۱۲۷۳۸ (پ) سهم متوسط هر فرد جامعه در میزان تولید و درآمد آن جامعه  
 (۳) الف) ۶۴۸۶۰ (ب) ۱۳۷۲۸ (پ) سهم متوسط هر فرد در میزان تولید آن جامعه  
 (۴) الف) ۶۴۸۶۰ (ب) ۱۳۷۳۸ (پ) سهم متوسط هر فرد در میزان درآمد آن جامعه

۳۶- چرا فعالیت‌های غیرقانونی و زیرزمینی را در محاسبه تولید ناخالص داخلی نمی‌آوریم؟

- (۱) چون این فعالیت‌ها در زمره فعالیت‌های واسطه‌ای قرار می‌گیرد و محاسبه آن‌ها یعنی مشروعیت دادن به آن‌ها  
 (۲) چون این فعالیت‌ها در زمره فعالیت‌های واسطه‌ای قرار می‌گیرد میزان تولید داخلی را به اشتباه دوبار محاسبه می‌کند.  
 (۳) چون اطلاع دقیقی از آن‌ها در دست نیست و میزان تولید ناخالص داخلی را به اشتباه دوبار محاسبه می‌کند.  
 (۴) چون اطلاع دقیقی از آن‌ها در دست نیست و عملاً محاسبه آن‌ها مشروعیت بخشی به این گونه فعالیت‌ها تلقی می‌شود.
- ۳۷- باتوجه به اطلاعات جدول زیر کدام گزینه پاسخ درست سؤالات است؟ (سال پایه، سال ۹۵ است).

	سال ۹۵		سال ۹۶		سال ۹۷	
	مقدار	قیمت	مقدار	قیمت	مقدار	قیمت
کالا	۸۰	۱۰۰	۸۵	۱۵۰	۱۰۰	۳۰۰
خدمات	۹۰	۲۰۰	۹۵	۲۵۰	۱۱۰	۴۰۰

الف) DGP واقع در سال ۱۳۹۶ چقدر است؟

ب) GDP اسمی در سال ۱۳۹۷ چقدر است؟

پ) نرخ رشد سال ۹۶ چقدر است؟

(۱) الف) ۳۶۵۰۰ (ب) ۶۰۰۰۰ (پ) ۳۲ درصد

(۲) الف) ۳۶۵۰۰ (ب) ۷۴۰۰۰ (پ) ۴۰ درصد

(۳) الف) ۳۴۵۰۰ (ب) ۷۴۰۰۰ (پ) ۴۰ درصد

(۴) الف) ۳۴۵۰۰ (ب) ۶۰۰۰۰ (پ) ۳۲ درصد

۳۸- باتوجه به جدول زیر کدام گزینه پاسخ درست سؤالات است؟ (سال پایه ۹۸، سال پایه است)

الف) GDP واقعی سال ۹۹

ب) GDP اسمی سال ۹۹

(۱) الف) ۱۰۵۰۰۰ (ب) ۱۴۳۰۰۰

سال ۹۸		سال ۹۹	
مقدار	قیمت	مقدار	قیمت
۷۰	۵۰۰	۷۰	۷۰۰
۸۰	۸۰۰	۹۰	۹۰۰

۳۹- باتوجه به اطلاعات مندرج در جدول زیر، به ترتیب «از راست به چپ»:

(الف) تولیدکل ناخالص داخلی به قیمت‌های «اسمی»، در سال ۱۳۹۰ (ب) تولید کل ناخالص داخلی به قیمت‌های «واقعی» در سال ۱۳۹۰

کالا	سال ۱۳۸۹		سال ۱۳۹۰	
	قیمت	مقدار	قیمت	مقدار
A	۱۰۰	۵۰	۱۵۰	۲۵
B	۲۰	۱۵۰	۵۰	۳۰۰

- ۱۳۹۰ کدام است؟
- (۱) الف) ۱۸۷۵۰ (ب) ۸۵۰۰  
 (۲) الف) ۱۸۵۰ (ب) ۸۰۵۰  
 (۳) الف) ۱۷۸۰ (ب) ۸۵۰۰  
 (۴) الف) ۱۸۷۵۰ (ب) ۸۰۵۰

۴۰- باتوجه به اطلاعات مندرج در جدول زیر، به ترتیب «از راست به چپ»:

(الف) تولید ناخالص داخلی به قیمت «اسمی» در سال ۱۳۹۲ (ب) تولید ناخالص داخلی به قیمت «واقعی» در سال ۱۳۹۲ کدام است؟

کالا	سال ۱۳۹۰		سال ۱۳۹۲	
	قیمت	مقدار	قیمت	مقدار
A	۳۰۰	۱۵۰	۴۰۰	۷۵
B	۶۰	۴۰۰	۱۲۰	۷۰۰

- (۱) الف) ۱۱۴۰۰۰ (ب) ۶۵۴۰۰  
 (۲) الف) ۱۱۴۰۰۰ (ب) ۶۴۵۰۰  
 (۳) الف) ۱۴۱۰۰۰ (ب) ۶۴۵۰۰  
 (۴) الف) ۱۴۱۰۰۰ (ب) ۶۵۴۰۰

۴۱- اطلاعات مندرج در جدول زیر مربوط به یک کشور فرضی در سه سال پیاپی است. در صورتی که میزان تورم در سال دوم و سوم به ترتیب ۴۸۷ و ۱۰۲۰ هزار میلیارد باشد در این صورت: (سراسری ۹۹)

سال	۱۳۷۱	۱۳۷۲	۱۳۷۳
تولیدکل	۳۹۰۰	۵۰۳۴	?
ارزش تولید کل به قیمت اسمی	۳۹۰۰	?	۸۳۹۰
ارزش تولید کل به قیمت ثابت	۳۹۰۰	?	۸۳۹۰

- الف) ارزش تولیدکل در سال دوم و سوم، کدام است؟  
 ب) مقدار افزایش تولید کل در سال دوم و سوم، کدام است؟
- (۱) الف) ۴۶۴۷-۹۴۱۰ (ب) ۷۴۷-۴۴۹۰  
 (۲) الف) ۵۴۲۱-۹۴۱۰ (ب) ۱۵۲۱-۴۴۹۰  
 (۳) الف) ۴۶۴۷-۷۳۷۰ (ب) ۷۳۷۰-۳۴۷۰  
 (۴) الف) ۵۴۲۱-۷۳۷۰ (ب) ۷۳۷۰-۳۴۷۰

۴۲- باتوجه به اطلاعات مندرج در جدول زیر و با فرض این که تنها دو کالای A و B در کشور تولید می‌شود، به ترتیب از «راست به چپ»:

(الف) تولید ناخالص داخلی در سال «۱۳۹۰» کدام است؟  
 (ب) تولید ناخالص داخلی واقعی در سال «۱۳۹۵» کدام است؟

(پ) نرخ رشد اقتصادی واقعی (رشد در میزان تولید) در سال ۱۳۹۵ نسبت به سال ۱۳۹۰ تقریباً چند درصد است؟ (سال ۱۳۹۰ به عنوان سال پایه در نظر گرفته می‌شود.)

کالا	سال ۱۳۹۰		سال ۱۳۹۵	
	قیمت (ریال)	مقدار (کیلو)	قیمت (ریال)	مقدار (کیلو)
A	۲۰۰	۳۵۰	۲۵۰	۲۰۰
B	۷۵	۵۰۰	۱۰۰	۸۰۰

- (۱) الف) ۱۰۷,۵۰۰ ریال- (ب) ۱۰۰,۰۰۰ ریال- (پ) ۷- %  
 (۲) الف) ۱۰۰,۰۰۰ ریال- (ب) ۱۰۷,۵۰۰ ریال- (پ) ۷+ %  
 (۳) الف) ۱۰۷,۵۰۰ ریال- (ب) ۱۳۰,۰۰۰ ریال- (پ) ۵- %  
 (۴) الف) ۱۳۰,۰۰۰ ریال- (ب) ۱۳۷,۵۰۰ ریال- (پ) ۵+ %

۴۳- باتوجه به اطلاعات مندرج در جدول زیر: (سال ۱۳۹۰ سال پایه است).

کالا	سال ۱۳۹۰		سال ۱۳۹۱		سال ۱۳۹۲	
	قیمت به میلیارد دلار	مقدار به کیلو	قیمت به میلیارد دلار	مقدار به کیلو	قیمت به میلیارد دلار	مقدار به کیلو
A	۵۰	۱۰۰	۵۵	۱۲۰	۶۰	۱۲۵
B	۳۰	۵۰	۲۵	۷۰	۳۵	۶۰

(الف) GDP واقعی در سال ۱۳۹۱، ..... میلیارد دلار است. (ب) GDP اسمی در سال ۱۳۹۲، ..... میلیارد دلار است.

(پ) نرخ رشد سال ۹۱ چه قدر است؟

- (۱) الف) ۸۱۰۰- (ب) ۹۶۰۰- (پ) ۲۴ %  
 (۲) الف) ۸۳۵۰- (ب) ۸۰۵۰- (پ) ۲۸ %  
 (۳) الف) ۸۳۵۰- (ب) ۸۰۵۰- (پ) ۲۳ %  
 (۴) الف) ۸۱۰۰- (ب) ۹۶۰۰- (پ) ۲۴ %

۴۴- انواع تولیدات یک کشور در شرق آسیا به دو گروه A و B تقسیم می‌شود. میزان تولید هر کدام و میانگین قیمت هر واحد از آن ه جدول زیر آورده شده است. اگر سال ۱۳۹۰ سال پایه باشد و GDP اسمی سال ۹۱،۰۰۰ واحد پولی محاسبه شده باشد: الف) میانگین قیمت تولید هر واحد از گروه B در سال ۱۳۹۱ چند واحد پولی است؟ ب) تولید ناخالص داخلی واقعی سال ۱۳۹۱ چه قدر است؟

کالا	میانگین سال ۱۳۹۰		میانگین سال ۱۳۹۱	
	مقدار	قیمت	مقدار	قیمت
A	۱۵۰ واحد پولی	۷۵ کیلو	۲۰۰ واحد پولی	۴۵ کیلو
B	۱۰۰ واحد پولی	۴۰۰ کیلو	؟	۳۵۰ کیلو

۱) الف) (۲۱۰-ب) ۵۱۰۰۰ (۲) الف) (۱۲۰-ب) ۴۱۷۵۰ (۳) الف) (۲۱۰-ب) ۵۱۰۰۰ (۴) الف) (۱۲۰-ب) ۴۱۷۵۰

۴۵- کدام گزینه در رابطه با کشوری که از لحاظ میزان درآمد و تولید ناخالص داخلی وضعیت مطلوبی دارد درست است؟

- ۱) در رابطه با رشد شاخص‌های توسعه انسانی وضعیت مطلوبی دارد. ۲) در رابطه با توزیع ثروت عادلانه پیشرفت خوبی داشته است. ۳) این کشور، کشوری توسعه یافته محسوب می‌شود. ۴) در زمینه رشد ثروت، پیشرفت خوبی داشته است.

۴۶- کدام گزینه نادرست است؟

- ۱) اقتصاددانان به ما می‌گویند که شاخص‌های مربوط به رشد کمی اقتصاد و افزایش تولید ناخالص به تنهایی نمی‌تواند نشان دهنده میزان پیشرفت یک کشور باشد. ۲) بسیاری از کشورهایی که دارای رشد درآمد بالایی هستند، نظیر چین و آمریکا، گرفتار نابرابری درآمد. ۳) یکی از شاخص‌های سنجش وضعیت توزیع درآمد، شاخص درآمد سرانه است. ۴) پیشرفت کشور فقط محدود به رشد کمی آن، یعنی افزایش تولید ناخالص داخلی نیست.

۴۷- کدام گزینه پاسخ درست سؤالات زیر است؟

الف) از این شاخص برای نشان دادن پیشرفت‌هایی که در زمینه عدالت اقتصادی روی داده است، استفاده می‌شود.

ب) برای محاسبه شاخص توزیع درآمد، جمعیت چگونه در دهک‌ها تقسیم می‌شود؟

پ) به ترتیب کم ترین و بیش ترین درآمد در کم دهک‌ها جای می‌گیرد؟

۱) الف) GDP ب) جمعیت در هر دهک به نسبت درآمد آن یکسان است پ) دهک اول، دهک دهم

۲) الف) دهک‌ها ب) در هر دهک ۱۰ درصد جمعیت جای می‌گیرد پ) دهک دهم، دهک اول

۳) الف) دهک‌ها ب) در هر دهک ۱۰ درصد جمعیت جای می‌گیرد پ) دهک اول، دهک دهم

۴) الف) GDP ب) در هر دهک ۱۰ درصد جمعیت جای می‌گیرد پ) دهک دهم، دهک اول

۴۸- سهم دهک‌های اول، دوم و دهم کشوری در یک سال از درآمد ملی به ترتیب ۲، ۶ و ۲۴ درصد بوده، شاخص وضعیت توزیع درآمد بین مردم آن کشور، «چه عددی» است؟

۱) ۳ (۲) ۴ (۳) ۶ (۴) ۱۲

۴۹- در کشوری، نسبت‌های سهم دهک دهم به دهک اول جامعه از درآمد ملی در سال‌های ۸۱، ۸۲، ۸۳، ۸۴ به ترتیب ۷/۵، ۶، ۵/۵، ۵ محاسبه شده: وضع توزیع درآمد این کشور در «چه سالی» مناسب تر بوده است؟

۱) ۸۴ (۲) ۸۳ (۳) ۸۲ (۴) ۸۱

۵۰- جدول وضعیت توزیع درآمد یک کشور در سال گذشته سهم دهک اول را ۶ و دهک دهم را ۲۴ درصد نشان داده، برای ثابت ماندن عدد شاخص توزیع درآمد در سال جاری، اگر سهم دهک دهم برابر ۲۰ درصد شود، سهم دهک اول باید «چند درصد» باشد؟

۱) ۴ (۲) ۵ (۳) ۶ (۴) ۷

۵۱- اگر شاخص دهک‌ها در جدول توزیع درآمد ایران در سال ۱۳۷۷ مقدار ۵/۷۵ باشد، در چه صورتی وضعیت توزیع درآمد بهتر نشان داده می‌شود؟

۱) در صورت افزایش عدد ۵/۷۵ (۲) در صورت ثابت ماندن ۵/۷۵ (۳) در صورت کاهش ۵/۷۵ (۴) ارتباطی به شاخص ۵/۷۵ ندارد.

مربوط به سال ۱۹۹۸ میلادی جدول وضعیت توزیع درآمد در کشور (A)	
سهم دهک اول	؟
سهم دهک دوم	۵ درصد
سهم دهک سوم	۶ درصد
سهم دهک چهارم	۷ درصد
سهم دهک پنجم	؟
سهم دهک ششم	۹ درصد
سهم دهک هفتم	۱۰/۵ درصد
سهم دهک هشتم	۱۲/۵ درصد

۵۲- اطلاعات جدول مقابل، بیانگر وضعیت توزیع درآمد در کشور A مربوط به سال ۱۹۹۸ میلادی براساس «شاخص دهک‌ها» است. چنانچه تفاوت سهام «دهک اول و سوم» ۳ درصد، تفاوت سهام «دهک پنجم و هفتم» ۲/۵ درصد، تفاوت سهام «دهک نهم و پنجم» ۷ درصد و تفاوت سهام «دهک دهم و اول» ۲۱ درصد باشد. در این صورت سهم «دهک اول»، «دهک پنجم»، «دهک نهم» و «دهک دهم» چند درصد است؟ (سراسری ۹۰)

۱) سه- هشت-پانزده- بیست و چهار

۲) سه- هشت- چهارده و نیم- بیست و چهار و نیم

۳) دو و نیم- هشت و نیم- پانزده- بیست و چهار

۴) دو و نیم- هشت و نیم- چهارده و نیم- بیست و چهار و نیم

سهم دهک اول	۷ درصد
سهم دهک دوم	۷/۵ درصد
سهم دهک سوم	۸ درصد
سهم دهک چهارم	؟
سهم دهک پنجم	؟
سهم دهک ششم	؟
سهم دهک هفتم	؟
سهم دهک هشتم	۱۱ درصد
سهم دهک نهم	۱۲/۵ درصد
سهم دهک دهم	۱۶/۵ درصد
۱۰۰ درصد جمعیت کشور	۱۰۰ درصد درآمد ملی کشور

۵۳- اطلاعات مندرج در جدول مقابل، نشانگر وضعیت توزیع درآمد در کشور C در سال ۱۹۷۹ میلادی براساس «شاخص دهک‌ها» است چنانچه: تفاوت سهام «دهک اول و چهارم»: ۱/۵ درصد، تفاوت سهام «دهک دوم و پنجم»: ۲ درصد، تفاوت سهام «دهک ششم و نهم»: ۳ درصد و تفاوت سهام «دهک هفتم و دهم»: ۶/۵ درصد، سهام «دهک‌های چهارم، پنجم، ششم و هفتم» به ترتیب چند درصد است؟ (سراسری ۹۲ و ۹۶)

- (۱) هفت و نیم - هشت و نیم - نه و نیم - یازده
- (۲) هفت و نیم - هشت و نیم - نه - ده
- (۳) هشت و نیم - نه و نیم - نه و نیم - ده
- (۴) هشت و نیم - نه و نیم - ده - یازده

(سراسری ۸۹)

۵۴- در رابطه با شکل‌گیری «شاخص دهک‌ها» کدام عبارت نادرست است؟

- (۱) برای تشکیل این معیار، مردم کشور را به ده گروه جمعیتی مساوی تقسیم می‌کنند.
- (۲) در طبقه‌بندی این ده دهک، سطح درآمد از کم‌ترین به بیش‌ترین مد نظر قرار می‌گیرد.
- (۳) در این شاخص، دهک اول که ده درصد جمعیت را تشکیل می‌دهند، بیش‌ترین درصد «درآمد ملی» را در اختیار دارند.
- (۴) برای سنجش «وضعیت توزیع درآمد» در جوامع چندین معیار متفاوت وجود دارد که یکی از این معیارهای ساده و مفید «شاخص دهک‌ها» است.

سهم دهک اول	۴ درصد
سهم دهک دوم	۵ درصد
سهم دهک سوم	۷ درصد
سهم دهک چهارم	۹ درصد
سهم دهک پنجم	۱۸ درصد
سهم دهک دهم	۲۱ درصد

۵۵- جدول مقابل، بیانگر وضعیت توزیع درآمد کشور C در سال ۱۹۹۰ میلادی است. ارائه کدام شاخص: (سراسری ۹۴)

- (الف) بیانگر نامناسب بودن «توزیع درآمد» در این کشور است؟
- (ب) «توزیع درآمد» را در این کشور «مناسب‌تر» نشان می‌دهد؟
- (ج) شاخصی که برای مقایسه «وضعیت توزیع درآمد» مورد استفاده قرار می‌گیرد، چگونه محاسبه می‌شود؟

- (۱) الف) نسبت دهک اول به دهک دهم (ب) نسبت ده درصد بالا به چهل درصد پایین
- (۲) الف) نسبت دهک دوم به دهک اول (ب) نسبت ده درصد بالا به چهل درصد پایین
- (۳) الف) نسبت بیست درصد بالا به بیست درصد پایین (ب) نسبت ده درصد پایین به چهل درصد بالا
- (۴) الف) نسبت بیست درصد پایین به بیست درصد بالا (ب) نسبت ده درصد پایین به چهل درصد بالا

۵۶- مندرجات جدول زیر، مبین وضعیت توزیع درآمد در یک کشور فرضی در سال ۱۹۸۰ میلادی براساس شاخص دهک‌هاست، چنانچه:

(خارج از کشور ۹۶)

سهم دهک اول	؟
سهم دهک دوم	۵ درصد
سهم دهک سوم	؟
سهم دهک چهارم	۷ درصد
سهم دهک پنجم	۷/۵ درصد
سهم دهک ششم	۸/۵ درصد
سهم دهک هفتم	؟
سهم دهک هشتم	۱۳ درصد
سهم دهک نهم	؟

تفاوت سهم دهک اول و دهم: ۱۹ درصد  
تفاوت سهام دهک دوم و نهم: ۹/۵ درصد  
تفاوت سهام دهک سوم و نهم: ۸/۵ درصد  
اگر تفاوت سهام دهک اول و هفتم ۷/۵ درصد باشد. در این صورت سهم دهک اول و سهم دهک سوم و سهم دهک هفتم و سهم دهک نهم، به ترتیب چند درصد است؟

- (۱) چهار - شش - یازده - چهارده
- (۲) چهار - شش - یازده و نیم - چهارده و نیم
- (۳) سه و نیم - شش و نیم - یازده - چهارده
- (۴) سه و نیم - شش و نیم - یازده و نیم - چهارده و نیم



۵۷- مندرجات جدول مقابل، بیانگر وضعیت توزیع درآمد در کشور A در سال ۱۹۸۰ میلادی براساس شاخص دهک‌ها است، چنان‌چه:

درآمد	دهک
؟	سهم دهک اول
؟	سهم دهک دوم
۶ درصد	سهم دهک سوم
۷ درصد	سهم دهک چهارم
۸ درصد	سهم دهک پنجم
۹ درصد	سهم دهک ششم
۱۰/۵ درصد	سهم دهک هفتم
۱۲/۵ درصد	سهم دهک هشتم
؟	سهم دهک نهم
؟	سهم دهک دهم
۱۰۰ درصد درآمد ملی	۱۰۰ درصد جمعیت کشور

(سراسری ۹۹)

تفاوت سهم دهک اول و چهارم: ۴ درصد

تفاوت سهام دهک دوم و هفتم: ۵/۵ درصد

تفاوت سهام دهک پنجم و نهم: ۷ درصد

تفاوت سهام دهک ششم و دهم: ۱۵ درصد باشد، در این صورت سهم دهک اول، دهک دوم و سهم دهک نهم و سهم دهک دهم به ترتیب چند درصد است؟

۱) سه - پنج - چهارده و نیم - بیست و سه و نیم

۲) سه - پنج - پانزده - بیست و چهار

۳) دو و نیم - شش - پانزده - بیست و سه و نیم

۴) دو و نیم - شش - پانزده - بیست و چهار

۵۸- در کدام گزینه، مؤلفه‌های شاخص توسعه انسانی نشان داده شده است؟

۱) میزان امید به زندگی در بدو تولد، میانگین سال‌های تحصیل، سرانه درآمد ناخالص ملی و شاخص‌های نابرابری تشکیل‌دهنده شاخص توسعه انسانی

۲) نرخ مرگ و میر نوزادان در بدو تولد، میانگین سال‌های تحصیل، سرانه درآمد ناخالص ملی، نرخ مرگ و میر نوزادان و تعداد دانشجویان کشور

۳) میزان امید به زندگی در بدو تولد، نرخ مرگ و میر نوزادان، تعداد دانشجویان کشور، نسبت درآمد خدمات به کشاورزی و درصد جمعیت شهرنشین

۴) نرخ مرگ و میر نوزادان، میانگین سال‌های تحصیل، ضریب به‌دست آوردن فرصت‌های شغلی و درآمد دهک‌های میانی جامعه به کل درآمد

۵۹- کدام گزینه نادرست است؟

۱) اگر معیارهای اندازه‌گیری رشد اقتصادی، یعنی رشد تولید ناخالص داخلی را با معیارهای اندازه‌گیری نابرابری درآمد و نیز سایر شاخص‌ها نظیر شاخص امید به زندگی، میزان سواد و یا شاخص‌های مربوط به بهداشت ترکیب کنیم، تصویری کامل‌تر از پیشرفت اقتصادی یک کشور به‌دست می‌آوریم.

۲) شاخص توسعه انسانی ترکیبی از شاخص‌هاست و از این‌رو تصویر بهتری از پیشرفت کشور ارائه می‌دهند.

۳) در گزارش توسعه انسانی، ایران در رتبه ۶۵ و جزو کشورهای با توسعه‌یافتگی بالا به شمار می‌رود.

۴) شاخص توسعه انسانی را با HDI و شاخص درآمد ناخالص ملی سرانه را با GNP نشان می‌دهند.

۶۰- کدام گزینه از موانع رشد و پیشرفت متوازن جامعه می‌باشد؟

۱) درآمدهای فعالیت‌های واسطه‌ای، درآمدهای فعالیت‌های خدماتی

۲) فعالیت‌های غیرمولد، زد و بندهای نامشروع و زیاده‌خواهی‌ها

۳) درآمدهایی که هیچ تولید کالایی به همراه ندارند.

۴) فعالیت‌های تولیدی با سود اقتصادی بالا

۶۱- به ترتیب عبارت‌های درست، نادرست، نادرست، درست و درست را مشخص کنید.

الف) شاخص‌های توسعه انسانی در کنار شاخص‌های رشد تولید، تصویر مناسب‌تری از پیشرفت یک کشور ارائه می‌کند.

ب) شاخص‌هایی مانند مبارزه با فساد، بهبود فضای کسب و کار، رشد علم و فناوری را در ارزیابی پیشرفت باید در نظر گرفت.

پ) تفاوت‌های بومی و محلی هیچ ربطی به شاخص‌های پیشرفت ندارد.

ت) در پیشرفت اقتصادی نباید به مؤلفه‌هایی مثل آداب و رسوم اهمیت دارد.

ث) عدالت اقتصادی و اجتماعی برای تمام کشورها و جوامع به یک میزان اهمیت دارد.

د) برخی از کشورها و سازمان‌های بین‌المللی در طول سده‌های گذشته، از شاخص‌های توسعه و همچنین نهادهایی که ظاهراً با هدف و توسعه اقتصادی به وجود آمده‌اند، برای تحمیل الگوها و سبک زندگی غربی استفاده کرده‌اند.

۱) الف، ب، پ، ت، ث (۲) د، ب، ث، پ، الف (۳) الف، پ، ت، د (۴) ت، پ، الف، د، ب

۶۲- کدام گزینه پاسخ درست سوالات زیر است؟

الف) الگوی بومی پیشرفت، چگونه الگویی است؟

ب) هدف شکل‌گیری الگوی پیشرفت اسلامی - ایرانی چیست؟

۱) الف) الگویی که با شرایط اقلیمی، تاریخی کشور سازگار باشد. ب) دستیابی به یک الگوی پیشرفت بومی که با فرهنگ ما سازگاری داشته باشد.

۲) الف) الگویی که با شرایط اقلیمی، تاریخی و کشور سازگار باشد. ب) رسیدن به بالاترین حد رشد و توسعه اقتصادی

۳) الف) الگویی که با شرایط رشد و پیشرفت و معیارهای جهانی هماهنگ باشد. ب) رسیدن به بالاترین حد رشد و توسعه اقتصادی

۴) الف) الگویی که با شرایط رشد و پیشرفت و معیارهای جهانی هماهنگ باشد. ب) دستیابی به یک الگوی پیشرفت بومی که با فرهنگ ما سازگاری داشته باشد.