

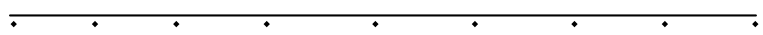
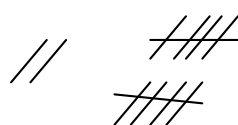
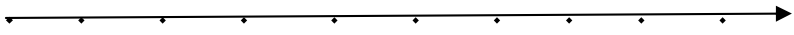
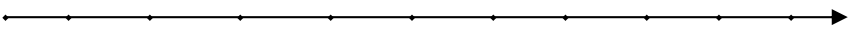



۳ نام و نام خانوادگی:	به نام خدای مهربان	آزمون بهمن ماه						
۱	، به اندازه ی عددنوشته شده چوب خط بکش .							
								
۲	بلندی مداد بین تا است .							
								
۳	باچوب خط ها دسته ی ده تایی درست کن و جدول را کامل کن و عدد مربوط به هر دسته را بنویس.							
	<table border="1" style="margin-left: auto; margin-right: auto;"> <tr> <td style="width: 50px; height: 40px;"></td> <td style="width: 50px; height: 40px;"></td> </tr> <tr> <td style="text-align: center;">ده تایی</td> <td style="text-align: center;">یکی</td> </tr> <tr> <td style="text-align: center;">.....</td> <td style="text-align: center;">.....</td> </tr> </table>			ده تایی	یکی	
ده تایی	یکی							
.....							
۴	باکمک محور جمع یا تفریق کن .							
		$6+2 = \dots\dots\dots$						
	۰ ۱ ۲ ۳ ۴ ۵ ۶ ۷ ۸ ۹							
		$7+2 = \dots\dots\dots$						
	۰ ۱ ۲ ۳ ۴ ۶ ۵ ۶ ۷ ۸ ۹							
۵	باتوجه به جمع نوشته شده مربع ها را با رنگ های مختلف رنگ کن و حاصل را بنویس.							
								
	$2+5+3+4 = \dots\dots\dots$							

انتظارات				
ن	ق	خ	خ	فراگیر عدد را با چوب خط به درستی نمایش می دهد.
ت	ق	خ	خ	فراگیر عدد را درست در جدول ارزش مکانی قرار می دهد.
				فراگیر مفهوم بین را در اندازه گیری به خوبی درک کرده است.
				فراگیر جمع و تفریق را به خوبی روی محور اعداد نشان می دهد.
				فراگیر جمع چند جمله ای را بر روی چینه به درستی انجام می دهد و پاسخ درست می نویسد .