

این فایل از کانال معلم یار چهارم دانلود شده است.  
برای حمایت از ما و دریافت نمونه سوالات یا پاسخنامه بیشتر  
در تلگرام آی دی زیر را جست و جو کنید

## معلم یار چهارم

نمونه سوال با پاسخنامه

درستنامه

فیلم های آموزشی

فیلم حل تعارین کتاب درسی

گام به گام

جزوه

برای دریافت مطالب کافی عضو کانال معلم یار چهارم

به آدرس: ▼▼

➤ @MoallemYariR4

بشید

ورود به کانال اصلی لمس کنید

در صورت قطع کله اینترنت کشور!

دوباره برمیگردم به سایت معلم یار و مطالب جدید و پایه به پایه تو سایت میفرستم



WwW.MoallemYar.iR



WwW.6Paye.iR



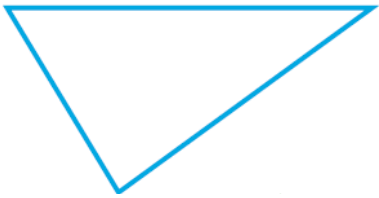
## بسمه تعالی

دبستان دولتی پسرانه دکتر حسابی مهرگان قزوین

آزمون ریاضی فصل ششم ، پایه چهارم ابتدایی

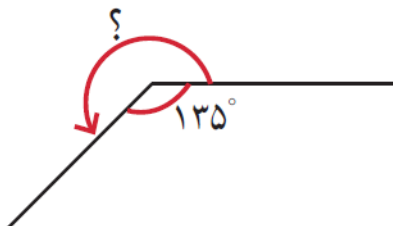
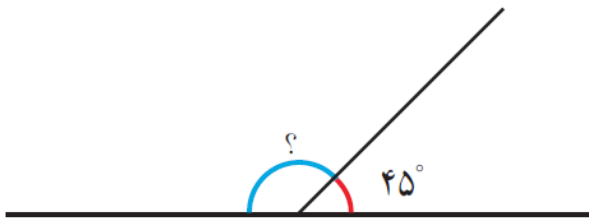
نام خانوادگی : ..... نام آموزگار : ..... تاریخ : ۹۴/۰۱/۱۷

۱- در شکل های زیر زاویه های راست را مشخص کنید :



۲- در شکل زیر ، اندازه ی زاویه ای را که با علامت ( ؟ ) مشخص شده است ، پیدا کنید :

$$\square + 45^\circ = 180^\circ$$



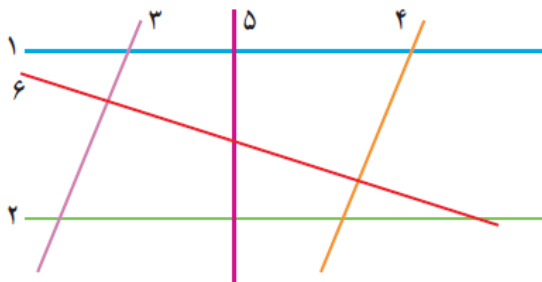
$$\square + 135^\circ = 360^\circ$$

۳- دو خط بر خط روبرو عمود رسم کنید :

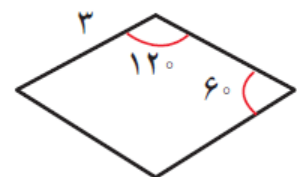



۴- به کمک گونیا بررسی کنید که کدام زاویه ها ، زاویه ی راست هستند ؟

سپس مشخص کنید که کدام خطها با هم موازی اند.



۵- در هر شکل ، اندازه ی بقیه ی ضلع ها و زاویه ها را پیدا کنید :



۷- جاهای خالی را با کلمات مناسب پر کنید :


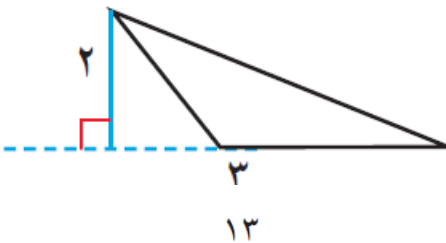
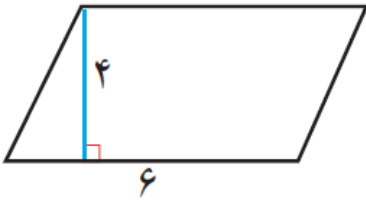
— به ضلعی که ارتفاع بر آن عمود شده است ، ..... می گویند .

— x — = مساحت متوازی الاضلاع .

— ( — x — ) ÷ ۲ = مساحت مثلث .

— به پاره خط هایی که از یک راس بر ضلع مقابل آن عمود رسم کرده اید ، ..... می گویند .

۸- مساحت شکل های داده شده را پیدا کنید :



۹ - مساحت مستطیل به طول ۱/۱ متر و عرض ۵۰ سانتی متر چند سانتی متر مربع است ؟

۱۰ - یک باغچه ی مستطیل شکل به طول ۳ و عرض ۲ متر داریم . می خواهیم دور این باغچه را نرده بکشیم . چند متر نرده برای دور باغچه لازم است ؟ باغبان نیمی از این باغچه را گل کاشته است . چند متر مربع را هنوز نکاشته است ؟

نیاز به تلاش بیشتر

قابل قبول

خوب

خیلی خوب

نظر آموزگار از کار شما :