

دبستان:	به نام خدا	آموزگار: تاریخ:
نام و نام خانوادگی:	آزمون فصل چهارم ریاضی	طراح: حسین تیموری / / ۱۴.....

۱- جاهای خالی را کامل کنید.

الف) ۷۰ سکه ی ۱ ریالی را می توان با سکه ی ۱۰ ریالی عوض کرد.

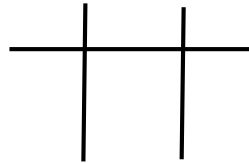


ب) ۱۰ سکه ی ۱۰ ریالی را می توان با سکه ی ۱۰۰ ریالی عوض کرد.

پ) ۴ سکه ی ۱۰۰ ریالی، ۶ سکه ی ۱۰ ریالی و ۷ سکه ی ۱ ریالی می شود، ریال

ت) ۷ دسته ی صدتایی، ۳ دسته ی ده تایی و ۶ یکی می شود:

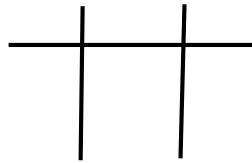
ث) ۹۲۸ عددی رقمی است که رقم صدگان آن ، رقم دهگان آن و رقم یکانش می باشد.

۲- عددی را که هر شکل نشان می دهد، در جدول قرار دهید و سپس به حروف بنویسید.



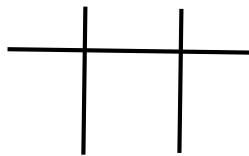
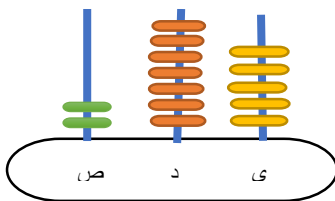
به رقم:

به حروف:



به رقم:


به حروف:



به رقم:

به حروف:

۳- با کارت های زیر هر چه می توانید، عدد سه رقمی بسازید و عدد های خواسته شده را پیدا کنید.



.....

الف) کوچک ترین عدد باشد: (ب) بزرگ ترین عدد باشد:

پ) عددهایی که جمع رقم یکان و دهگان آن ها برابر رقم صدگانشان باشد:

۴- عددهای زیر را به صورت باز شده (گسترده) بنویسید.

۳۶۰ =

۷۰۸ =

۹۸۱ =

۵- حاصل جمع و تفریق های زیر را به دست آورید.

۹۸

۱۰۴

+۸

-۹

۲۰+۸۰=.....

۱۰۰-۶۰=.....

.....

.....

۴۰۰+۳۰۰=.....

۸۰۰-۵۰۰=.....

۶- مجید در یک مسابقه ۹۶ امتیاز کسب کرده بود. او با انجام یک حرکت

درست، ۷ امتیاز دیگر به دست آورد. سپس با انجام یک حرکت اشتباه

۵ امتیاز از دست داد. او حالا چند امتیاز دارد؟



۷- مقدار پول چند ریال است؟ ریال

۸- ده تایی های قبل و بعد هر عدد را بنویسید. سپس دور عدد نزدیک تر را خط بکشید.

..... ← ۵۷۵ →

..... ← ۳۵۶ →

..... ← ۸۱۲ →

۹- ابتدا عدد ها را با حذف رقم یکان و دهگان به صورت تقریبی بنویسید و سپس آن ها را جمع و تفریق کنید.

۶۳۲ →


۵۴۰ →

- ۲۰۹ → -

+۴۲۵ → +

.....

.....



۱۰- به سوال های زیر پاسخ دهید.

نیم ساعت بعد از ساعت ۵:۳۰ چه ساعتی است؟

یک ربع بعد از ساعت ۹:۱۵ چه ساعتی است؟

۱۱- الگوهای عددی زیر را ادامه دهید.

۴۹۵ - ۴۹۶ - ۴۹۷ -

۸۵۴ - ۸۶۴ - ۸۷۴ -

۱۵۷ - ۲۵۷ - ۳۵۷ -

۱ - ۳ - ۶ - ۱۰ -

۱ - ۴ - ۹ - ۱۶ -

بازخورد آموزگار: