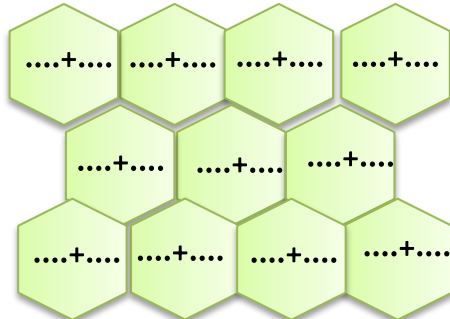


به نام خدا

سال تحصیلی ۹۳-۹۲


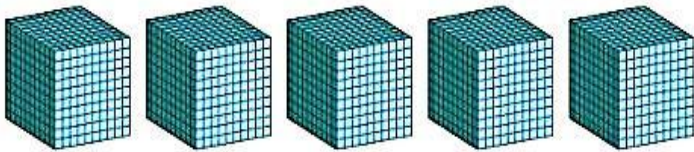
کلاس سوم ابتدایی

نام و نام خانوادگی:



۱. جمع های عدد ۱۰ را بنویسید.

۲. با توجه به شکل در جای خالی عدد و کلمه مناسب بنویس.



| هزارگان | صدگان | دهگان | یکان  |
|---------|-------|-------|-------|
| .....   | ..... | ..... | ..... |

به عدد .....

به حروف .....

۳. الگوهای زیر را ادامه دهید.

۲۶۰۰-۲۸۰۰-۳۰۰۰-.....-.....-.....-.....

.....-.....-.....-.....-۶۰۰۰-۶۵۰۰-۷۰۰۰

۲۵۰۰-۳۵۰۰-۴۵۰۰-.....-.....-.....-.....

۴. اعداد داخل جدول را به عدد و حروف بنویس.

|      |                     |      |
|------|---------------------|------|
| ۵۰۰۱ |                     | ۹۵۰۰ |
|      | دو هزار و سی و چهار |      |

۵. عدد های زیر را به صورت گسترده (باز شده) بنویس.  $۴۵۰۷ = \dots\dots\dots$

$۹۶۸۳ = \dots\dots\dots$

۶. زهرا یک خط کش به قیمت ۲۲۰ تومان و یک پاکن به قیمت ۴۲۵ تومان خرید. او یک اسکناس ۱۰۰۰ تومانی به فروشنده داد. فروشنده چند ریال به زهرا پس داد؟

۷. حاصل جمع و تفریق های زیر را بدست آورید.

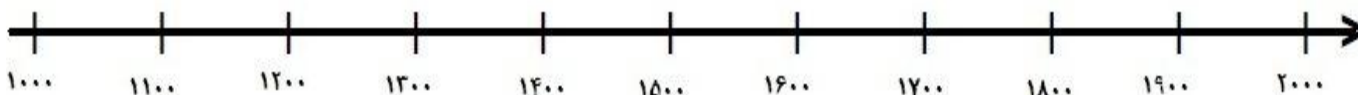
$$1000 + 1000 + 100 + 100 + 100 + 10 + 1 + 1 = \dots\dots\dots$$

$$3000 + 2000 + 100 + 300 + 50 = \dots\dots\dots$$

$$9000 - 2000 = \dots\dots\dots$$



۸. عدد های ۱۰۷۰، ۱۷۵۰، ۱۴۳۰، ۱۲۹۰ را به طور تقریبی بر روی محور نشان بده.



۹. در جای خالی علامت  $\langle = \rangle$  بگذار.

$$6000 - 3000 \quad \bigcirc \quad 2000 + 1000 + 800 + 700$$

$$5000 + 2000 + 400 + 900 \quad \bigcirc \quad 5400$$

۱۰. امید ورزشکار است. او هر روز فاصله ی خانه تا محل کار خور را پیاده می رود. فاصله خانه تا محل کارش ۲ کیلو متر است.  
او در یک رفت و برگشت چند متر راه می رود؟

۱۱. در جای خالی عدد مناسب بنویسید.

۳۴۰۰ سانتی متر برابر است با ..... متر و ..... سانتی متر.

۴۰۰۰ متر یعنی ..... کیلو متر .

۳ کیلو گرم و ۷۰۰ گرم برابر است با ..... گرم.



ارزیابی معلم: